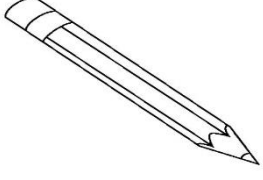











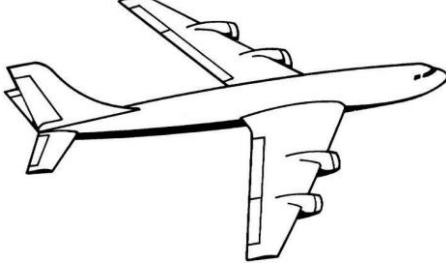

اسمي .....	فصلي ١ /	بنك أسئلة الفترة الأولى	مادة العلوم للسف الأول الابتدائي
------------	----------	----------------------------	-------------------------------------

## السؤال الأول: أختار المخلوقات الحية فقط بوضع علامة (√) ثم أونها


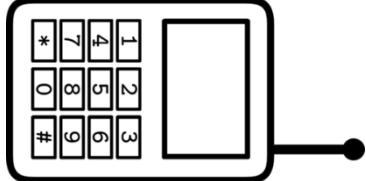

			١
قلم ( )	دولفين ( )	سلحفاة ( )	




			٢
كتاب ( )	فراشة ( )	قطار ( )	


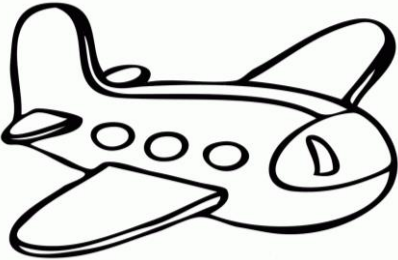

			٣
ضفدعة ( )	مصباح ( )	فيل ( )	


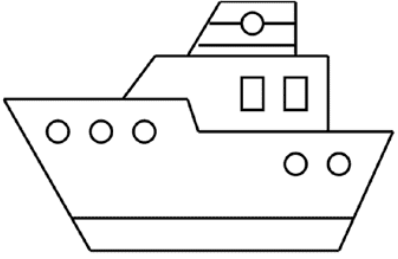
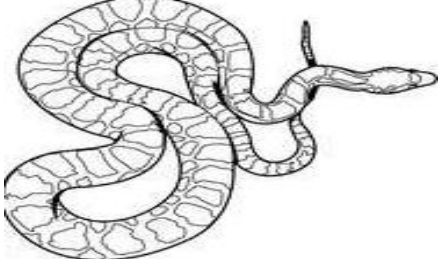
			٤
دجاجة ( )	طائرة ( )	شجرة ( )	

السؤال الثاني: أختار الأشياء غير الحية فقط بوضع علامة (√) ثم ألوّنها

			١
سيارة ( )	تليفون ( )	سمكة ( )	


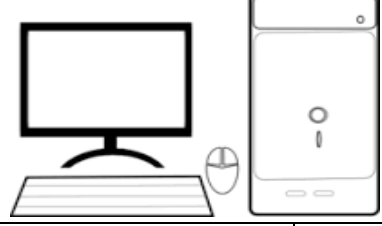




			٢
فرشاة ( )	جمل ( )	مفتاح ( )	

			٣
صقر ( )	طائرة ( )	نجم البحر ( )	


			٤
منزل ( )	سفينة ( )	ثعبان ( )	

**السؤال الثالث: أختار من الصور التالية الأشياء التي تحتاج إليها المخلوقات الحية لكي تنمو ثم أونها :**

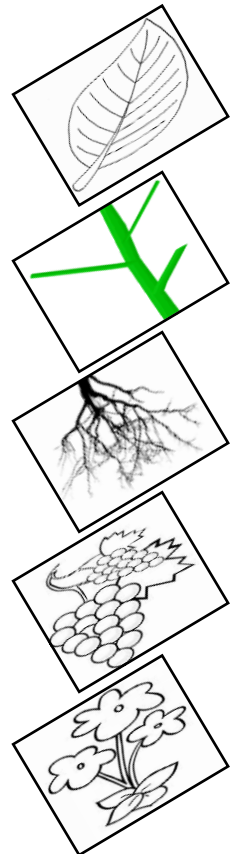
**☆ المخلوقات الحية تحتاج إلي :**

	٣		٢		١
الغذاء	( )	الحاسب الآلي	( )	الهواء	( )
	٦		٥		٤
ضوء الشمس	( )	الماء	( )	السيارة	( )

**السؤال الرابع: أصل كل جزء من أجزاء النبات باسمه المناسب:**



الجذور  
الساق  
الأوراق  
الأزهار  
الثمار



## السؤال الخامس: أصل كل جزء من أجزاء النبات بوظيفته:

تصنع الغذاء

تصنع البذور

تمتص الماء

تحمل الاوراق

تحمي البذور



## السؤال السادس: أصل بين كل نبات والبيئة التي يعيش بها:

أصل العمود الثاني بما يناسبه من العمودين الأول والثالث

نباتات كثيرة

أوراقها شوكية


تفقد الماء

تحتفظ بالماء

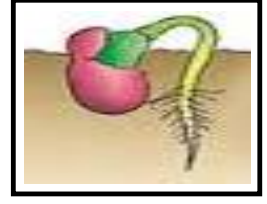
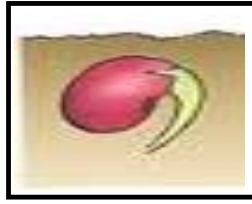
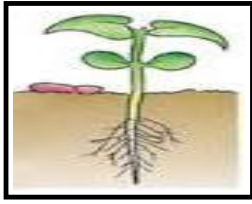
نباتات قليلة

نباتات الصحراء






نباتات الغابة



## السؤال السابع: أرتب بوضع الأرقام دورة حياة بذرة:



## السؤال الثامن: أصل بين الصورة والكلمة المناسبة:



طائر

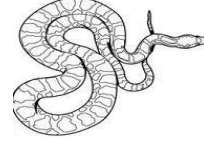




حشرة

برمائي

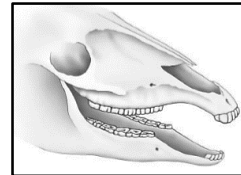
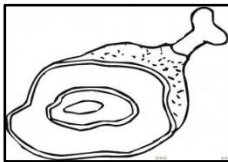
سمكة

ثديي

زاحف



## السؤال التاسع: أربط بين شكل أسنان الحيوان ونوع الطعام الذي يتناوله:



انتهت الأسئلة