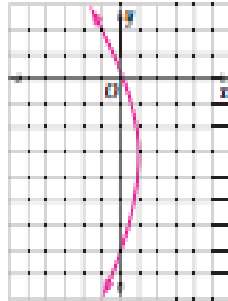



حدّد خصائص القطع المكافئ المعطاة معادلته في كلّ مما يأتي، ثمّ مثل منحاه بيانيًا:

$$y^2 + 6y + 9 = 12 - 12x \quad (2)$$



الرأس (1, -3) ؛ البؤرة (-2, -3) ؛
معادلة محور التماثل $y = -3$ ؛
معادلة الدليل $x = 4$

$$(x - 1)^2 = 8(y - 2) \quad (1)$$

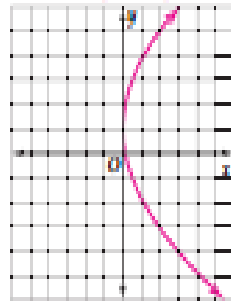


الرأس (1, 2) ؛ البؤرة (1, 4) ؛
معادلة محور التماثل $x = 1$ ؛
الدليل $y = 0$

اكتب معادلة القطع المكافئ الذي يحقق الخصائص المعطاة في السؤالين 3، 4، ثمّ مثل منحاه بيانيًا.

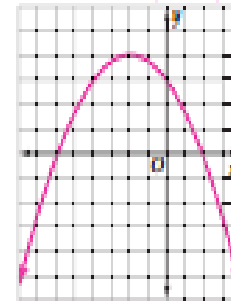
4 الرأس (0, 1) ؛ مفتوح أفقيًا إلى اليمين،
ويمر بالنقطة (8, -7).

$$(y - 1)^2 = 8x$$



3 الرأس (-2, 4) ، والبؤرة (-2, 3)

$$(x + 2)^2 = -4(y - 4)$$



5 اكتب المعادلة $x^2 + 8x = -4y - 8$ على الصورة القياسية للقطع المكافئ، ثمّ حدّد خصائصه.

$$(x + 4)^2 = -4(y - 2) ; (-4, 2) ; (-4, 1) ; x = -4 ; y = 3$$

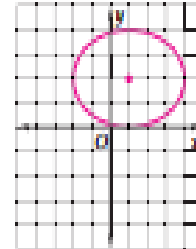
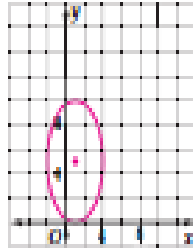
6 قمر اصطناعي، افترض أن طيفًا هوائيًا على شكل قطع مكافئ، بحيث يبعد المستقبل 2 ft عن الرأس، ويقع في البؤرة. افترض أن الرأس عند نقطة الأصل، وأن الطيف موجه إلى أعلى. أوجد معادلة تمثّل مقطعًا عرضيًا للطيف.

$$x^2 = 8y$$

حدّد خصائص القطع الناقص المعطاة معادلته في كلّ مما يلي، ثمّ مثل منحاه بيانيًا:

$$25x^2 + 9y^2 - 50x - 90y + 25 = 0 \quad (2)$$

$$4x^2 + 9y^2 - 8x - 36y + 4 = 0 \quad (1)$$



اكتب معادلة القطع الناقص الذي يحقق الخصائص المعطاة في كلّ مما يأتي:

(3) الرأسان (4, 6), (-12, 6)، والبؤرتان (2, 6), (-10, 6)

$$\frac{(x+4)^2}{64} + \frac{(y-6)^2}{28} = 1$$

(4) البؤرتان (-2, 7), (-2, 1)، وطول المحور الأكبر 10 وحدات.

$$\frac{(y-4)^2}{25} + \frac{(x+2)^2}{16} = 1$$

حدّد الاختلاف المركزي للقطع الناقص المعطاة معادلته في السؤالين الآتيين:

$$\frac{(y+2)^2}{64} + \frac{(x+1)^2}{9} = 1 \quad (6)$$

$$\frac{\sqrt{55}}{8}$$

$$\frac{(x+1)^2}{25} + \frac{(y+1)^2}{16} = 1 \quad (5)$$

$$\frac{3}{5}$$

اكتب معادلة الدائرة التي تحقق الخصائص المعطاة في كلّ مما يأتي:

(7) المركز (-6, 1)، والنظر 8. $(x+6)^2 + (y-1)^2 = 64$

(8) المركز هو نقطة الأصل، ونصف القطر 3. $x^2 + y^2 = 9$

(9) النقطتان (-4, 1), (2, 3) طرفا قطر فيها. $(x+1)^2 + (y-2)^2 = 40$

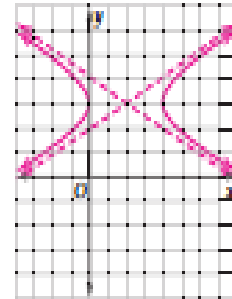
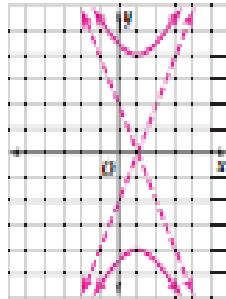
(10) نجارة، يُستعمل قوس على شكل نصف قطع ناقص لتصميم لوحة رأسية لإطار سرير، ويساوي ارتفاع اللوحة

الرأسية عند المركز 2 ft، وعرضها 5 ft عند القاعدة. فأين يجب أن يضع النجار البؤرتين لتصميم اللوحة؟

1.5 ft على جانبي المركز

حدّد خصائص القطع الزائد المعطاة معادلته في كلٍّ مما يلي، ثمّ مثلّ منحاه بيانيًا:

$$\frac{y^2}{16} - \frac{(x-1)^2}{4} = 1 \quad (2) \qquad x^2 - 4y^2 - 4x + 24y - 36 = 0 \quad (1)$$



اكتب معادلة القطع الزائد الذي يحقق الخصائص المعطاة في كلٍّ مما يأتي:

- (3) الرأسان $(-10, 6)$, $(4, 6)$ والبؤرتان $(-12, 6)$, $(6, 6)$
 (4) البؤرتان $(0, 6)$, $(0, -4)$ وطول المحور القاطع 8 وحدات.

$$\frac{(y-1)^2}{16} - \frac{x^2}{9} = 1$$

$$\frac{(x+3)^2}{49} - \frac{(y-6)^2}{32} = 1$$

(5) حدّد الاختلاف المركزي للقطع الزائد الذي معادلته $\frac{(x-7)^2}{36} - \frac{(y+10)^2}{121} = 1$

$$\frac{\sqrt{157}}{6}$$

- (6) صوت، المسافة بين بيتي صديقين ميل واحدًا، وقد سمعا صوت طائرة في أثناء حديثهما معًا على الهاتف، وقد سمع أحدهما الصوت قبل الآخر بتأنيين. إذا كانت سرعة الصوت 1100 ft/s ، فاكتب معادلة القطع الزائد الذي يحدّد موقع الطائرة.

$$\frac{x^2}{1210000} - \frac{y^2}{5759600} = 1$$

حدّد نوع القطع المخروطي الذي تمثّله كل معادلة مما يأتي دون كتابتها على الصورة القياسية:

$$16x^2 - 4y^2 - 8x - 8y + 1 = 0 \quad (2) \quad 5x^2 + xy + 2y^2 - 5x + 8y + 9 = 0 \quad (1)$$

قطع زائد

قطع ناقص

$$2x^2 + 4y^2 - 3x - 6y + 2 = 0 \quad (4) \quad 4x^2 + 8xy + 4y^2 + x + 11y + 10 = 0 \quad (3)$$

قطع ناقص

قطع مكافئ

استعمل قيمة θ المعطاة لكتابة الصورة القياسية لكل معادلة مما يأتي في المستوى $x'y'$ ، ثم حدّد نوع القطع المخروطي الذي تمثّله:

$$x^2 + 5xy - y^2 - 5 = 0; \theta = 90^\circ \quad (6)$$

$$xy = 1; \theta = \frac{\pi}{4} \quad (5)$$

$$\frac{(y')^2}{5} - x'y' - \frac{(x')^2}{5} = 1$$

$$\frac{1}{2}(x')^2 - \frac{1}{2}(y')^2 - 1 = 0$$

قطع زائد

قطع زائد

اكتب معادلة القطع المخروطي لكل مما يأتي في المستوى xy بناءً على معادلته المعطاة في المستوى $x'y'$ والزوايا θ .

$$\frac{(x')^2}{25} - \frac{(y')^2}{4} = 1; \theta = \frac{\pi}{3} \quad (8)$$

$$(x')^2 = 16(y'); \theta = 45^\circ \quad (7)$$

$$-71y^2 + 58\sqrt{3}xy - 13x^2 = 400$$

$$x^2 + 16\sqrt{2}x + 2xy - 16\sqrt{2}y + y^2 = 0$$

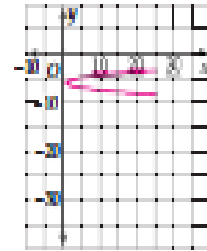
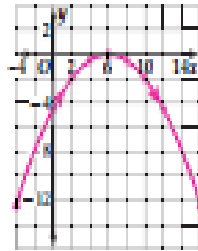
(9) اتصالات، إذا كانت معادلة منقطع طبق قعر اصطاعي متحكّم في موجات مذبذب بدوران 45° في المستوى $x'y'$ هي $5x'^2 + 3y'^2 - 2y' = 0$ ، فاكتب معادلة هذا القطع في المستوى xy .

$$4x^2 + 2xy + 4y^2 + \sqrt{2}x - \sqrt{2}y = 0$$

مثل بيانياً المنحنى المُعطى بالمعادلتين الوسيّتين على الفترة المعطاة في كلٍّ مما يأتي بيانياً:

$$x = 2t + 6, y = -\frac{t^2}{2}; -5 \leq t \leq 5 \quad (2)$$

$$x = t^2 + 1, y = \frac{t}{2} - 6; -5 \leq t \leq 5 \quad (1)$$



اكتب كل معادلتين وسيّتين فيما يأتي بالصورة الديكارتية:

$$x = t + 5, y = -3t^2 \quad (4)$$

$$x = 2t + 3, y = t - 4 \quad (3)$$

$$y = -3(x - 5)^2$$

$$y = \frac{1}{2}x - \frac{11}{2}$$

$$y = 4 \sin \theta, x = 5 \cos \theta \quad (6)$$

$$x = 3 \sin \theta, y = 2 \cos \theta \quad (5)$$

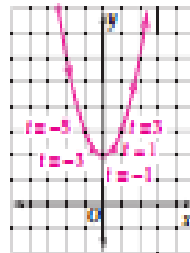
$$\frac{y^2}{16} + \frac{x^2}{25} = 1$$

$$\frac{x^2}{9} + \frac{y^2}{4} = 1$$

استعمل المتغير الوسيط في كلٍّ مما يأتي لكتابة المعادلتين الوسيّتين اللتين تمثلان المعادلة الديكارتية المعطاة، ثم مثل المنحنى بيانياً موضحاً السرعة والاتجاه.

$$t = 4x - 1, y = x^2 + 2 \quad (8)$$

$$t = \frac{2-x}{3}, y = \frac{3-x^2}{2} \quad (7)$$



(9) مقذوفات، يطلق محمود لعبة صاروخية من مستوى الأرض بسرعة ابتدائية مقدارها 80 ft/s، وبزاوية 80° مع الأفق.

(8) اكتب معادلتين وسيّتين لتمثيل مسار الصاروخ.

$$x = 80t \cos 80^\circ; y = 80t \sin 80^\circ - 16t^2$$

(b) ما الزمن اللازم للصاروخ لقطع مسافة أفقية مقدارها 10 feet من نقطة البداية؟ وما المسافة الرأسية عند هذه النقطة؟

$$0.72 \text{ s}; 48.43 \text{ ft}$$