

أَسْتَغْمِلُ ، وَأَبْدَأُ بِالْعَدَدِ الْأَكْبَرِ، ثُمَّ أَعُدُّ تَصَاعُدِيًّا لِأَجْدَ نَاتِجِ الْجَمْعِ:

صفحة ١٧

$$\overset{6}{\dots} = 2 + 4 \quad \text{②}$$

$$\overset{9}{\dots} = 3 + 6 \quad \text{①}$$

$$\overset{7}{\dots} = 2 + 5 \quad \text{④}$$

$$\overset{11}{\dots} = 8 + 3 \quad \text{③}$$

$$\overset{5}{\dots} = 4 + 1 \quad \text{⑥}$$

$$\overset{10}{\dots} = 7 + 3 \quad \text{⑤}$$

$$\overset{8}{\dots} = 5 + 3 \quad \text{⑧}$$

$$\overset{3}{\dots} = 1 + 2 \quad \text{⑦}$$

$$\begin{array}{r} 6 \\ 2 + \\ \hline 8 \end{array} \quad \text{⑫}$$

$$\begin{array}{r} 1 \\ 5 + \\ \hline 6 \end{array} \quad \text{⑪}$$

$$\begin{array}{r} 6 \\ 7 + \\ \hline 9 \end{array} \quad \text{⑩}$$

$$\begin{array}{r} 3 \\ 4 + \\ \hline 7 \end{array} \quad \text{⑨}$$

$$\begin{array}{r} 7 \\ 1 + \\ \hline 8 \end{array} \quad \text{⑬}$$

$$\begin{array}{r} 2 \\ 2 + \\ \hline 4 \end{array} \quad \text{⑮}$$

$$\begin{array}{r} 9 \\ 2 + \\ \hline 11 \end{array} \quad \text{⑭}$$

$$\begin{array}{r} 3 \\ 3 + \\ \hline 6 \end{array} \quad \text{⑰}$$

أَعُدُّ تَصَاعُدِيًّا لِأَجْدَ نَاتِجِ الْجَمْعِ، ثُمَّ أَكْتُبُ جُمْلَةَ الْجَمْعِ:

⑱ يَلْعَبُ 9 طُلَّابٍ كُرَةَ السَّلَةِ، انْضَمَّ إِلَيْهِمْ طَالِبَانِ آخَرَانِ. مَا عَدَدُ الطُّلَّابِ الَّذِينَ يَلْعَبُونَ كُرَةَ السَّلَةِ الْآنَ؟

⑲ اصْطَفَى 6 طُلَّابٍ فِي صَفٍّ، ثُمَّ اصْطَفَى 3 آخَرُونَ. مَا عَدَدُ الطُّلَّابِ فِي الصَّفِّ الْآنَ؟

$$\dots = 2 + 9 \quad \text{طَالِبَانِ}$$

$$9 = 3 + 6$$



أَسْتَعْمِلُ خَطَّ الأَعْدَادِ لِأَجْدِ نَاتِجِ الجَمْعِ:



صفحة ١٨

$$7 = 1 + 6$$

$$9 = 1 + 8$$

$$11 = 2 + 9$$

$$6 = 2 + 4$$

$$6 = 1 + 5$$

$$9 = 2 + 7$$

$$8 = 2 + 6$$

$$7 = 2 + 5$$

$$8 = 1 + 7$$

$$\begin{array}{r} 3 \\ + 1 \\ \hline 4 \end{array}$$

$$\begin{array}{r} 4 \\ + 1 \\ \hline 5 \end{array}$$

$$\begin{array}{r} 3 \\ + 2 \\ \hline 5 \end{array}$$

$$\begin{array}{r} 9 \\ + 1 \\ \hline 10 \end{array}$$

$$\begin{array}{r} 8 \\ + 2 \\ \hline 10 \end{array}$$

$$\begin{array}{r} 8 \\ + 3 \\ \hline 11 \end{array}$$

$$\begin{array}{r} 3 \\ + 3 \\ \hline 6 \end{array}$$

$$\begin{array}{r} 4 \\ + 3 \\ \hline 7 \end{array}$$

$$\begin{array}{r} 3 \\ + 7 \\ \hline 10 \end{array}$$

$$\begin{array}{r} 9 \\ + 3 \\ \hline 12 \end{array}$$

أَسْتَعْمِلُ خَطَّ الأَعْدَادِ لِأَجْدِ الحَلِّ:


٧ في الحَظِيرَةِ ٥ خِرَافٍ، إِذَا انْضَمَّ
إِلَيْهَا ٣ خِرَافٍ أُخْرَى، فَمَا عَدَدُ
الخِرَافِ فِي الحَظِيرَةِ الآنَ؟

..... خِرَافٍ ٨

٦ يَلْعَبُ ٣ أَطْفَالٍ، إِذَا انْضَمَّ إِلَيْهِمْ
طِفْلَانِ، فَمَا عَدَدُ الأَطْفَالِ الَّذِينَ
يَلْعَبُونَ الآنَ؟

..... أَطْفَالٍ ٥



أَسْتَعْمِلُ  ، وَأَعِدُّ تَنَازُلِيًّا لِأَجِدَ نَائِجَ الطَّرْحِ :

١ ٧ ، ٦ ٢ ، ٩ ، ٨ ، ٧ ، ٦

٩ - ٣ = ٦

٧ - ١ = ٦

٤ ، ٥ ، ٦ ٤

١٠ ، ٢ ، ٣ ، ٤ ٣

٤ = ٢ - ٦

١ = ٣ - ٤

٧ = ١ - ٨ ٦

٨ = ٣ - ١١ ٥

٥ = ٣ - ٨ ٨

٣ = ٢ - ٥ ٧

٧ = ٣ - ١٠ ١٠

٩ = ٢ - ١١ ٩

٨ = ١ - ٩ ١٢

٤ = ٣ - ٧ ١١

أَسْتَعْمِلُ  ، وَأَعِدُّ تَنَازُلِيًّا لِأَحْلِلَ الْمَسْأَلَةَ ، ثُمَّ أَكْتُبُ جُمْلَةَ الطَّرْحِ :

١٣ في وعاء العصير ٩ أكوابٍ ،

إذا شرب ٣ منها ، فكم كوبًا بقي؟

١٤ لدى حسين ٦ أقلامٍ ، إذا أهدى

صديقه قلمين ، فكم قلمًا بقي لديه؟

٦ - ٢ = ٤ أقلامٍ

٩ - ٣ = ٦ أكوابٍ

أَكْتَبُ جُمْلَةً عَدَدِيَّةً لِأَحَلِّ الْمَسْأَلَةَ:

١ يقودُ وَالِدِي سَيَارَتَهُ مُتَّجِهَاً إِلَى مَنطَقَةِ تَبْعُدُ ١٠ كِيلُو مِثْرَاتٍ. إِذَا قَطَعَ مَسَافَةً

٦ كِيلُو مِثْرَاتٍ فَقَطْ، فَكَمْ كِيلُو مِثْرًا بَقِيَ؟

$$١٠ - ٦ = ٤ \text{ كِيلُو مِثْرَاتٍ}$$

صفحة ٢٠

٢ مَعَ مُحَمَّدٍ ٧ كُرَاتٍ. إِذَا أَعْطَتْهُ أُمُّهُ ٣ كُرَاتٍ أُخْرَى، فَكَمْ كُرَةً أَصْبَحَتْ مَعَهُ؟

$$٧ + ٣ = ١٠ \text{ كُرَاتٍ}$$

٣ لَدَى دُنْيَا ٦ حَقَائِبٍ. إِذَا أَهَدَتْ أُخْتَهَا حَقِيْبَتَيْنِ مِنْهَا، فَكَمْ حَقِيْبَةً بَقِيَتْ لَدَيْهَا؟

$$٦ - ٢ = ٤ \text{ حَقَائِبٍ}$$

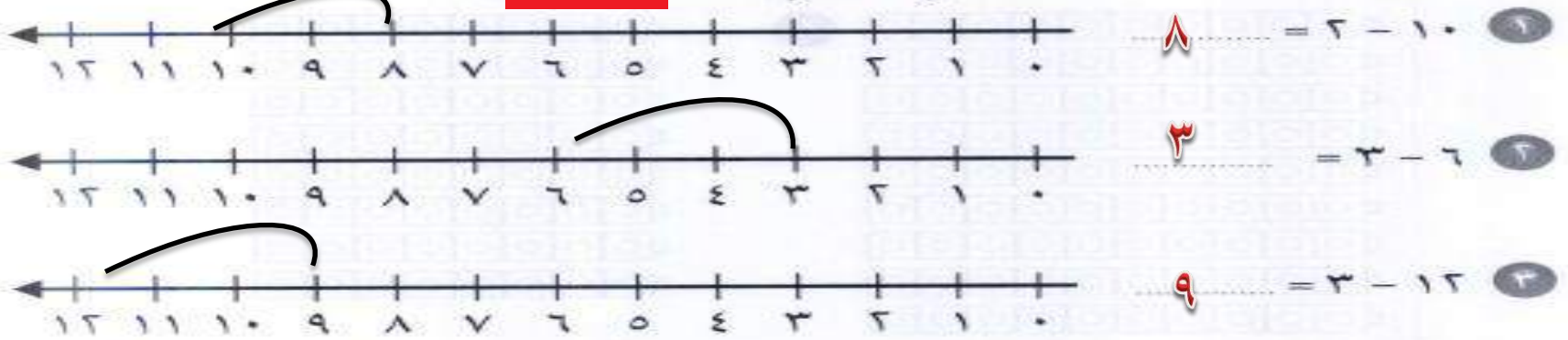
٤ صَنَعَتْ وَالِدَةُ هُدَى ١٢ شَطِيرَةً، إِذَا قَدَّمَتْ فِي الْقُطُورِ ٦ مِنْهَا، وَفِي الْعِشَاءِ

٦ أُخْرَى، فَكَمْ شَطِيرَةً بَقِيَتْ لَدَيْهَا؟

$$١٢ - ٦ - ٦ = ٠ \text{ شَطِيرَةً}$$

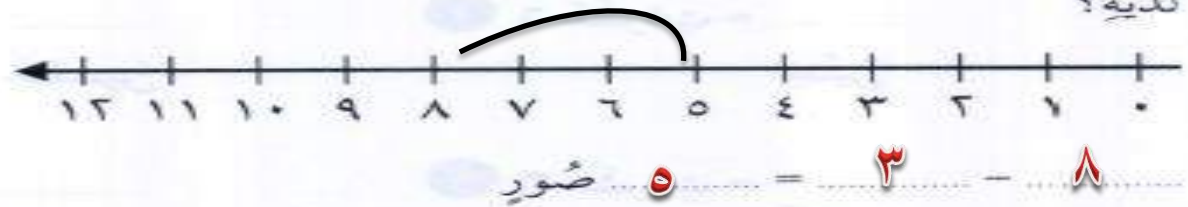


أَسْتَعْمِلُ حَظًّا الْأَعْدَادِ لِأَجْدِ نَاتِجِ الطَّرْحِ:



أَسْتَعْمِلُ حَظًّا الْأَعْدَادِ لِأَحْلُ الْمَسْأَلَتَيْنِ الْآتِيَتَيْنِ:

٤ لَوْنِ أَنْسِ ٨ صُورٍ مِنْ كِتَابِ الْأَلْوَانِ، إِذَا أُعْطِيَ زُمَلَاءَهُ ٣ صُورٍ مِنْهَا، فَكَمْ صُورَةً بَقِيَتْ لَدَيْهِ؟



٥ فِي الثَّلَاجَةِ ٦ عُلْبِ عَصِيرٍ، إِذَا شَرِبَ عَلِيٌّ عُلْبَتَيْنِ مِنْهَا، فَمَا عَدَدُ الْعُلْبِ الَّتِي بَقِيَتْ؟



- ١ ١٦ آخَادًا = ٦ آخَادٍ وَ ١ عَشْرَاتٍ = ١٦
- ٢ ٢٢ آخَادًا = ٢ آخَادٍ وَ ٢ عَشْرَاتٍ = ٢٢
- ٣ ٣٣ آخَادًا = ٣ آخَادٍ وَ ٣ عَشْرَاتٍ = ٣٣
- ٤ ٤١ آخَادًا = ١ آخَادٍ وَ ٤ عَشْرَاتٍ = ٤١
- ٥ ٣٠ آخَادًا = ٠ آخَادٍ وَ ٣ عَشْرَاتٍ = ٣٠
- ٦ ٥٨ آخَادًا = ٨ آخَادٍ وَ ٥ عَشْرَاتٍ = ٥٨

أَحُلِّ المسَآلَتَيْنِ التَّآلِيَتَيْنِ:

٧ وَضَعْتُ سَارَةَ ٣٠ قَلَمًا فِي عُلْبَةٍ، وَوَضَعْتُ قَلَمَيْنِ فِي عُلْبَةٍ أُخْرَى.

كَمْ قَلَمًا وَضَعْتُ فِي العُلْبَتَيْنِ؟

٣٢ آخَادًا = ٢ آخَادٍ وَ ٣ عَشْرَاتٍ.

٨ مَا العَدَدُ الَّذِي فِيهِ ٤ آخَادٍ وَ ٦ عَشْرَاتٍ؟ ٤٦



أَحْلُ الْمَسَائِلِ التَّالِيَةِ بِالتَّخْمِينِ ثُمَّ التَّحْقِيقِ:

صفحة ٢٣

١ في المَدْرَسَةِ ٥ فَرَقٍ لِلسَّبَاحَةِ. إِذَا كَانَ فِي كُلِّ فِرْقَةٍ ٤ طُلَّابٍ، فَكَمْ طَالِبًا فِي الْفِرَقِ الْخَمْسَةِ؟

٢٠ طَالِبًا

٢ في الصُّنْدُوقِ ٤ رُزْمٍ مِنَ الْكُتُبِ. إِذَا كَانَ فِي كُلِّ رُزْمَةٍ ٧ كُتُبٍ، فَمَا عَدَدُ الْكُتُبِ فِي الصُّنْدُوقِ؟

٢٨ كِتَابًا

٣ فِي الصَّفِّ ٢٢ طَالِبًا. إِذَا انْقَسَمُوا بِالتَّسَاوِي إِلَى فَرِيقَيْنِ فِي حِصَّةِ التَّرْبِيَةِ الْبَدَنِيَّةِ، فَمَا عَدَدُ الطُّلَّابِ فِي كُلِّ فَرِيقٍ؟

١١ طَالِبًا

٤ وَضَعَ مُوظَّفُ الْبَرِيدِ ٤٠ رِسَالَةً فِي ٥ صِنَادِيقٍ. إِذَا وَضَعَ الْعَدَدُ نَفْسَهُ فِي كُلِّ صُنْدُوقٍ، فَكَمْ رِسَالَةً وَضَعَ فِي الصُّنْدُوقِ؟

٨ رِسَائِلَ



أَكْتُبُ عَدَدَ الْآحَادِ وَالْعَشْرَاتِ، ثُمَّ أَقْرَأُ الْعَدَدَ وَأَكْتُبُهُ.

٩ آحَادٍ ٤ عَشْرَاتٍ

أَقُولُ: تِسْعَةٌ وَأَرْبَعُونَ

أَكْتُبُ: ٤٩

عَشْرَاتٍ	آحَادٍ
□□□□□□□□□□	□
□□□□□□□□□□	□ □
□□□□□□□□□□	□ □
□□□□□□□□□□	□ □

٣ آحَادٍ ٣ عَشْرَاتٍ

أَقُولُ: ثَلَاثَةٌ وَثَلَاثُونَ

أَكْتُبُ: ٣٣

عَشْرَاتٍ	آحَادٍ
□□□□□□□□□□	□
□□□□□□□□□□	□
□□□□□□□□□□	□

٧ آحَادٍ ١ عَشْرَاتٍ

أَقُولُ: سَبْعَةٌ عَشْرَ

أَكْتُبُ: ١٧

عَشْرَاتٍ	آحَادٍ
□□□□□□□□□□	□
	□
	□ □
	□ □

أَحُلُّ الْمَسْأَلَةَ التَّالِيَةَ:

٤ لَدَى عَبْدِ اللَّهِ ١٣ نَجْمَةٌ لِاصِقَةَ، أَعْطَاهُ صَدِيقُهُ ١٠ نَجْمَاتٍ أُخْرَى.

كَمْ نَجْمَةٌ صَارَتْ لَدَى عَبْدِ اللَّهِ؟

٢٣ نَجْمَةٌ لِاصِقَةَ

اَكْتُبْ عَدَدَ الْاَحَادِ وَالْعَشْرَاتِ، ثُمَّ اَكْتُبِ الْعَدَدَ وَاَقْرُؤْهُ:

٧ أَحَادٍ ٧ عَشْرَاتٍ

اَكْتُبْ: ٧٧
اَقُولُ: سَبْعَةٌ وَسَبْعُونَ

عَشْرَاتٌ	أَحَادٌ

٣ أَحَادٍ ٨ عَشْرَاتٍ

اَكْتُبْ: ٨٣
اَقُولُ: ثَلَاثَةٌ وَثَمَانُونَ

عَشْرَاتٌ	أَحَادٌ

٥ أَحَادٍ ٦ عَشْرَاتٍ

اَكْتُبْ: ٦٥
اَقُولُ: خَمْسَةٌ وَسِتُّونَ

عَشْرَاتٌ	أَحَادٌ

٨ أَحَادٍ ٢ عَشْرَاتٍ

اَكْتُبْ: ٢٨
اَقُولُ: ثَمَانِيَةٌ وَعِشْرُونَ

عَشْرَاتٌ	أَحَادٌ



أَعُدُّ العَشْرَاتِ وَأَقْدُرُ العَدَدَ، ثُمَّ أَعُدُّ لِأَجَدِ العَدَدَ الحَقِيقِيَّ:

صفحة ٢٦

٦٠ التَّقْدِيرُ:
٦٠ العَدَدُ الحَقِيقِيَّ:

١

○	○	○	○	○	○	○	○	○	○	○
○	○	○	○	○	○	○	○	○	○	○
○	○	○	○	○	○	○	○	○	○	○
○	○	○	○	○	○	○	○	○	○	○
○	○	○	○	○	○	○	○	○	○	○
○	○	○	○	○	○	○	○	○	○	○

٥٠ التَّقْدِيرُ:
٥٩ العَدَدُ الحَقِيقِيَّ:

٢

○	○	○	○	○	○	○	○	○	○	○
○	○	○	○	○	○	○	○	○	○	○
○	○	○	○	○	○	○	○	○	○	○
○	○	○	○	○	○	○	○	○	○	○
○	○	○	○	○	○	○	○	○	○	○

٢٠ التَّقْدِيرُ:
٢٧ العَدَدُ الحَقِيقِيَّ:

٣

○	○	○	○	○	○	○	○	○	○	○
○	○	○	○	○	○	○	○	○	○	○
○	○	○	○	○	○	○	○	○	○	○
○	○	○	○	○	○	○	○	○	○	○
○	○	○	○	○	○	○	○	○	○	○

أَحُلِّ المسْأَلَةَ التَّالِيَةَ:

٤ لَدَى خَالِدٍ ١٠ كُرَاتٍ زُجَاجِيَّةٍ، وَلَدَى يَاسِرٍ ٩ كُرَاتٍ زُجَاجِيَّةٍ.

أَقْدُرُ عَدَدَ الكُرَاتِ الزُّجَاجِيَّةِ لَدَيْهِمَا ٢٠

أَكْتُبُ العَدَدَ الحَقِيقِيَّ: ١٩



أَحْوِطُ بِالْإِجَابَةِ الصَّحِيحَةِ، ثُمَّ أَكْتُبُ (< أَوْ > أَوْ =) فِي ○ : ائْتِنَا شُكْرًا

٢٢ أَكْبَرُ مِنْ ٢٥ ①

٢٢ أَصْغَرُ مِنْ ٢٥

٢٢ يُسَاوِي ٢٥

٢٢ > ٢٥

٧٢ يُسَاوِي ٤٤ ④

٧١ أَكْبَرُ مِنْ ٤٤

٧٢ أَصْغَرُ مِنْ ٤٤

٧٢ < ٤٤

١٤ أَكْبَرُ مِنْ ٢٩ ①

١٤ أَصْغَرُ مِنْ ٢٩

١٤ يُسَاوِي ٢٩

١٤ > ٢٩

١٥ يُسَاوِي ١٥ ③

١٥ أَكْبَرُ مِنْ ١٥

١٥ أَصْغَرُ مِنْ ١٥

١٥ = ١٥

أَكْتُبُ (< أَوْ > أَوْ =) :

٧٧ < ٢٥ ⑥

٣٦ > ٦٣ ⑧

٣٦ > ٣٨ ⑤

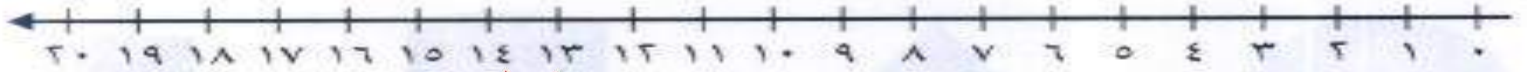
٥٤ < ٤٥ ⑦

أَحُلِّ الْمَسْأَلَتَيْنِ التَّالِيَتَيْنِ:

٩ لَدَى مُحَمَّدٍ مَجْمُوعَةٌ مِنَ الْأُورَاقِ عَدَدُهَا أَكْبَرُ مِنْ ١٢ وَأَصْغَرُ مِنْ ١٤. مَا عَدَدُ الْأُورَاقِ الَّتِي لَدَى مُحَمَّدٍ؟ ١٣

١٠ لَدَى فَاطِمَةَ وَسَلْوَى عَدَدٌ مِنَ الْخَرَزَاتِ يَتَكَوَّنُ مِنْ ٣ آحَادٍ وَ ٢ عَشْرَاتٍ. قَالَتْ فَاطِمَةُ: إِنَّ عَدَدَ الْخَرَزَاتِ أَكْبَرُ مِنْ ١٩، بَيْنَمَا قَالَتْ سَلْوَى: إِنَّ عَدَدَ الْخَرَزَاتِ أَصْغَرُ مِنْ ٢٢. أَيُّهُمَا قَوْلُهَا صَحِيحٌ؟ فاطمة لان ٢٣ > ١٩

اَكْتُبِ العَدَدَ الَّذِي يَسْبِقُ مُبَاشَرَةً:



صفحة ٢٨

١٤ ، ١٥ ٢

١٨ ، ١٧ ١

١٩ ، ١٨ ٤

١١ ، ١٠ ٣

اَكْتُبِ العَدَدَ الَّذِي يَلِي مُبَاشَرَةً:



٣٧ ، ٣٦ ٦

٣٣ ، ٣٢ ٥

٣٠ ، ٢٩ ٨

٢٥ ، ٢٤ ٧

اَكْتُبِ العَدَدَ الوَاقِعَ بَيْنَ العَدَدَيْنِ:



٥٩ ، ٥٨ ١٠

٤٦ ، ٤٥ ٩

٥١ ، ٥٠ ١٢

٥٣ ، ٥٢ ١١

٥٦ ، ٥٥ ١٤

٤٢ ، ٤١ ١٣

٥٨ ، ٥٧ ١٦


٤١ ، ٤٠ ١٥

أَحْوِطُ الْكَلِمَةَ الْمُنَاسِبَةَ (أَطْوَلُ مِنْ أَوْ أَقْصَرُ مِنْ) لِأَقَارِنَ بَيْنَ الْأَطْوَالِ.

صفحة ٣٠



النَّمْلَةُ (أَطْوَلُ مِنْ أَقْصَرُ مِنْ) الدُّودَةُ.



قَلَمُ التَّخْطِيطِ (أَطْوَلُ مِنْ أَقْصَرُ مِنْ) قَلَمُ الرَّصَاصِ.



السَّوَارِ (أَطْوَلُ مِنْ أَقْصَرُ مِنْ) مَاسِكِ الشَّعْرِ.

أَكْتُبُ الْكَلِمَةَ الْمُنَاسِبَةَ (أَطْوَلُ مِنْ ، أَقْصَرُ مِنْ) لِأَقَارِنَ بَيْنَ الْأَطْوَالِ:



مِشْبِكِ الْوَرَقِ.

أطول من


قَلَمِ التَّلْوِينِ



الدَّبَاسَةِ.

أقصر من

مِشْبِكِ الْوَرَقِ




قَلَمِ التَّلْوِينِ .

أقصر من

الدَّبَاسَةِ

أَسْتَعْمِلُ  لِأَقِيسَ الطُّوْلَ:



حَوَالِي ١٢ مُكْعَبَاتٍ



حَوَالِي ٧ مُكْعَبَاتٍ



حَوَالِي ١٥ مُكْعَبَاتٍ

أَحُلُّ:

٤ أيُّ الأشياءِ في الصَّفْحَةِ أَطْوَلُ؟ **القلم الرصاص**

٥ أيُّ الأشياءِ في الصَّفْحَةِ أَقْصَرُ؟ **الممحاة**

٦ أِبْحَثْ فِي مَنَزِلِي عَنَ أَشْيَاءَ (أَكْثَبُهَا أَوْ أَرْسُمُهَا):

مشبك الورق طَوْلُهَا ٥ مُكْعَبَاتٍ:

السوار طَوْلُهَا ١٠ مُكْعَبَاتٍ:

قلم رصاص طَوْلُهَا أَكْثَرَ مِنْ ١٥ مُكْعَبَاتٍ:



كَمْ ٥ طُولُ كُلِّ مِنْ هَذِهِ الْأَشْيَاءِ؟ أَحْمَنُ ثُمَّ أَقِيسُ الطَّوْلَ لِأَتَحَقَّقَ مِنْ إِجَابَتِي:



١

أَحْمَنُ: حَوَالِي ٨ مُكْعَبَاتٍ
أَقِيسُ: حَوَالِي ٨ مُكْعَبَاتٍ



٢

أَحْمَنُ: حَوَالِي ١٥ مُكْعَبَاتٍ
أَقِيسُ: حَوَالِي ١٣ مُكْعَبَاتٍ



٣

أَحْمَنُ: حَوَالِي ٧ مُكْعَبَاتٍ
أَقِيسُ: حَوَالِي ٦ مُكْعَبَاتٍ



أَقَارِنِ، ثُمَّ أَحَوِّطُ الإِجَابَةَ الصَّحِيحَةَ.

صفحة ٢٢

١ أَيُّهُمَا أَثْقَلُ:



٢ أَيُّهُمَا أَخَفُّ:



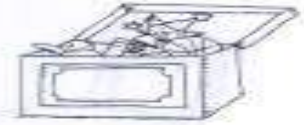
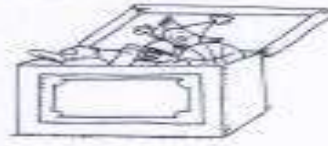
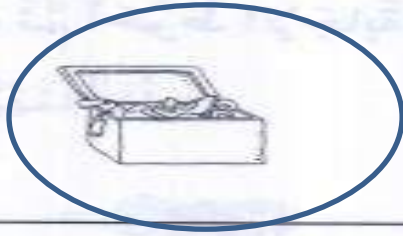
٣ أَيُّهَا الْأَخْفُ:



٤ أَيُّهَا الْأَثْقَلُ:



أَحْوْطُ الْأَقَلَّ سَعَةً.

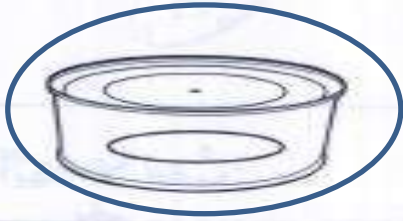


١



٢

أَحْوْطُ الْأَكْثَرَ سَعَةً.



٣



٤



٥

أَحْلُ:

٦ أَيُّهُمَا تَسَعُ أَغْرَاضًا أَكْثَرَ، حَقِيْبَةٌ سَفَرٍ كَبِيْرَةٌ أَمْ حَقِيْبَةٌ مَدْرَسِيَّةٌ؟

حَقِيْبَةٌ سَفَرٍ كَبِيْرَةٌ



أَسْتَعْمِلُ  ، وَأَعُدُّ بِالْعَشْرَاتِ ، ثُمَّ أَقْرَأُ الْعَدَدَ وَأَكْتُبُهُ :

١

٢

صفحة ٣٤

١ ٢ ٣ ٤ ٥ ٦ ٧ ٨ ٩ ١٠

١ ٢ ٣ ٤ ٥ ٦ ٧ ٨ ٩ ١٠

١ ٢ ٣ ٤ ٥ ٦ ٧ ٨ ٩ ١٠

١ ٢ ٣ ٤ ٥ ٦ ٧ ٨ ٩ ١٠

١ ٢ ٣ ٤ ٥ ٦ ٧ ٨ ٩ ١٠

١ ٢ ٣ ٤ ٥ ٦ ٧ ٨ ٩ ١٠

١ ٢ ٣ ٤ ٥ ٦ ٧ ٨ ٩ ١٠

١ ٢ ٣ ٤ ٥ ٦ ٧ ٨ ٩ ١٠

١ ٢ ٣ ٤ ٥ ٦ ٧ ٨ ٩ ١٠

٨ عَشْرَاتٍ = ٨٠ ثَمَانِينَ

٩ عَشْرَاتٍ = ٩٠ تِسْعِينَ

أَكْتُبُ الْعَدَدَ .

٣ ٥ عَشْرَاتٍ = ٥٠ خَمْسِينَ

٤ ٦ عَشْرَاتٍ = ٦٠ سِتِّينَ

٥ ٤ عَشْرَاتٍ = ٤٠ أَرْبَعِينَ

٦ ٣ عَشْرَاتٍ = ٣٠ ثَلَاثِينَ

أَحُلُّ الْمَسْأَلَةَ :

٧ بَدَأَ زَيْدٌ بِالْعَدَدِ ٢٠ ، وَأَخَذَ يَعُدُّ بِالْعَشْرَاتِ وَيَكْتُبُ مَا يَعُدُّهُ ، فَكَتَبَ ٤ أَعْدَادٍ .
مَا آخِرُ عَدَدٍ كَتَبَهُ زَيْدٌ ؟

٥٠ خَمْسِينَ

أَبْحَثْ عَنْ نَمَطٍ لِأَحَدِ الْمَسْأَلَةِ:

أَوْضِّحْ حَلِّي هُنَا

١

إِذَا كَانَتْ حِصَّةُ الرِّيَاضِيَّاتِ قَبْلَ
حِصَّةِ التَّرْبِيَةِ الفَنِيَّةِ، وَحِصَّةُ القِرَاءَةِ
قَبْلَ حِصَّةِ الرِّيَاضِيَّاتِ، فَمَا آخِرُ هَذِهِ
الحِصَصِ؟

فنية

٢

رَأَى عَلِيٌّ فِي حَدِيقَةِ الحَيَوَانَاتِ
البَيْغَاءَ قَبْلَ العَزَالِ، وَرَأَى الفِيلَ قَبْلَ
البَيْغَاءِ. مَا الَّذِي رَأَاهُ أَوَّلًا؟

الفيل

٣

يَضَطَّفُ أَحْمَدُ وَوَلِيدٌ وَمُهَنْدٌ فِي
صَفٍّ. إِذَا وَقَفَ مُهَنْدٌ قَبْلَ أَحْمَدَ،
وَلَمْ يَكُنْ وَوَلِيدٌ الأَوَّلَ فِي الصَّفِّ،
فَمَنْ الأَوَّلُ فِي الصَّفِّ؟

مهند

فنية

رياضيات

قراءة

عزال

ببغاء

فيل

وليد

أحمد

مهند



أَسْتَغْمِلُ لَوْحَةَ الْمِئَةِ لِأَكْتُبَ الْأَعْدَادَ بِالتَّرْتِيبِ:

١٠	٩	٨	٧	٦	٥	٤	٣	٢	١
٢٠	١٩	١٨	١٧	١٦	١٥	١٤	١٣	١٢	١١
٣٠	٢٩	٢٨	٢٧	٢٦	٢٥	٢٤	٢٣	٢٢	٢١
٤٠	٣٩	٣٨	٣٧	٣٦	٣٥	٣٤	٣٣	٣٢	٣١
٥٠	٤٩	٤٨	٤٧	٤٦	٤٥	٤٤	٤٣	٤٢	٤١
٦٠	٥٩	٥٨	٥٧	٥٦	٥٥	٥٤	٥٣	٥٢	٥١
٧٠	٦٩	٦٨	٦٧	٦٦	٦٥	٦٤	٦٣	٦٢	٦١
٨٠	٧٩	٧٨	٧٧	٧٦	٧٥	٧٤	٧٣	٧٢	٧١
٩٠	٨٩	٨٨	٨٧	٨٦	٨٥	٨٤	٨٣	٨٢	٨١
١٠٠	٩٩	٩٨	٩٧	٩٦	٩٥	٩٤	٩٣	٩٢	٩١

صفحة ٣٦

١ أَكْتُبُ الْأَعْدَادَ مِنْ ٣ إِلَى ١٢ بِالتَّرْتِيبِ:

٣ ٤ ٥ ٦ ٧ ٨ ٩ ١٠ ١١ ١٢

أَكْتُبُ الْأَعْدَادَ بِالتَّرْتِيبِ.

٢ ٣ ٤٠، ٥٠، ٦٠

٢ ٥، ٧، ٤

٢ ٤، ٥، ٦

٢ ٤، ٥، ٧

أَسْتَغْمِلُ لَوْحَةَ الْمِئَةِ لِأَحْلُ الْمَسْأَلَةَ:

٤ لَدَى مَتَّى ٧ تَمَرَاتٍ، إِذَا أَكَلْتُ ٤ مِنْهَا، فَكَمْ تَمْرَةً بَقِيَتْ لَدَيْهَا؟
أَعِدُّ تَنَازُلِيًّا عَلَى لَوْحَةِ الْمِئَةِ لِأَحْلُ الْمَسْأَلَةَ. ٣ تَمَرَاتٍ



أَسْتَعْمَلُ حَطَّ الْأَعْدَادِ لِأَعْدُدٍ بِالْقَفْرِ:

٣٥ ٣٤ ٣٣ ٣٢ ٣١ ٣٠ ٢٩ ٢٨ ٢٧ ٢٦ ٢٥ ٢٤ ٢٣ ٢٢ ٢١ ٢٠ ١٩ ١٨ ١٧ ١٦ ١٥ ١٤ ١٣ ١٢ ١١ ١٠

١ ١٤، ١٦، ٢٠، ٢٢، ٢٤، ٢٦

٢ ١٠، ١٥، ٢٠، ٢٥، ٣٠، ٣٥، ٤٠

٣ ١٠، ٢٠، ٣٠، ٤٠، ٥٠، ٦٠، ٧٠

أَسْتَعْمِلُ لَوْحَةَ الْمِئَةِ لِأَعْدُدٍ بِالْقَفْرِ:

٤ أَعْدُدُ بِالْقَفْرِ اثْنَيْتَاتٍ حَتَّى ٤٠،
أَحِوِّطُ الْعَدَدَ.

٥ أَعْدُدُ بِالْقَفْرِ خَمْسَاتٍ حَتَّى ١٠٠،
أَحِوِّطُ الْعَدَدَ.

٦ أَذْكَرُ كُلَّ عَدَدٍ حِوِّطْتُهُ مَرَّتَيْنِ.

١٠	٩	٨	٧	٦	٥	٤	٣	٢	١
٢٠	١٩	١٨	١٧	١٦	١٥	١٤	١٣	١٢	١١
٣٠	٢٩	٢٨	٢٧	٢٦	٢٥	٢٤	٢٣	٢٢	٢١
٤٠	٣٩	٣٨	٣٧	٣٦	٣٥	٣٤	٣٣	٣٢	٣١
٥٠	٤٩	٤٨	٤٧	٤٦	٤٥	٤٤	٤٣	٤٢	٤١
٦٠	٥٩	٥٨	٥٧	٥٦	٥٥	٥٤	٥٣	٥٢	٥١
٧٠	٦٩	٦٨	٦٧	٦٦	٦٥	٦٤	٦٣	٦٢	٦١
٨٠	٧٩	٧٨	٧٧	٧٦	٧٥	٧٤	٧٣	٧٢	٧١
٩٠	٨٩	٨٨	٨٧	٨٦	٨٥	٨٤	٨٣	٨٢	٨١
١٠٠	٩٩	٩٨	٩٧	٩٦	٩٥	٩٤	٩٣	٩٢	٩١

١٠ ، ٢٠ ، ٣٠ ، ٤٠

أَعْدُدُ بِالْقَفْرِ، لِأَجِيبَ عَنِ السُّؤَالَيْنِ الْآتِيَيْنِ:

٨ لَدَى عَبْدِ الْمَلِكِ ٤ بَاقَاتٍ فِي كُلِّ مِنْهَا
وَرْدَتَانِ. كَمْ وَرْدَةً لَدَيْهِ؟
وَرْدَاتٍ

٧ لَدَى كُلِّ مِنْ يَاسِرٍ وَعَلِيٍّ وَسَلْمَانَ
٥ رِيَالَاتٍ. مَا مَجْمُوعُ مَا لَدَيْهِمْ
مِنَ الرِّيَالَاتِ؟
١٥ رِيَالًا

أَحْوِطُ الشَّيْءَ الَّذِي لَا يُشْبِهُ شَكْلَ الْمُجَسِّمِ الْمُعْطَى:



كُرَّة



مَخْرُوطٌ



أَسْطُوَانَةٌ



مُكْعَبٌ



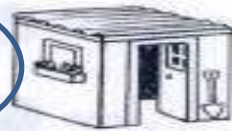
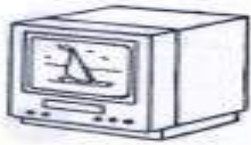
٢



٣



٤



٥



١ أَصِلْ بَيْنَ الصُّورَةِ وَبَيْنَ كُلِّ مُجَسِّمٍ يَتَدَخَّرُ:



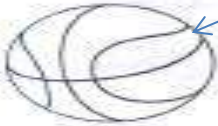
يَتَدَخَّرُ

٢ أَصِلْ بَيْنَ الصُّورَةِ وَبَيْنَ كُلِّ مُجَسِّمٍ يَتَرَاصُّ:

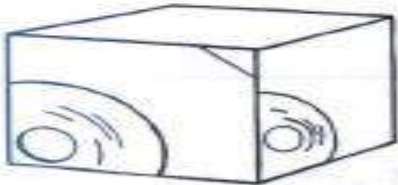


يَتَرَاصُّ

٣ أَصِلْ بَيْنَ الصُّورَةِ وَبَيْنَ كُلِّ مُجَسِّمٍ يَنْزَلِقُ:



يَنْزَلِقُ



أَبْحَثْ عَنْ نَمَطٍ لِأَحَلِّ الْمَسْأَلَةَ. أَرَسِّمُ الْحَلَّ:

صفحة ٤٠

أَوْضِحْ حَلِّي هُنَا



رَسَمَ الْمُعَلِّمُ أَشْكَالًا وَفَقَّ نَمَطٍ مُعَيَّنٍ.
مَا الشَّكْلُ الْمَفْقُودُ فِي هَذَا النَّمَطِ؟



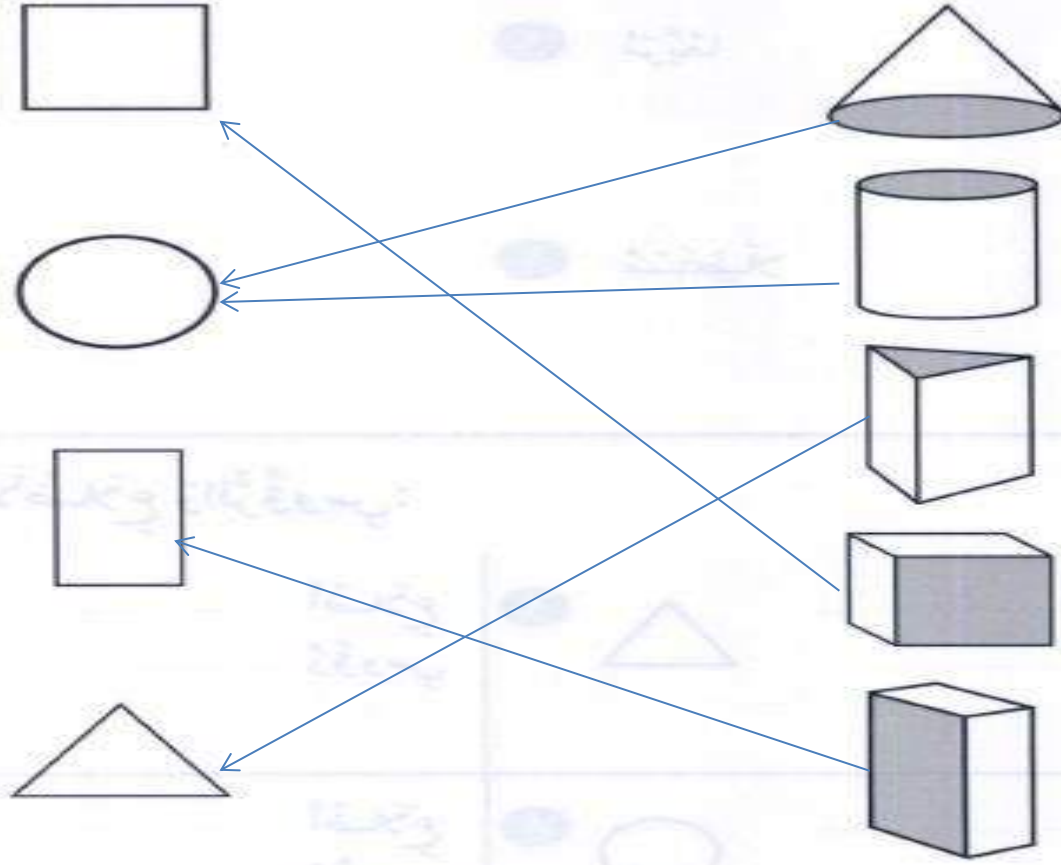
رَتَّبَ خَالِدٌ أَشْكَالَهُ وَفَقَّ النَّمَطِ الْآتِي.
مَا الشَّكْلُ الْمَفْقُودُ؟



رَسَمَتْ هِنْدٌ نَمَطًا مُسْتَعْمِلَةً الْأَشْكَالَ الْآتِيَةَ.
مَا الشَّكْلُ الْمَفْقُودُ؟



١ أصلُ بَيْنَ المُجَسِّمِ وَالشَّكْلِ المُسْتَوِي الَّذِي يَظْهَرُ عَلَيْهِ:



ألَوْنُ الشَّكْلِ المُسْتَوِي الَّذِي يَظْهَرُ عَلَى المُجَسِّمِ المُجَاوِرِ:



أرسم الأشكال الآتية:



مربعًا ٢

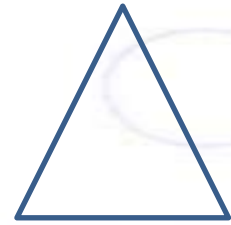


دائرة ١

صفحة ٤٢



مستطيلًا ٤



مثلثًا ٣


اكتب عدد الأضلاع والرؤوس:

أضلاع ٣
رؤوس ٣



٦

أضلاع ٤
رؤوس ٤




٥

أضلاع ٤
رؤوس ٤



٨

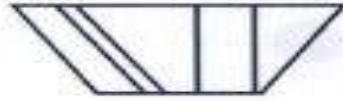

أضلاع ٤
رؤوس ٤



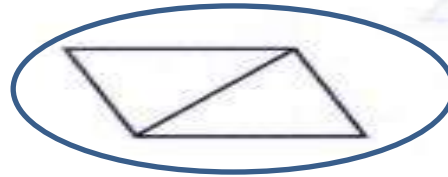
٧



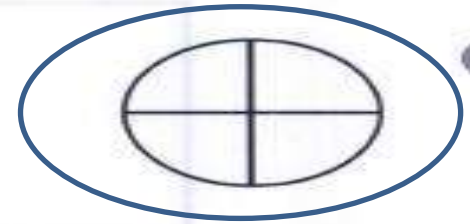
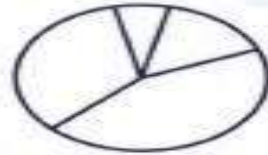
أَضْعُ ○ حَوْلَ كُلِّ شَكْلِ أَجْزَاؤُهُ مُتَطَابِقَةً:



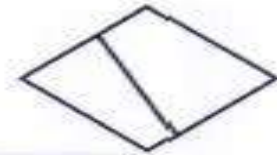
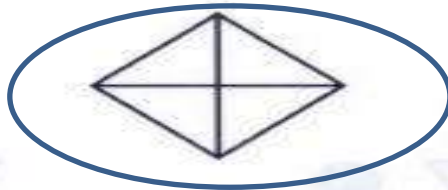
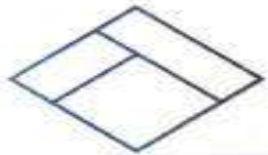
١



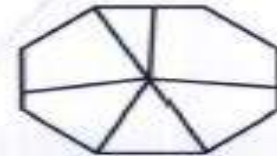
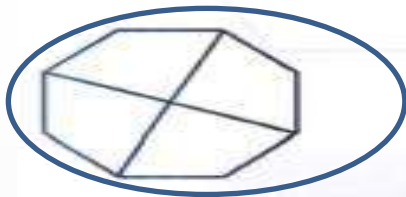
٢



٣



٤



٥



ألون ١ الشَّكْلِ:

تقويتة تلاميذ أريحا لا تاتي ○ و



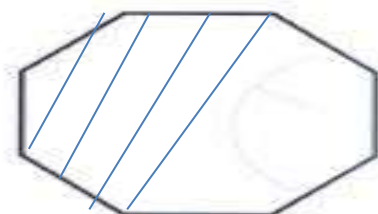
٣



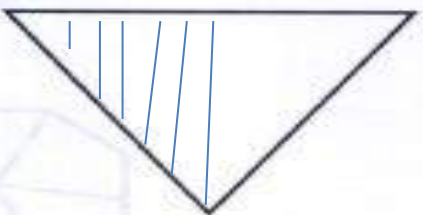
١




٤



٢




٦



٥



ألون جزءًا واحدًا من الأجزاء المتطابقة، وأضع \bigcirc حول الكسر:

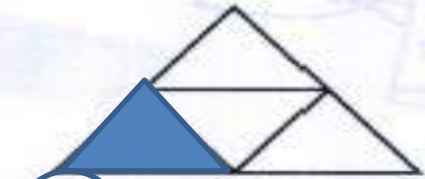


٢

$\frac{1}{4}$

$\frac{1}{3}$

$\frac{1}{6}$



٦

$\frac{1}{4}$

$\frac{1}{3}$

$\frac{1}{6}$

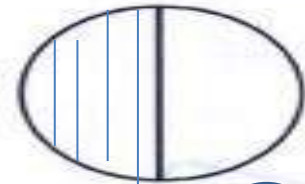


٥

$\frac{1}{4}$

$\frac{1}{3}$

$\frac{1}{6}$

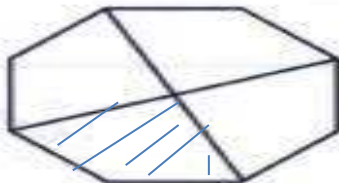


٣

$\frac{1}{4}$

$\frac{1}{3}$

$\frac{1}{6}$



٦

$\frac{1}{4}$

$\frac{1}{3}$

$\frac{1}{6}$



٥

$\frac{1}{4}$

$\frac{1}{3}$

$\frac{1}{6}$

أَسْتَعْمِلُ الْأُورَاقَ النَّقْدِيَّةَ، وَأَعِدُّ ثُمَّ أَكْتُبُ السَّعْرَ عَلَى الْبِطَاقَةِ:



ريالاً ٧ ٧



١



ريالاً ٧ ٧



٢



ريالاً ٣ ٢



٣

أَحْلُ الْمَسْأَلَةَ الْآتِيَةَ:

٤ دَفَعَ أَحْمَدُ ٤ رِقَاقٍ نَقْدِيَّةٍ مِنْ فِئَةِ ٥ رِيَالَاتٍ، وَوَرَقَةً وَاحِدَةً مِنْ فِئَةِ ١ رِيَالٍ ثَمَّنَا لِقَلَمٍ. مَا ثَمَنُ الْقَلَمِ الَّذِي اشْتَرَاهُ أَحْمَدُ؟
ريالاً ٢ ١



أَحْوِطُ الْأُورَاقَ النَّقْدِيَّةَ اللَّازِمَةَ لِشِرَاءِ اللَّعْبَةِ:



١



٢



٣

أَحْلُ الْمَسْأَلَةَ الْآتِيَةَ:

٤ مَعَ لَيْلَى وَرَقَتَانِ نَقْدِيَّتَانِ مِنْ فِتَّةِ ١٠ رِيَالٍ، وَوَرَقَةٌ مِنْ فِتَّةِ ١ رِيَالٍ. وَمَعَ سَامِيَّةَ وَرَقَةٌ مِنْ فِتَّةِ ١٠ رِيَالٍ وَ ٣ وَرَقَاتٍ مِنْ فِتَّةِ ٥ رِيَالٍ. كَمْ رِيَالًا مَعَ الْفَتَاتَيْنِ؟

٤٦ رِيَالًا



أَحْلُ الْمَسْأَلَةَ بِتَمَثِيلِ مُعْطَيَاتِهَا:

١ تُرِيدُ سَعَادُ أَنْ تَشْتَرِيَ قَلَمًا بِ ١٥ رِيَالًا. أَرَسَمَ الْأَوْرَاقَ النَّقْدِيَّةَ الَّتِي تُمَثِّلُ هَذَا الْمَبْلَغَ.



٢ اشْتَرَتْ هُدَى لُعْبَةً بِ ٣٥ رِيَالًا، ثُمَّ اشْتَرَتْ بِطَاقَةَ تَهْنِئَةٍ بِ ١٠ رِيَالَاتٍ. كَمْ دَفَعَتْ هُدَى تَمَنَّاَ لِللُّعْبَةِ وَالْبِطَاقَةِ؟
٤٥ رِيَالًا

٣ لَدَى خَالِدٍ ٣ وَرَقَاتٍ نَقْدِيَّةٍ مِنْ فِتَّةِ ١٠ رِيَالَاتٍ وَوَرَقَةً مِنْ فِتَّةِ ٥ رِيَالَاتٍ. وَلَدَى أَخِيهِ وَرَقَةً مِنْ فِتَّةِ ١٠ رِيَالَاتٍ وَ ٤ وَرَقَاتٍ مِنْ فِتَّةِ ١ رِيَالٍ. هَلْ لَدَى الْأَخْوَانِ مَا يَكْفِي لِشِرَاءِ إِطَارٍ لِلصُّورِ تَمَنُّهُ ٥٠ رِيَالًا؟
لا

لأن معهما ٣٥ ، ١٤ = ٤٩

٤ يُرِيدُ مُحَمَّدٌ أَنْ يَشْتَرِيَ بَاقَةَ وَرْدٍ بِ ٢٢ رِيَالًا. مَا الْأَوْرَاقَ النَّقْدِيَّةَ الَّتِي يَسْتَطِيعُ مُحَمَّدٌ بِهَا أَنْ يَجْمَعَ ٢٢ رِيَالًا؟ أَرَسَمَ النُّقُودَ.



أَسْتَعْمِلُ التَّقْوَدَ لِأُمْتَلَّ الْمَبْلَغَ نَفْسَهُ بِطَرِيقَةٍ أُخْرَى:

١ أُمْتَلَّ ٣٥ رِيَالًا



٢ أُمْتَلَّ ٤١ رِيَالًا



٣ أُمْتَلَّ ٢٨ رِيَالًا



أَحْلُ الْمَسْأَلَةَ مُسْتَعْمِلًا التَّقْوَدَ:

٤ مَعَ مَهَا وَرَقَتَانِ تَقْدِيمَتَانِ مِنْ فِتَّةِ ١٠ رِيَالَاتٍ وَ ٥ وَرَقَاتٍ مِنْ فِتَّةِ ٥ رِيَالَاتٍ، وَمَعَ كَيْلَى ٣ وَرَقَاتٍ مِنْ فِتَّةِ ١٠ رِيَالَاتٍ، وَوَرَقَةً مِنْ فِتَّةِ ٥ رِيَالَاتٍ، هَلْ مَعَهُمَا الْمَبْلَغُ نَفْسُهُ؟

لا

أَسْتَعْمِلُ الْأَوْرَاقَ النَّقْدِيَّةَ، وَأَعُدُّ ثُمَّ أَكْتُبُ الْمَجْمُوعَ:



لا

هَلْ أَسْتَطِيعُ شِرَاءَ اللَّعْبَةِ؟

مَعِي ٥٠ رِيَالًا



نعم

هَلْ أَسْتَطِيعُ شِرَاءَ اللَّعْبَةِ؟

مَعِي ٤٦ رِيَالًا



لا

هَلْ أَسْتَطِيعُ شِرَاءَ اللَّعْبَةِ؟

مَعِي ٣٨ رِيَالًا

أَحُلُّ الْمَسْأَلَةَ:

مَعَ سَمِيرٍ ٤ وَرَقَاتٍ مِنْ فِئَةِ ١٠ رِيَالٍ وَوَرَقَةً وَاحِدَةً مِنْ فِئَةِ ١ رِيَالٍ. فَهَلْ

يَسْتَطِيعُ أَنْ يَشْتَرِيَ حِذَاءً ثَمَنُهُ ٣٩ رِيَالًا؟ نعم