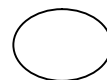


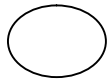
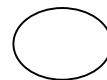

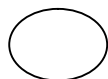
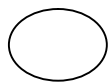


√ ما المخلوقات الحية ؟ وما الأشياء غير الحية ؟

أ تأمل الصور التالية ثم أضع علامة (√) تحت المخلوقات الحية وعلامة (×) تحت الأشياء غير الحية :



ü ضع دائرة حول الإجابة المناسبة :

٠١ لا تحتاج إلى الغذاء والهواء والماء :

أ . الأشياء غير الحية	ب . المخلوقات الحية
-----------------------	---------------------

٠٢ تنمو وتتغير :

أ . الأشياء غير الحية	ب . المخلوقات الحية
-----------------------	---------------------

٠٣ تحتاج إلى الغذاء والهواء والماء :

أ . الأشياء غير الحية	ب . المخلوقات الحية
-----------------------	---------------------



٠٤ تحتاج النباتات لكي تعيش :

أ . ضوء الشمس والماء	ب . حصى وصخور
----------------------	---------------

ü أرسم مخلوق حي وشيء غير حي مما أراه حولي :

(شيء غير حي)

(مخلوق حي)



تم تحميل هذا الملف من موقع

مكتبة فايلات التعليمية

www.Filaat.com

وتهتم مكتبة فايلات التعليمية بمشاركة الملفات بين المعلمين والمعلمات وأيضا الطلاب والطالبات في مختلف المراحل العمرية من رياض الأطفال وحتى الجامعة. حيث توفر جميع الكتب، الملفات، عروض البوربوينت، الملخصات، تحاضير، اوراق عمل واختبارات لمختلف المواد والتخصصات الأدبية والعلمية.

مع تحيات

فريق عمل موقع فايلات تعليمية