

توعرب

منتدى تو عرب التعليمي

www.arabia2.com/vb

موقع تو عرب التعليمي

www.arabia2.com/vb

اختبار – الفصل الدراسي / الأول - للعام الدراسي ١٤٤٠ / ١٤٤١ هـ

المادة	التوحيد	الصف :	الثالث	الفصل :
اليوم	التاريخ	/ /	١٤٤٠ هـ	زمن الإجابة
اسم الطالب		رقم الجلوس		ساعة ونصف

تعليمات هامة للطالب:

- ١) ورقة الإجابة كاملة مسؤولية الطالب حتى ينتهي من الاختبار ويسلمها
- ٢) اقرأ السؤال كاملاً وحاول فهمه جيداً قبل الإجابة عليه
- ٣) حافظ على هدوء اللجنة واتبع تعليمات الملاحظين
- ٤) اكتب بالقلم الجاف الأزرق فقط
- ٥) اهتم بنظافة الورقة ولا تستخدم المزيل
- ٦) راجع إجاباتك جيداً قبل تسليم الورقة
- ٧) لا يحق للطالب استلام الورقة لإضافة إجابة أو تعديل بعد تسليمها

السؤال	الدرجة رقماً	الدرجة كتابةً	اسم المصحح	اسم المراجع
الأول				
الثاني				
الثالث				
الرابع				
الخامس				
السادس				
السابع				
الثامن				
المجموع			ملحوظة: يُكتب اسم المصحح والمراجع بخط يُقرأ (ليس توقيعاً)	

مجموع الدرجات رقماً	مجموع الدرجات كتابةً	اسم مَجْمَعِ الدرجات	اسم مراجع تجميع الدرجات
٣٠			

زمن الإجابة: ساعة ونصف

الصف: الثالث الابتدائي

المادة: توحيد

أجب عن جميع الأسئلة التالية
السؤال الأول: ضع علامة (✓) أمام العبارة الصحيحة وعلامة (x) أمام العبارة الخاطئة:

١٠

- ١- عدد مراتب الدين: ثلاثة ()
- ٢- الصلاة هي الركن الأول من أركان الإسلام ()
- ٣- أول ما يحاسب عليه العبد يوم القيامة: الصلاة ()
- ٤- الشهادتان أعظم أركان الإسلام ()
- ٥- الزكاة مفتاح الدخول إلى الإسلام ()
- ٦- عدد الصلوات في اليوم الواحد خمس صلوات ()
- ٧- أمرنا الرسول صلى الله عليه وسلم بالتوحيد ونهانا عن الشرك ()
- ٨- منَعُ الزكاة من أسباب منع المطر ()
- ٩- الصيام عبادة يجب الإخلاص فيها للناس ()
- ١٠- أصلي التراويح في شهر ذي القعدة ()

السؤال الثاني: اختر الإجابة الصحيحة بوضع خط تحتها:

١٠

- ١- أن نعبد الله كأننا نراه فإن لم نكن نراه فإنه يرانا:
أ- الإسلام
ب- الإحسان
ج- الإيمان
- ٢- عدد أركان الإسلام:
أ- ستة
ب- خمسة
ج- أربعة
- ٣- حكم الصلاة على المسلمين:
أ- واجبة
ب- كفر
ج- مستحبة
- ٤- الركن الرابع من أركان الإسلام:
أ- الشهادتان
ب- الحج
ج- صوم رمضان
- ٥- يجب الحج في العمر..... لمن استطاع إليه سبيلاً:
أ- مرة واحدة
ب- مرتين
ج- ثلاث مرات
- ٦- لا معبود يستحق العبادة إلا الله معنى:
أ- الصوم
ب- لا إله إلا الله
ج- الحج
- ٧- إخراج جزء من المال وإعطائه للفقراء والمساكين معنى:
أ- الزكاة
ب- الهدية
ج- شهادة أن محمداً رسول الله
- ٨- العبادة المرتبطة بشهر رمضان:
أ- الأكل
ب- النوم
ج- الصوم
- ٩- في شهر رمضان تُفتح أبواب:
أ- الجنة
ب- النار
ج- البيت
- ١٠- الرسول صل الله عليه وسلم أحب إلينا من:
أ- آبائنا وأمهاتنا
ب- الناس أجمعين
ج- جميع ما سبق

السؤال الثالث : أكمل الفراغات التالية :

- ١- الصوم: ترك و الشراب وغيرهما من المفطرات من طلوع الفجر إلى غروب الشمس تقرباً إلى الله .
- ٢- يقع بيت الله الحرام في
- ٣- الحج المبرور جزاؤه
- ٤- يحج المسلمون في شهر
- ٥- الإقرار بأن محمداً عبد الله ورسوله أرسله الله للإنس و بشيراً ونذيراً .

السؤال الرابع: اذكر ما يلي:

- ١- مراتب الدين:
 - أ-
 - ب-
 - ج-
- ٢- اثنين من أركان الإسلام:
 - أ-
 - ب-

انتهت الأسئلة وأرجو للجميع التوفيق

اختبار - الفصل الدراسي / الأول - للعام الدراسي ١٤٤٠ / ١٤٤١ هـ

المادة	الفقه والسلوك	الصف :	الثالث	الفصل :
اليوم	التاريخ	/ /	١٤٤٠ هـ	زمن الإجابة
اسم الطالب				رقم الجلوس

تعليمات هامة للطالب:

- ١) ورقة الإجابة كاملة مسؤولية الطالب حتى ينتهي من الاختبار ويسلمها
- ٢) اقرأ السؤال كاملاً وحاول فهمه جيداً قبل الإجابة عليه
- ٣) حافظ على هدوء اللجنة واتبع تعليمات الملاحظين
- ٤) اكتب بالقلم الجاف الأزرق فقط
- ٥) اهتم بنظافة الورقة ولا تستخدم المزيل
- ٦) راجع إجاباتك جيداً قبل تسليم الورقة
- ٧) لا يحق للطالب استلام الورقة لإضافة إجابة أو تعديل بعد تسليمها

السؤال	الدرجة رقماً	الدرجة كتابةً	اسم المصحح	اسم المراجع
الأول				
الثاني				
الثالث				
الرابع				
الخامس				
السادس				
السابع				
الثامن				
المجموع			ملحوظة: يُكتب اسم المصحح والمراجع بخط يُقرأ (ليس توقيعاً)	

مجموع الدرجات رقماً	مجموع الدرجات كتابةً	اسم مُجمَع الدرجات	اسم مراجع جميع الدرجات
٣٠			

٥

أجب عن جميع الأسئلة التالية
السؤال الأول: ضع علامة (√) أمام العبارة الصحيحة وعلامة (X) أمام العبارة الخاطئة:

- ١- عند دخول الخلاء أقدم رجلي اليمنى ()
٢- أجتنب قضاء الحاجة في طريق الناس ()
٣- عند صلاتي لا أزيل النجاسة عن ملابسي ()
٤- أول ما يحاسب عليه العبد يوم القيامة هي الزكاة ()
٥- أحب البلاد إلى الله مساجدها ()

١٠

السؤال الثاني: اختر الإجابة الصحيحة مما يلي بوضع خط تحتها:

- ١- أقول عند الخروج من الخلاء:
أ- غفرانك ب- اللهم إني أسألك من فضلك
٢- من الأشياء التي لا يجوز دخول الخلاء بها:
أ- القلم ب- الساعة
٣- غسل مخرج البول أو الغائط حتى تزول النجاسة:
أ- الاستجمار ب- الاستنجاء
٤- مسح مخرج البول أو الغائط حتى تزول النجاسة:
أ- الاستجمار ب- الاستنجاء
٥- من الأشياء التي لا يجوز المسح بها:
أ- العظام ب- المناديل
٦- من شروط التنظيف بغير الماء أن يكون مسح مخرج البول أو الغائط:
أ- مسحة واحدة ب- مسحتين فقط
٧- سن التمييز هو:
أ- ٩ سنوات ب- ٥ سنوات
٨- من شروط الصلاة:
أ- الوضوء ب- النجاسة
٩- من آداب دخول المسجد:
أ- الهدوء في المسجد ب- لعب الأطفال في المسجد
١٠- من نواقض الوضوء:
أ- البول ب- النوم العميق
- ج- اللهم إني أعوذ بك من الخبث والخبائث
ج- المصحف
ج- التيمم
ج- التيمم
ج- الأحجار
ج- ثلاث مسحات وأكثر
ج- ٧ سنوات
ج- الكفر
ج- الأكل في المسجد
ج- جميع ما سبق

٤

السؤال الثالث: أكمل الفراغات التالية:

- ١- من آداب قضاء الحاجة: لا ولا أستدبرها عند قضاء الحاجة في الصحراء.
٢- من أنواع النجاسات والغائط.
٣- أزيل النجاسة عن بدني وملابسي و
٤- يبدأ دخول وقت صلاة المغرب من إلى أن يغيب الشفق الأحمر .

السؤال الرابع : اكتب الرقم المناسب من العمود (أ) فيما يناسبه بالعمود (ب) :
(أ) (ب)

—
٥

() دعاء دخول المسجد	١- من شروط الصلاة
() وقت صلاة العشاء	٢- من السرة إلى الركبة
() العقل	٣- اللهم افتح لي أبواب رحمتك
() عورة الرجل	٤- اللهم إني أسألك من فضلك
() دعاء الخروج من المسجد	٥- من مغيب الشفق الأحمر إلى نصف الليل

السؤال الخامس: اذكر ما يلي:

١- ثلاثة من شروط الصلاة :
أ-

ب-

ج-

٢- عدد ثلاثة من الأشياء التي أقوم بها عند انتظار الصلاة:
أ-

ب-

ج-

انتهت الأسئلة وأرجو للجميع التوفيق

اختبار - الفصل الدراسي / الأول - للعام الدراسي ١٤٤٠ / ١٤٤١ هـ

المادة	لغتي	الصف :	الثالث	الفصل :
اليوم	التاريخ	/ /	١٤٤٠ هـ	زمن الإجابة
اسم الطالب		رقم الجلوس		ساعة ونصف

تعليمات هامة للطالب:

- ١) ورقة الإجابة كاملة مسؤولية الطالب حتى ينتهي من الاختبار ويسلمها
- ٢) اقرأ السؤال كاملاً وحاول فهمه جيداً قبل الإجابة عليه
- ٣) حافظ على هدوء اللجنة واتبع تعليمات الملاحظين
- ٤) اكتب بالقلم الجاف الأزرق فقط
- ٥) اهتم بنظافة الورقة ولا تستخدم المزيل
- ٦) راجع إجاباتك جيداً قبل تسليم الورقة
- ٧) لا يحق للطالب استلام الورقة لإضافة إجابة أو تعديل بعد تسليمها

السؤال	الدرجة رقماً	الدرجة كتابةً	اسم المصحح	اسم المراجع
الأول				
الثاني				
الثالث				
الرابع				
الخامس				
السادس				
السابع				
الثامن				
المجموع			ملحوظة: يُكتب اسم المصحح والمراجع بخط يُقرأ (ليس توقيعاً)	

مجموع الدرجات رقماً	مجموع الدرجات كتابةً	اسم مَجْمَعِ الدرجات	اسم مراجع تجميع الدرجات
٣٠			

زمن الإجابة: ساعة ونصف

الصف: الثالث الابتدائي

المادة: لغتي

أجب عن جميع الأسئلة التالية

١٠

السؤال الأول: أقرأ ما يلي بالضبط مراعيًا صحة الوقف، وسلامة الوصل:

(أَحْسَنْتَ يَا عَادِلُ، فَالطَّائِرَةُ وَسِيلَةٌ لِلسَّفَرِ، فَهِيَ تَحْمِلُ رُكَّابًا مِنْ أَجْناسٍ مُنْتَوَعَةٍ وَأَدْيَانٍ مُخْتَلَفَةٍ، وَلَا بَدَأَ أَنْ نَرِيَهُمْ صُورَةً مُشْرِفَةً لِلْمُسْلِمِ الخُلُوقِ)

٥

السؤال الثاني: مِنْ دَرَسِ (مَصَائِفُنَا) أَقْرَأْ ثُمَّ أَجِيبْ:

(سَاعَدَتِ طَبِيعَةُ عَسِيرِ ذَاتِ الجَوِّ المُعْتَدِلِ وَالْمِيَاهِ الوَافِرَةِ وَالْمَعَالِمِ الأَثَرِيَّةِ المُنْتَوَعَةِ فِي أَنْ تُصْبِحَ أَبْهًا مَصِيفًا جَمِيلًا يَنْعَمُ السَّائِحُونَ فِيهَا بِالنَّسِيمِ العَلِيلِ.)

أ- اذكرُ العَوَامِلَ الَّتِي سَاعَدَتْ فِي أَنْ تُصْبِحَ أَبْهًا مَصِيفًا جَمِيلًا.

ب- اسْتَخْرِجْ مِنَ الفَقْرَةِ مَا يَلِي:

- ١- كلمة بها مد بالألف:
- ٢- كلمة بها تنوين فتح:
- ٣- فعلاً ماضياً
- ٤- كلمة بها (أل) شمسية:
- ٥- كلمة مفردتها (السائح).....
- ٦- كلمة معناها (القديمة)
- ٧- حرف جر:.....
- ٨- كلمة مؤنثها (المعتدلة)
- ٩- كلمة نكرة:.....

السؤال الثالث: أختارُ الإجابةَ الصحيحةَ:

٥

- (١) جلسَ المُسَافِرُونَ عَلَى المَقَاعِدِ إِلَّا عَادِلًا.
 (٢) مَا أَحْسَنَ أَخْلَاقَ المُسْلِمِ.
 (٣) الطَّائِرَةُ أُسْرِعَ مِنْ السَّيَّارَةِ.
 (٤) يُمْنَعُ اسْتِخْدَامُ الهَاتِفِ المَحْمُولِ فِي المَسْتَشْفَى.
 (٥) تَخْرُجُ الطُّيُورُ مِنْ أعْشَانِهَا صَبَاحًا.
 (تَعْجَبُ - اسْتِثْنَاء - نِدَاء)
 (تَعْجَبُ - اسْتِقْهَام - نِدَاء)
 (تَعْجَبُ - اسْتِثْنَاء - تَفْضِيل)
 (اسم فاعل - اسم مفعول - اسم إشارة)
 (ظرف مكان - ظرف زمان - حرف جر)

السؤال الرابع: أرتبُ الكَلِمَاتِ الآتِيَةَ لِأَكُونَ مِنْهَا جُمْلًا مُفِيدَةً:

٤

١- الحَقُّ - المُسْلِمُ - عَلِيٌّ - يُؤَثِّرُ - غَيْرُهُ - نَفْسِهِ.

٢- عَاصِمَةٌ - الرِّيَاضُ - العَرَبِيَّةُ - السَّعُودِيَّةُ - المَمْلَكَةُ.

السؤال الخامس: أنسخُ مَا يَلِي:

٣

أَكْمَلُ المُؤْمِنِينَ إِيمَانًا أَحْسَنَهُمْ خُلُقًا

السؤال السادس: أَكْتُبُ مَا يُمَلَى عَلَيَّ:

٣

انتهت الأسئلة وأرجو للجميع النجاح والتوفيق

اختبار – الفصل الدراسي / الأول - للعام الدراسي ١٤٤٠ / ١٤٤١ هـ

المادة	رياضيات	الصف :	الثالث	الفصل :
اليوم	التاريخ	/ /	١٤٤٠ هـ	زمن الإجابة
اسم الطالب		رقم الجلوس		ساعة ونصف

تعليمات هامة للطالب:

- ١) ورقة الإجابة كاملة مسؤولية الطالب حتى ينتهي من الاختبار ويسلمها
- ٢) اقرأ السؤال كاملاً وحاول فهمه جيداً قبل الإجابة عليه
- ٣) حافظ على هدوء اللجنة واتبع تعليمات الملاحظين
- ٤) اكتب بالقلم الجاف الأزرق فقط
- ٥) اهتم بنظافة الورقة ولا تستخدم المزيل
- ٦) راجع إجاباتك جيداً قبل تسليم الورقة
- ٧) لا يحق للطالب استلام الورقة لإضافة إجابة أو تعديل بعد تسليمها

السؤال	الدرجة رقماً	الدرجة كتابةً	اسم المصحح	اسم المراجع
الأول				
الثاني				
الثالث				
الرابع				
الخامس				
السادس				
السابع				
الثامن				
المجموع			ملحوظة: يُكتب اسم المصحح والمراجع بخط يُقرأ (ليس توقيعاً)	

مجموع الدرجات رقماً	مجموع الدرجات كتابةً	اسم مَجْمَعِ الدرجات	اسم مراجع تجميع الدرجات
٣٠			

زمن الإجابة : ساعة ونصف

الصف : الثالث الابتدائي

المادة: الرياضيات

أجب عن جميع الأسئلة التالية:

السؤال الأول: ضع دائرة حول رمز الإجابة الصحيحة.

(١) القيمة المنزلية للرقم ٤ في العدد ٤٦٧٥ تساوي

(أ) ٤ (ب) ٤٠ (ج) ٤٠٠ (د) ٤٠٠٠

(٢) ٢ ألوف و ٧ مئات و ٥ عشرات و ٣ آحاد على الصورة القياسية

(أ) ٢٥٧٣ (ب) ٥٧٣٢ (ج) ٢٧٥٣ (د) ٣٥٧٢

(٣) ٣ ، ٦ ، ٩ ، ، ١٥

(أ) ١٠ (ب) ١١ (ج) ١٢ (د) ١٣

(٤) اثنان وثلاثون ألفا وأربع مئة وخمسة وتسعون بالصورة القياسية

(أ) ٣٣٤٥٩ (ب) ٣٣٥٩٤ (ج) ٣٣٩٤٥ (د) ٣٢٤٩٥

(٥) العدد ٤٥٦٧ لأقرب ألف يساوي

(أ) ٥٠٠٠ (ب) ٤٠٠٠ (ج) ٤٥٠٠ (د) ٤٦٠٠

(٦) حصل خالد على ٧٢٠ نقطة، وحصل نواف على ٧٠٢ نقطة، وحصل سلطان على ٧٢، فأيهما حصل على سبع مئة وعشرون ؟

(أ) سلطان (ب) خالد (ج) نواف (د) حمد

(٧) منزلة الرقم ٦ في العدد ٦٥٧٨٤ تكون

(أ) العشرات (ب) المئات (ج) الألوف (د) عشرات الألوف

(٨) $٥٤٣١ + ٤٤٤٤ = ٤٤٤٤ + ٥٤٣١$ تسمى خاصية

(أ) المحاييد الجمعي (ب) المحاييد الضربي (ج) الإبدال (د) التجميع

(٩) تقدير ناتج طرح $٥٦٩ - ٤٤٦$ لأقرب مئة يساوي

(أ) ١٠٠ (ب) ٢٠٠ (ج) ٣٠٠ (د) ٤٠٠

(١٠) تقدير ناتج جمع $٣١٦٤ + ١٢٣٤$ لأقرب ألف يساوي

(أ) ١٠٠٠ (ب) ٢٠٠٠ (ج) ٣٠٠٠ (د) ٤٠٠٠

السؤال الثاني : أكمل بوضع الإجابة الصحيحة:

(١) $٤ \times ٣ = ٤ \times \dots$

(٢) $٥ + ٥ + ٥ + ٥ + ٥ + ٥ = \dots \times ٥$

(٣) $٦٠ ، ٧٠ ، ٨٠ ، ٩٠ ، \dots$

(٤) المحاييد الضربي هو

(٥) المحاييد الجمعي هو

(٦) $٧٤٥٦ = ٤٠٠ + ٥٠ + ٦ + \dots$

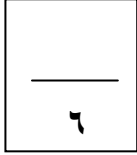
(٧) $٦ \times ٤ = \dots$

(٨) $\dots = ٨ \times ٣$

(٩) $\dots = ٣ \times ١٠$

(١٠) $١٨ = \dots \times ٢$

١٠



السؤال الثالث :

(أ) أوجد ناتج ما يلي :

$$\begin{array}{r} 4786 \\ + 2345 \\ \hline \end{array}$$

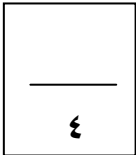
$$\begin{array}{r} 4567 \\ + 1321 \\ \hline \end{array}$$

$$\begin{array}{r} 4262 \\ - 1298 \\ \hline \end{array}$$

$$\begin{array}{r} 7000 \\ - 1294 \\ \hline \end{array}$$

(ب) زرع ماجد شجيرات في حديقته ، فنظمها في سبع صفوف ووضع في كل صف ٧ شجيرات ، ما عدد الشجيرات التي يزرعها ؟

(ج) تحتوي علبة أقلام التلوين على ٦ أقلام ، فما عدد الأقلام التي تحتويها ١٠ علبة من نفس النوع؟



السؤال الرابع :

(أ) يوجد في بقالة صندوقان من علبة الفراولة ، إذ يحوي الصندوق الأول ٦٤٥ علبة ، ويحوي الثاني ٥٠٠ علبة ، فكم علبة فراولة يوجد في الصندوقان معا ؟

(أ) تحمل شاحنة ٤٢٥ كيسا من السكر و ١٧٦ كيسا من الأرز فكم تزيد أكياس السكر على أكياس الأرز؟

(ج) رتب الأعداد الآتية من الأصغر للأكبر:

٧٨٠ ، ٤٢٥ ، ٦٤٥٢

الترتيب هو ،..... ،.....

(د) رتب الأعداد الآتية من الأكبر للأصغر :

٥٠٠٠ ، ٤٧٨ ، ٤٧٨٩

الترتيب هو ،..... ،.....

انتهت الأسئلة وأرجو للجميع التوفيق والنجاح

اختبار - الفصل الدراسي / الأول - للعام الدراسي ١٤٤٠ / ١٤٤١ هـ

المادة	علوم	الصف :	الثالث	الفصل :
اليوم	التاريخ	/ /	١٤٤٠ هـ	زمن الإجابة
اسم الطالب		رقم الجلوس		ساعة ونصف

تعليمات هامة للطالب:

- ١) ورقة الإجابة كاملة مسؤولية الطالب حتى ينتهي من الاختبار ويسلمها
- ٢) اقرأ السؤال كاملاً وحاول فهمه جيداً قبل الإجابة عليه
- ٣) حافظ على هدوء اللجنة واتبع تعليمات الملاحظين
- ٤) اكتب بالقلم الجاف الأزرق فقط
- ٥) اهتم بنظافة الورقة ولا تستخدم المزيل
- ٦) راجع إجاباتك جيداً قبل تسليم الورقة
- ٧) لا يحق للطالب استلام الورقة لإضافة إجابة أو تعديل بعد تسليمها

السؤال	الدرجة رقماً	الدرجة كتابةً	اسم المصحح	اسم المراجع
الأول				
الثاني				
الثالث				
الرابع				
الخامس				
السادس				
السابع				
الثامن				
المجموع			ملحوظة: يُكتب اسم المصحح والمراجع بخط يُقرأ (ليس توقيعاً)	

مجموع الدرجات رقماً	مجموع الدرجات كتابةً	اسم مَجْمَعِ الدرجات	اسم مراجع تجميع الدرجات
٣٠			

زمن الإجابة : ساعة ونصف

الصف : الثالث الابتدائي

المادة: العلوم

أجب عن جميع الأسئلة التالية:

السؤال الأول: اختر الإجابة الصحيحة:

(١) وحدة بناء أجسام جميع المخلوقات الحيّة هي

أ- الهواء ب- الغذاء ج- الماء د- الخلايا

(٢) الوظيفة الرئيسية لجذور النباتات هي

أ- صنع الغذاء ب- امتصاص الماء والأملاح ج- إنتاج البذور د- التلقيح

(٣) الحيوان الذي يُشبه السحلية في دورة الحياة هو

أ- السلحفاة ب- الماعز ج- الذباب د- السمكة

(٤) تحصل معظم المنتجات على الطاقة من

أ- الصخور ب- المفترسات ج- الشمس د- المحللات

(٥) يستطيع الجمل أن يأكل النباتات الشوكية عن طريق

أ- خُفّ الجمل ب- سنّام الجمل ج- الشفّة المشقوقة د- جلد الجمل

(٦) يمكن أن تتضرر البيئة التي نعيش فيها عن طريق

أ- التدوير ب- زراعة الأشجار ج- إعادة الاستخدام د- رمي النفايات

(٧) يمكن أن يحدث الجفاف بسبب

أ- الحرائق ب- الأمراض ج- الزلازل د- قلة نزول الأمطار

(٨) تتسبب البراكين في

أ- الجفاف ب- التعرية ج- قتل المخلوقات الحية د- سقوط الأمطار

(٩) تُسمى الصخور المنصهرة التي توجد في باطن الأرض

أ- اللابة ب- الصخور ج- الرماد د- الصحارة

(١٠) تُكسر الصخور فتتهتز وينتج عن اهتزازها

أ- الزلازل ب- الفيضان ج- البركان د- الجفاف

السؤال الثاني: ضع علامة (√) أمام العبارة الصحيحة وعلامة (x) أمام العبارة الخاطئة في كل مما يلي:


١٠

- () (١) المخلوقات الحيّة تتكاثر لتنتج أفرادًا جديدة.
- () (٢) يُمكن للبذرة أن تنبت وتصبح نباتًا جديدًا.
- () (٣) يمُرّ الإنسان بمرحلة التحوّل أثناء دورة حياته.
- () (٤) المُستهلكات هي الكائنات التي تصنع غذاءها بنفسها .
- () (٥) تستطيع كُل المخلوقات الحيّة أن تعيش في الصحراء.
- () (٦) جسم القنفذ مُغطى بأشواك حادّة لكي يحمي نفسه من أعدائه المُفترسين.
- () (٧) يُمكن للإنسان أن يحافظ على بيئته من خلال رمي النفايات على الأرض.
- () (٨) يحدث الفيضان عند توقّف المطر عن النزول لفترة طويلة.
- () (٩) يُصبح المخلوق الحيّ مُهدّدًا بالانقراض إذا كان عدد ماتبقى من أفراده قليلًا.
- () (١٠) يُسهم الإنسان في حدوث التجوية عن طريق تكسير الصّخور.

السؤال الثالث: (أ) أمامك رسمة لنبات مُكتمل النموّ:
أكمل الجدول التالي باستخدام الكلمات التالية:

١٠

(الجذور - الورقة - الساق - الزهرة)



أ	
ب	
ج	
د	

(ب) صل كل عبارة في العمود الأول بما يناسبها في العمود الثاني:

- | | |
|---------------|--|
| أ- زلزال. | ١- تبدأ البرمائيات حياتها على شكل |
| ب- الصّبار. | ٢- المخلوق الحي الذي يصنع غذاءه بنفسه هو |
| ج- بيضة. | ٣- عندما تتحرّك صخور القشرة الأرضية يحدث |
| د- المُنْتِج. | ٤- النبات الذي يستطيع تخزين الماء في ساقه هو |

(ج) أكمل الجُمْل التالية:

- ١- اكتب خاصية واحدة من خصائص الكائنات الحية:
- ٢- التدوير هو صنع مواد جديدة من مواد:

انتهت الأسئلة وأرجو لكم التوفيق

نموذج إجابة الصف: الثالث الابتدائي

المادة: توحيد

كل جزئية درهما

أجب عن جميع الأسئلة التالية

السؤال الأول: ضع علامة (√) أمام العبارة الصحيحة وعلامة (×) أمام العبارة الخاطئة:

١٠

- ١- عدد مراتب الدين: ثلاثة (✓)
٢- الصلاة هي الركن الأول من أركان الإسلام (×)
٣- أول ما يحاسب عليه العبد يوم القيامة: الصلاة (✓)
٤- الشهادتان أعظم أركان الإسلام (✓)
٥- الزكاة مفتاح الدخول إلى الإسلام (×)
٦- عدد الصلوات في اليوم الواحد خمس صلوات (✓)
٧- أمرنا الرسول صلى الله عليه وسلم بالتوحيد ونهانا عن الشرك (✓)
٨- متعُ الزكاة من أسباب منع المطر (✓)
٩- الصيام عبادة يجب الإخلاص فيها للناس (×)
١٠- أصلي التراويح في شهر ذي القعدة (×)

عشر درهما تراويح
كل جزئية درهما

السؤال الثاني: اختر الإجابة الصحيحة مما يلي بوضع خط تحتها:

١٠

- ١- أن نعبد الله كأننا نراه فإن لم نكن نراه فإنه يرانا:
أ- الإسلام
ب- الإحسان
ج- الإيمان
- ٢- عدد أركان الإسلام:
أ- ستة
ب- خمسة
ج- أربعة
- ٣- حكم الصلاة على المسلمين:
أ- واجبة
ب- كفر
ج- مستحبة
- ٤- الركن الرابع من أركان الإسلام:
أ- الشهادتان
ب- الحج
ج- صوم رمضان
- ٥- يجب الحج في العمر..... لمن استطاع إليه سبيلاً:
أ- مرة واحدة
ب- مرتين
ج- ثلاث مرات
- ٦- لا معبود يستحق العبادة إلا الله معنى:
أ- الصوم
ب- لا إله إلا الله
ج- شهادة أن محمداً رسول الله
- ٧- إخراج جزء من المال وإعطاؤه للفقراء والمساكين معنى:
أ- الزكاة
ب- الهدية
ج- شهادة أن محمداً رسول الله
- ٨- العبادة المرتبطة بشهر رمضان:
أ- الأكل
ب- النوم
ج- الصوم
- ٩- في شهر رمضان تفتح أبواب:
أ- الجنة
ب- النار
ج- البيت
- ١٠- الرسول صل الله عليه وسلم أحب إلينا من:
أ- أبائنا وأمهاتنا
ب- الناس أجمعين
ج- جميع ما سبق

السؤال الثالث : أكمل الفراغات التالية :

خمسة دراهم موزعة على كل جزئية درهماً

٥

١- الصوم: ترك ... الطعام ... و الشراب وغيرهما من المفطرات من طلوع الفجر إلى غروب الشمس تقرباً إلى الله .

٢- يقع بيت الله الحرام في مكة المكرمة

٣- الحج المبرور جزاؤه الجنة

٤- يحج المسلمون في شهر ذي الحجة

٥- الإقرار بأن محمداً عبد الله ورسوله أرسله الله للإنس و الجن بشيراً ونذيراً .

٥

السؤال الرابع: اذكر ما يلي:

خمسة دراهم موزعة على كل جزئية درهماً

١- مراتب الدين:

أ- الإسلام

ب- الإيمان

ج- الإحسان

٢- اثنين من أركان الإسلام:
أ- شهادة أن لا إله إلا الله وأن محمداً رسول الله .

صوم رمضان

إيتاء الزكاة

ب- إقام الصلاة

حج البيت الحرام

انتهت الأسئلة وأرجو للجميع التوفيق

نموذج إجابة الصف: الثالث الابتدائي

المادة: الفقه والسلوك

تم درجاء كل جزئية دة

أجب عن جميع الأسئلة التالية

السؤال الأول: ضع علامة (√) أمام العبارة الصحيحة وعلامة (X) أمام العبارة الخاطئة:

- ١- عند دخول الخلاء أقدم رجلي اليمنى (X)
٢- أجتنب قضاء الحاجة في طريق الناس (✓)
٣- عند صلاتي لا أزيل النجاسة عن ملابسي (X)
٤- أول ما يحاسب عليه العبد يوم القيامة هي الزكاة (X)
٥- أحب البلاد إلى الله مساجدها (✓)

تم درجاء موزي كل جزئية دة

السؤال الثاني: اختر الإجابة الصحيحة مما يلي بوضع خط تحتها:

- ١- أقول عند الخروج من الخلاء:
أ- غفر إنك ب- اللهم إني أسألك من فضلك
٢- من الأشياء التي لا يجوز دخول الخلاء بها:
أ- القلم ب- الساعة
٣- غسل مخرج البول أو الغائط حتى تزول النجاسة:
أ- الاستجمار ب- الاستنجاء
٤- مسح مخرج البول أو الغائط حتى تزول النجاسة:
أ- الاستجمار ب- الاستنجاء
٥- من الأشياء التي لا يجوز المسح بها:
أ- العظام ب- المناديل
٦- من شروط التنظف بغير الماء أن يكون مسح مخرج البول أو الغائط:
أ- مسحة واحدة ب- مسحتين فقط
٧- سن التمييز هو:
أ- ٩ سنوات ب- ٥ سنوات
٨- من شروط الصلاة:
أ- الوضوء ب- النجاسة
٩- من آداب دخول المسجد:
أ- الهدوء في المسجد ب- لعب الأطفال في المسجد
١٠- من نواقض الوضوء:
أ- البول ب- النوم العميق
ج- اللهم إني أعوذ بك من الخبث والخبائث
ج- المصحف
ج- التيمم
ج- التيمم
ج- الأحجار
ج- ثلاث مسحات وأكثر
ج- ٧ سنوات
ج- الكفر
ج- الأكل في المسجد
ج- جميع ماسبق

تم جزئية دة

السؤال الثالث: أكمل الفراغات التالية:

- ١- من آداب قضاء الحاجة: لا استقبل القبلة.... ولا أستدبرها عند قضاء الحاجة في الصحراء.
٢- من أنواع النجاسات... البول..... والغائط.
٣- أزيل النجاسة عن بدني وملابسي و مكاني.....
٤- يبدأ دخول وقت صلاة المغرب من غروب الشمس..... إلى أن يغيب الشفق الأحمر .

سؤاله ٥

السؤال الرابع: اكتب الرقم المناسب من العمود (أ) فيما يناسبه بالعمود (ب) :
(أ) (ب)

١- من شروط الصلاة	(٣) دعاء دخول المسجد
٢- من السرة إلى الركبة	(٥) وقت صلاة العشاء
٣- اللهم افتح لي أبواب رحمتك	(١) العقل
٤- اللهم إني أسألك من فضلك	(٢) عورة الرجل
٥- من مغيب الشفق الأحمر إلى نصف الليل	(٤) دعاء الخروج من المسجد

سؤاله ٦

السؤال الخامس: اذكر ما يلي:

١- ثلاثة من شروط الصلاة:

أ- الإسلام

ب- العقل

ج- التمييز

النية

دخول الوقت

استقبال القبلة

الوضوء

ستر العورة

إزالة النجاسة

٢- عدد ثلاثة من الأشياء التي أقوم بها عند انتظار الصلاة:

أ- الاستغفار وذكر الله .

ب- تحية المسجد .

ج- قراءة القرآن الكريم .

نموذج إجابة الصف: الثالث

المادة: لغتي

١٠

عشر درجات لكل لفة ١/٤ درجة
أجب عن جميع الأسئلة التالية

السؤال الأول: أقرأ ما يلي بالضبط مراعيًا صحة الوقف، وسلامة الوصل:

(أَحْسَنْتَ يَا عَادِلُ، فَالطَّائِرَةُ وَسَيِّئَةٌ لِلسَّفَرِ، فَهِيَ تَحْمِلُ رُكَّابًا مِنْ أَجْناسٍ مُتَنَوِّعَةٍ وَأَدْيَانٍ مُخْتَلِفَةٍ، وَلَا بُدَّ أَنْ نُرِيَهُمْ صُورَةً مُشْرِفَةً لِلْمُسْلِمِ الخُلُوقِ)

٥

خمس درجات موزعة كما هو موضح

السؤال الثاني: من درس (مصائبنا) أقرأ ثم أجيب:

(سَاعَدَتْ طَبِيعَةُ عَسِيرِ ذَاتِ الجَوِّ الْمُعْتَدِلِ وَالمِيَاهِ الوَفِيرَةِ وَالمَعَالِمِ الأَثَرِيَّةِ المُتَنَوِّعَةِ فِي أَنْ تُصْبِحَ أَبْهًا مَصِيفًا جَمِيلًا يُنْعَمُ السَّائِحُونَ فِيهَا بِالنَّسِيمِ العَلِيلِ.)

أ- اذكر العوامل التي ساعدت في أن تصبح أبها مصيفًا جميلًا.

طبيعة عسير ذات الجو المعتدل والمياه الوفيرة والمعالم الأثرية المتنوعة.

ب- استخرج من الفقرة ما يلي:

١- كلمة بها مد بالألف: (المعالم - ساعدت - ذات - المياه - أبها - السائحون - فيها)

٢- كلمة بها تنوين فتح: جميلًا - مصيفًا

٣- فعلاً ماضيًا: ساعدت

٤ - كلمة بها (أل) شمسية: النسيم - السائحون

٥- كلمة مفردتها (السائح): السائح

٦- كلمة معناها (القديمة): الأثرية

٧- حرف جر: في

٨- كلمة مؤنثها (المعتدلة): المعتدل

٩- كلمة نكرة: (مصيفًا - جميلًا)

السؤال الثالث: أختار الإجابة الصحيحة:

خمسة درهماً موزعة كما هو موضح

٥

- (١) جَلَسَ الْمَسَافِرُونَ عَلَى الْمَقَاعِدِ إِلَّا عَادِلًا.
- (٢) مَا أَحْسَنَ أَخْلَاقَ الْمُسْلِمِ.
- (٣) الطَّائِرَةُ أَسْرَعُ مِنَ السَّيَّارَةِ.
- (٤) يُمْنَعُ اسْتِخْدَامُ الْهَاتِفِ الْمَحْمُولِ فِي الْمُسْتَشْفَى.
- (٥) تَخْرُجُ الطُّيُورُ مِنْ أَعْشَانِهَا صَبَاحًا.
- (تَعْجَبُ - اسْتِثْنَاءٌ - نِدَاءٌ)
- (تَعْجَبُ - اسْتِفْهَامٌ - نِدَاءٌ)
- (تَعْجَبُ - اسْتِثْنَاءٌ - تَفْضِيلٌ)
- (اسم فاعل - اسم مفعول - اسم إشارة)
- (ظرف مكان - ظرف زمان - حرف جر)

السؤال الرابع: أرتب الكلمات الآتية لأكون منها جملاً مفيدةً:

أربع درهماً موزعة كما هو موضح

٤

١- الْحَقُّ - الْمُسْلِمُ - عَلَى - يُوَثِّرُ - غَيْرَهُ - نَفْسِهِ.

درهمان

الْمُسْلِمُ الْحَقُّ يُوَثِّرُ غَيْرَهُ عَلَى نَفْسِهِ.

٢- عَاصِمَةٌ - الرِّيَاضُ - الْعَرَبِيَّةُ - السُّعُودِيَّةُ - الْمَمْلَكَةُ.

درهمان

الرِّيَاضُ عَاصِمَةُ الْمَمْلَكَةِ الْعَرَبِيَّةِ السُّعُودِيَّةِ.

السؤال الخامس: أنسخ ما يلي:

٣

أَكْمَلُ الْمُؤْمِنِينَ إِيمَانًا أَحْسَنَهُمْ خُلُقًا

ثلاث درهماً لكل كلمة ١/٢ درهم

السؤال السادس: أكتب ما يملأ علي:

٣

بِالتَّعَاوُنِ وَالْاجْتِهَادِ نَحْتَارُ الصُّعُوبَاتِ ، وَنُحَقِّقُ الْغَايَاتِ.

انتهت الأسئلة وأرجو للجميع النجاح والتوفيق

الصف : الثالث الابتدائي

نموذج إجابة مادة: الرياضيات

كل جزئية من السؤال عليها درجة واحدة فقط

السؤال الأول: ضع دائرة حول رمز الإجابة الصحيحة.

١٠

- (١) القيمة المنزلية للرقم ٤ في العدد ٤٦٧٥ تساوي..... درجة
(أ) ٤ (ب) ٤٠ (ج) ٤٠٠ (د) ٤٠٠٠
- (٢) ٢ ألوف و ٧ مئات و ٥ عشرات و ٣ احاد على الصورة القياسية..... درجة
(أ) ٢٥٧٣ (ب) ٥٧٣٢ (ج) ٢٧٥٣ (د) ٣٥٧٢
- (٣) ٣، ٦، ٩،، ١٥، درجة
(أ) ١٠ (ب) ١١ (ج) ١٢ (د) ١٣
- (٤) اثنان وثلاثون ألفا وأربع مئة وخمسة وتسعون بالصورة القياسية..... درجة
(أ) ٣٣٤٥٩ (ب) ٣٣٥٩٤ (ج) ٣٣٩٤٥ (د) ٣٢٤٩٥
- (٥) العدد ٤٥٦٧ لأقرب الف يساوي.... درجة
(أ) ٥٠٠٠ (ب) ٤٠٠٠ (ج) ٤٥٠٠ (د) ٤٦٠٠
- (٦) حصل خالد على ٧٢٠ نقطة، وحصل نواف على ٧٠٢ نقطة، وحصل سلطان على ٧٢، فأيهما حصل على سبع مئة وعشرون؟ درجة
(أ) سلطان (ب) خالد (ج) نواف (د) حمد
- (٧) منزلة الرقم ٦ في العدد ٦٥٧٨٤ تكون درجة
(أ) العشرات (ب) المئات (ج) الألوف (د) عشرات الألوف
- (٨) $٥٤٣١ + ٤٤٤٤ = ٤٤٤٤ + ٥٤٣١$ تسمى خاصية درجة
(أ) المحاييد الجمعي (ب) المحاييد الضربي (ج) الإبدال (د) التجميع
- (٩) تقدير ناتج طرح $٥٦٩ - ٤٤٦$ لأقرب مئة يساوي درجة
(أ) ١٠٠ (ب) ٢٠٠ (ج) ٣٠٠ (د) ٤٠٠
- (١٠) تقدير ناتج جمع $٣١٦٤ + ١٢٣٤$ لأقرب ألف يساوي درجة
(أ) ١٠٠٠ (ب) ٢٠٠٠ (ج) ٣٠٠٠ (د) ٤٠٠٠

السؤال الثاني : أكمل بوضع الإجابة الصحيحة:

١٠

- (١) $٤ \times ٣ = ٤ \times ٣$ ٣
- (٢) $٥ + ٥ + ٥ + ٥ + ٥ + ٥ + ٥ = ٥ \times ٦$ ٦
- (٣) ٥٠، ٦٠، ٧٠، ٨٠، ٩٠، ٥٠
- (٤) المحاييد الضربي هو ... الواحد.....
- (٥) المحاييد الجمعي هو ... الصفر.....
- (٦) $٧٤٥٦ = ٦ + ٥٠٠ + ٤٠٠٠ + ٧٠٠٠$ ٧٠٠٠
- (٧) $٦ \times ٤ = ٢٤$ ٢٤
- (٨) $٨ \times ٣ = ٢٤$ ٢٤
- (٩) $٣ \times ١٠ = ٣٠$ ٣٠
- (١٠) $١٨ = ٩ \times ٢$ ٩

السؤال الثالث :

(أ) أوجد ناتج ما يلي :

٦

$$\begin{array}{r} 4786 \\ 2340+ \\ \hline 7126 \end{array} \quad \text{درجة} \quad \begin{array}{r} 4067 \\ 1321+ \\ \hline 5388 \end{array} \quad \text{درجة}$$

$$\begin{array}{r} 4262 \\ 1298- \\ \hline 2964 \end{array} \quad \text{درجة} \quad \begin{array}{r} 7000 \\ 1294- \\ \hline 5706 \end{array} \quad \text{درجة}$$

(ب) زرع ماجد شجيرات في حديقته ، فنظمها في سبع صفوف ووضع في كل صف ٧ شجيرات ، ما عدد الشجيرات التي زرعها ؟

..... عدد الشجيرات = $7 \times 7 = 49$ شجرة..... درجة.....

(ج) تحتوي علبة أقلام التلوين على ٦ أقلام ما عدد الأقلام التي تحتويها ١٠ علب من نفس النوع؟

..... عدد الأقلام = $10 \times 6 = 60$ قلم..... درجة.....

السؤال الرابع :

(أ) يوجد في بقالة صندوقان من علب الفراولة . إذ يحوي الصندوق الأول ٦٤٥ علبة ، ويحوي الثاني ٥٠٠ علبة فكم علبة فراولة يوجد في الصندوقان معا ؟

..... عدد علب الفراولة = $645 + 500 = 1145$ درجة.....

(أ) تحمل شاحنة ٤٢٥ كيسا من السكر و ١٧٦ كيسا من الأرز فكم تزيد أكياس السكر على أكياس الأرز؟

..... الزيادة = $425 - 176 = 249$ درجة.....

(ج) رتب الأعداد الآتية من الأصغر للكبير:

٧٨٠ ، ٤٢٥ ، ٦٤٥٢

الترتيب هو ٤٢٥..... ، ٧٨٠..... ، ٦٤٥٢..... درجة

(د) رتب الأعداد الآتية من الأكبر للأصغر :

٥٠٠٠ ، ٤٧٨ ، ٤٧٨٩

الترتيب هو ٥٠٠٠..... ، ٤٧٨٩..... ، ٤٧٨..... درجة

انتهى نموذج الإجابة

نموذج اجابة

الصف : الثالث الابتدائي

المادة: العلوم

أجب عن جميع الأسئلة التالية:

مكرر درجها متنوعة لكل جزئية درجة

١٠

السؤال الأول: اختر الإجابة الصحيحة:

(١) وحدة بناء أجسام جميع المخلوقات الحيّة هي
أ- الهواء ب- الغذاء ج- الماء د- الخلية

(٢) الوظيفة الرئيسية لجذور النباتات هي
أ- صنع الغذاء ب- امتصاص الماء والأملاح ج- إنتاج البذور د- التلقيح

(٣) الحيوان الذي يُشبه السحلية في دورة الحياة هو
أ- السلحفاة ب- الماعز ج- الذباب د- السمكة

(٤) تحصل معظم المنتجات على الطاقة من
أ- الصخور ب- المفترسات ج- الشمس د- المحللات

(٥) يستطيع الجمل أن يأكل النباتات الشوكية عن طريق
أ- خفّ الجمل ب- سنّام الجمل ج- الشفة المشقوقة د- جلد الجمل

(٦) يمكن أن تتضرر البيئة التي نعيش فيها عن طريق
أ- التدوير ب- زراعة الأشجار ج- إعادة الاستخدام د- رمي النفايات

(٧) يمكن أن يحدث الجفاف بسبب
أ- الحرائق ب- الأمراض ج- الزلازل د- قلة نزول الأمطار

(٨) تتسبب البراكين في
أ- الجفاف ب- التعرية ج- قتل المخلوقات الحية د- سقوط الأمطار

(٩) تُسمى الصخور المنصهرة التي توجد في باطن الأرض
أ- اللابة ب- الصخور ج- الرماد د- الصحارة

(١٠) تُكسّر الصخور فتهتز وينتج عن اهتزازها
أ- الزلازل ب- الفيضان ج- البركان د- الجفاف

السؤال الثاني: ضع علامة (✓) أمام العبارة الصحيحة وعلامة (x) أمام العبارة الخاطئة في كل مما يلي:

عشدرجاء موزعة لكلا جزئية درجة

١٠


- (✓) (1) المخلوقات الحيّة تتكاثر لتنتج أفرادًا جديدة.
- (✓) (2) يُمكن للبذرة أن تنبت وتصبح نباتًا جديدًا.
- (x) (3) يَمُرّ الإنسان بمرحلة التحوّل أثناء دورة حياته.
- (x) (4) المُستهلكات هي الكائنات التي تصنع غذاءها بنفسها .
- (x) (5) تستطيع كُل المخلوقات الحيّة أن تعيش في الصحراء.
- (✓) (6) جسم القنّذ مُغطّى بأشواك حادّة لكي يحمي نفسه من أعدائه المُفترسين.
- (x) (7) يُمكن للإنسان أن يحافظ على بيئته من خلال رمي النفايات على الأرض.
- (x) (8) يحدث الفيضان عند توقّف المطر عن النزول لِقِترَة طويلة.
- (✓) (9) يُصبح المخلوق الحيّ مُهدّدًا بالانقراض إذا كان عدد ماتبقّى من أفراده قليلاً.
- (✓) (10) يُسهم الإنسان في حدوث التجوية عن طريق تكسير الصُخور.

عشدرجاء موزعة لكل
جزئية درجة

١٠

السؤال الثالث: (أ) أمامك رسمة لنبات مُكتمل النمو: أكمل الجدول التالي باستخدام الكلمات التالية:

(الجذور - الورقة - الساق - الزهرة)



أ	الزهرة
ب	الساق
ج	الورقة
د	الجذور

(ب) صل كل عبارة في العمود الأول بما يناسبها في العمود الثاني:

- | | |
|---------------|--|
| أ- زلزال. | ١- تبدأ البرمائيات حياتها على شكل |
| ب- الصّبار. | ٢- المخلوق الحي الذي يصنع غذاؤه بنفسه هو |
| ج- بيضة. | ٣- عندما تتحرّك صخور القشرة الأرضية يحدث |
| د- المُنْتَج. | ٤- النبات الذي يستطيع تخزين الماء في ساقه هو |

(ج) أكمل الجُمْل التالية:

- ١- اكتب خاصية واحدة من خصائص الكائنات الحية: التكاثر أو الإنباتية أو الحركة أو النمو
- ٢- التدوير هو صنع مواد جديدة من مواد: مواد قديمة أو مستعملة

انتهت الأسئلة وأرجو لكم التوفيق

نموذج إجابة الصف: الثالث الابتدائي

المادة: توحيد

كل جزئية درهما

أجب عن جميع الأسئلة التالية

السؤال الأول: ضع علامة (√) أمام العبارة الصحيحة وعلامة (×) أمام العبارة الخاطئة:

١٠

- ١- عدد مراتب الدين: ثلاثة (✓)
٢- الصلاة هي الركن الأول من أركان الإسلام (×)
٣- أول ما يحاسب عليه العبد يوم القيامة: الصلاة (✓)
٤- الشهادتان أعظم أركان الإسلام (✓)
٥- الزكاة مفتاح الدخول إلى الإسلام (×)
٦- عدد الصلوات في اليوم الواحد خمس صلوات (✓)
٧- أمرنا الرسول صلى الله عليه وسلم بالتوحيد ونهانا عن الشرك (✓)
٨- متعُ الزكاة من أسباب منع المطر (✓)
٩- الصيام عبادة يجب الإخلاص فيها للناس (×)
١٠- أصلي التراويح في شهر ذي القعدة (×)

عشر درهما تراويح
كل جزئية درهما

السؤال الثاني: اختر الإجابة الصحيحة مما يلي بوضع خط تحتها:

١٠

- ١- أن نعبد الله كأننا نراه فإن لم نكن نراه فإنه يرانا:
أ- الإسلام
ب- الإحسان
ج- الإيمان
- ٢- عدد أركان الإسلام:
أ- ستة
ب- خمسة
ج- أربعة
- ٣- حكم الصلاة على المسلمين:
أ- واجبة
ب- كفر
ج- مستحبة
- ٤- الركن الرابع من أركان الإسلام:
أ- الشهادتان
ب- الحج
ج- صوم رمضان
- ٥- يجب الحج في العمر..... لمن استطاع إليه سبيلاً:
أ- مرة واحدة
ب- مرتين
ج- ثلاث مرات
- ٦- لا معبود يستحق العبادة إلا الله معنى:
أ- الصوم
ب- لا إله إلا الله
ج- شهادة أن محمداً رسول الله
- ٧- إخراج جزء من المال وإعطاؤه للفقراء والمساكين معنى:
أ- الزكاة
ب- الهدية
ج- شهادة أن محمداً رسول الله
- ٨- العبادة المرتبطة بشهر رمضان:
أ- الأكل
ب- النوم
ج- الصوم
- ٩- في شهر رمضان تفتح أبواب:
أ- الجنة
ب- النار
ج- البيت
- ١٠- الرسول صل الله عليه وسلم أحب إلينا من:
أ- أبائنا وأمهاتنا
ب- الناس أجمعين
ج- جميع ما سبق

السؤال الثالث : أكمل الفراغات التالية :

خمسة درهماً موزعة على كل جزئية درهم

٥

١- الصوم: ترك ...الطعام... و الشراب وغيرهما من المفطرات من طلوع الفجر إلى غروب الشمس تقريباً إلى الله .

٢- يقع بيت الله الحرام في مكة المكرمة

٣- الحج المبرور جزاؤه الجنة

٤- يحج المسلمون في شهر ذي الحجة

٥- الإقرار بأن محمداً عبد الله ورسوله أرسله الله للإنس و الجن بشيراً ونذيراً .

٥

السؤال الرابع: اذكر ما يلي:

خمسة درهماً موزعة على كل جزئية درهم

١- مراتب الدين:

أ- الإسلام

ب- الإيمان

ج- الإحسان

٢- اثنين من أركان الإسلام:
أ- شهادة أن لا إله إلا الله وأن محمداً رسول الله .

صوم رمضان

إيتاء الزكاة

ب- إقام الصلاة

حج البيت الحرام

انتهت الأسئلة وأرجو للجميع التوفيق

نموذج إجابة الصف: الثالث الابتدائي

المادة: الفقه والسلوك

تم درجاء كل جزئية دة

أجب عن جميع الأسئلة التالية

السؤال الأول: ضع علامة (√) أمام العبارة الصحيحة وعلامة (X) أمام العبارة الخاطئة:

- ١- عند دخول الخلاء أقدم رجلي اليمنى (X)
٢- أجتنب قضاء الحاجة في طريق الناس (✓)
٣- عند صلاتي لا أزيل النجاسة عن ملابسي (X)
٤- أول ما يحاسب عليه العبد يوم القيامة هي الزكاة (X)
٥- أحب البلاد إلى الله مساجدها (✓)

تم درجاء توري كل جزئية دة

السؤال الثاني: اختر الإجابة الصحيحة مما يلي بوضع خط تحتها:

- ١- أقول عند الخروج من الخلاء:
أ- غفرانك ب- اللهم إني أسألك من فضلك
٢- من الأشياء التي لا يجوز دخول الخلاء بها:
أ- القلم ب- الساعة
٣- غسل مخرج البول أو الغائط حتى تزول النجاسة:
أ- الاستجمار ب- الاستنجاء
٤- مسح مخرج البول أو الغائط حتى تزول النجاسة:
أ- الاستجمار ب- الاستنجاء
٥- من الأشياء التي لا يجوز المسح بها:
أ- العظام ب- المناديل
٦- من شروط التنظف بغير الماء أن يكون مسح مخرج البول أو الغائط:
أ- مسحة واحدة ب- مسحتين فقط
٧- سن التمييز هو:
أ- ٩ سنوات ب- ٥ سنوات
٨- من شروط الصلاة:
أ- الوضوء ب- النجاسة
٩- من آداب دخول المسجد:
أ- الهدوء في المسجد ب- لعب الأطفال في المسجد
١٠- من نواقض الوضوء:
أ- البول ب- النوم العميق
ج- اللهم إني أعوذ بك من الخبث والخبائث
ج- المصحف
ج- التيمم
ج- التيمم
ج- الأحجار
ج- ثلاث مسحات وأكثر
ج- ٧ سنوات
ج- الكفر
ج- الأكل في المسجد
ج- جميع ماسبق

تم جزئية دة

السؤال الثالث: أكمل الفراغات التالية:

- ١- من آداب قضاء الحاجة: لا استقبل القبلة.... ولا أستدبرها عند قضاء الحاجة في الصحراء.
٢- من أنواع النجاسات البول..... والغائط.
٣- أزيل النجاسة عن بدني وملابسي و مكاني.....
٤- يبدأ دخول وقت صلاة المغرب من غروب الشمس..... إلى أن يغيب الشفق الأحمر.

سؤاله ٥

السؤال الرابع: اكتب الرقم المناسب من العمود (أ) فيما يناسبه بالعمود (ب) :
(أ) (ب)

١- من شروط الصلاة	(٣) دعاء دخول المسجد
٢- من السرة إلى الركبة	(٥) وقت صلاة العشاء
٣- اللهم افتح لي أبواب رحمتك	(١) العقل
٤- اللهم إني أسألك من فضلك	(٢) عورة الرجل
٥- من مغيب الشفق الأحمر إلى نصف الليل	(٤) دعاء الخروج من المسجد

سؤاله ٦

السؤال الخامس: اذكر ما يلي:

١- ثلاثة من شروط الصلاة:

أ- الإسلام

الوضوء

النية

دخول الوقت

ب- العقل

ستر العورة

استقبال القبلة

ج- التمييز

إزالة النجاسة

٢- عدد ثلاثة من الأشياء التي أقوم بها عند انتظار الصلاة:

أ- الاستغفار وذكر الله .

ب- تحية المسجد .

ج- قراءة القرآن الكريم .

نموذج إجابة الصف: الثالث

المادة: لغتي

١٠

عشر درجات لكل لفة ١/٤ درجة
أجب عن جميع الأسئلة التالية

السؤال الأول: أقرأ ما يلي بالضبط مراعيًا صحة الوقف، وسلامة الوصل:

(أَحْسَنْتَ يَا عَادِلُ، فَالطَائِرَةُ وَسَيِّلَةُ لِلسَّفَرِ، فَهِيَ تَحْمِلُ رُكَّابًا مِنْ أَجْنَاسٍ مُتَنَوِّعَةٍ وَأَدْيَانٍ مُخْتَلِفَةٍ، وَلَا بُدَّ أَنْ نُرِيَهُمْ صُورَةً مُشْرِفَةً لِلْمُسْلِمِ الْخُلُوقِ)

٥

خمس درجات موزعة كما هو موضح

السؤال الثاني: من درس (مصائبنا) أقرأ ثم أجيب:

(سَاعَدَتْ طَبِيعَةُ عَسِيرِ ذَاتِ الْجَوِّ الْمُعْتَدِلِ وَالْمِيَاهُ الْوَفِيرَةَ وَالْمَعَالِمُ الْأَثْرِيَّةُ الْمُتَنَوِّعَةَ فِي أَنْ تُصْبِحَ أَبْهًا مَصِيفًا جَمِيلًا يَنْعَمُ السَّائِحُونَ فِيهَا بِالنَّسِيمِ الْعَلِيلِ.)

أ- اذكر العوامل التي ساعدت في أن تصبح أبها مصيفًا جميلًا.

طبيعة عسير ذات الجو المعتدل والمياه الوفيرة والمعالم الأثرية المتنوعة.

ب- استخرج من الفقرة ما يلي:

١- كلمة بها مد بالألف: (المعالم - ساعدت - ذات المياه - أبها - السائحون - فيها)

٢- كلمة بها تنوين فتح: جميلًا - مصيفًا

٣- فعلاً ماضيًا: ساعدت

٤ - كلمة بها (أل) شمسية: النسيم - السائحون

٥- كلمة مفردتها (السائح): السائح

٦- كلمة معناها (القديمة): الأثرية

٧- حرف جر: في

٨- كلمة مؤنثها (المعتدلة): المعتدل

٩- كلمة نكرة: (مصيفًا - جميلًا)

السؤال الثالث: أختار الإجابة الصحيحة:

خمسة درهماً موزعة كما هو موضح

٥

- (١) جَلَسَ الْمَسَافِرُونَ عَلَى الْمَقَاعِدِ إِلَّا عَادِلًا.
- (٢) مَا أَحْسَنَ أَخْلَاقَ الْمُسْلِمِ.
- (٣) الطَّائِرَةُ أَسْرَعُ مِنَ السَّيَّارَةِ.
- (٤) يُمْنَعُ اسْتِخْدَامُ الْهَاتِفِ الْمَحْمُولِ فِي الْمُسْتَشْفَى.
- (٥) تَخْرُجُ الطُّيُورُ مِنْ أَعْشَانِهَا صَبَاحًا.
- (تَعْجَبُ - اسْتِثْنَاءٌ - نِدَاءٌ)
- (تَعْجَبُ - اسْتِفْهَامٌ - نِدَاءٌ)
- (تَعْجَبُ - اسْتِثْنَاءٌ - تَفْضِيلٌ)
- (اسم فاعل - اسم مفعول - اسم إشارة)
- (ظرف مكان - ظرف زمان - حرف جر)

السؤال الرابع: أرتب الكلمات الآتية لأكون منها جملاً مفيدةً:

أربع درهماً موزعة كما هو موضح

٤

١- الْحَقُّ - الْمُسْلِمُ - عَلَى - يُوَثِّرُ - غَيْرَهُ - نَفْسِهِ.

درهمان

الْمُسْلِمُ الْحَقُّ يُوَثِّرُ غَيْرَهُ عَلَى نَفْسِهِ.

٢- عَاصِمَةٌ - الرِّيَاضُ - العَرَبِيَّةُ - السُّعُودِيَّةُ - الْمَمْلَكَةُ.

درهمان

الرِّيَاضُ عَاصِمَةُ الْمَمْلَكَةِ الْعَرَبِيَّةِ السُّعُودِيَّةِ.

السؤال الخامس: أنسخ ما يلي:

٣

أَكْمَلُ الْمُؤْمِنِينَ إِيمَانًا أَحْسَنَهُمْ خُلُقًا

ثلاث درهماً لكل كلمة ١/٢ درهم

السؤال السادس: أكتب ما يملأ عليّ:

٣

بِالتَّعَاوُنِ وَالْاجْتِهَادِ نَحْتَارُ الصُّعُوبَاتِ ، وَنُحَقِّقُ الْغَايَاتِ.

انتهت الأسئلة وأرجو للجميع النجاح والتوفيق

الصف : الثالث الابتدائي

نموذج إجابة مادة: الرياضيات

كل جزئية من السؤال عليها درجة واحدة فقط

السؤال الأول: ضع دائرة حول رمز الإجابة الصحيحة.

١٠

- (١) القيمة المنزلية للرقم ٤ في العدد ٤٦٧٥ تساوي..... درجة
(أ) ٤ (ب) ٤٠ (ج) ٤٠٠ (د) ٤٠٠٠
- (٢) ٢ ألوف و ٧ مئات و ٥ عشرات و ٣ احاد على الصورة القياسية..... درجة
(أ) ٢٥٧٣ (ب) ٥٧٣٢ (ج) ٢٧٥٣ (د) ٣٥٧٢
- (٣) ٣، ٦، ٩،، ١٥، درجة
(أ) ١٠ (ب) ١١ (ج) ١٢ (د) ١٣
- (٤) اثنان وثلاثون ألفا وأربع مئة وخمسة وتسعون بالصورة القياسية..... درجة
(أ) ٣٣٤٥٩ (ب) ٣٣٥٩٤ (ج) ٣٣٩٤٥ (د) ٣٢٤٩٥
- (٥) العدد ٤٥٦٧ لأقرب الف يساوي.... درجة
(أ) ٥٠٠٠ (ب) ٤٠٠٠ (ج) ٤٥٠٠ (د) ٤٦٠٠
- (٦) حصل خالد على ٧٢٠ نقطة، وحصل نواف على ٧٠٢ نقطة، وحصل سلطان على ٧٢، فأيهما حصل على سبع مئة وعشرون؟ درجة
(أ) سلطان (ب) خالد (ج) نواف (د) حمد
- (٧) منزلة الرقم ٦ في العدد ٦٥٧٨٤ تكون درجة
(أ) العشرات (ب) المئات (ج) الألوف (د) عشرات الألوف
- (٨) $٥٤٣١ + ٤٤٤٤ = ٤٤٤٤ + ٥٤٣١$ تسمى خاصية درجة
(أ) المحاييد الجمعي (ب) المحاييد الضربي (ج) الإبدال (د) التجميع
- (٩) تقدير ناتج طرح $٥٦٩ - ٤٤٦$ لأقرب مئة يساوي درجة
(أ) ١٠٠ (ب) ٢٠٠ (ج) ٣٠٠ (د) ٤٠٠
- (١٠) تقدير ناتج جمع $٣١٦٤ + ١٢٣٤$ لأقرب ألف يساوي درجة
(أ) ١٠٠٠ (ب) ٢٠٠٠ (ج) ٣٠٠٠ (د) ٤٠٠٠

السؤال الثاني : أكمل بوضع الإجابة الصحيحة:

١٠

- (١) $٤ \times ٣ = ٤ \times ٣$ ٣ درجة
- (٢) $٥ + ٥ + ٥ + ٥ + ٥ + ٥ + ٥ = ٥ \times ٦$ ٦ درجة
- (٣) ٩٠، ٨٠، ٧٠، ٦٠،، ٥٠ درجة
- (٤) المحاييد الضربي هو ... الواحد..... درجة
- (٥) المحاييد الجمعي هو ... الصفر..... درجة
- (٦) $٧٤٥٦ = ٦ + ٥٠٠ + ٤٠٠٠ + ٧٠٠٠$ درجة
- (٧) $٦ \times ٤ = ٢٤$ ٢٤ درجة
- (٨) $٨ \times ٣ = ٢٤$ ٢٤ درجة
- (٩) $٣ \times ١٠ = ٣٠$ ٣٠ درجة
- (١٠) $١٨ = ٩ \times ٢$ ٩ درجة

السؤال الثالث :

(أ) أوجد ناتج ما يلي :

٦

$$\begin{array}{r} 4786 \\ 2345+ \\ \hline 7131 \end{array} \quad \text{درجة} \quad \begin{array}{r} 4567 \\ 1321+ \\ \hline 5888 \end{array} \quad \text{درجة}$$

$$\begin{array}{r} 4262 \\ 1298- \\ \hline 2964 \end{array} \quad \text{درجة} \quad \begin{array}{r} 7000 \\ 1294- \\ \hline 5706 \end{array} \quad \text{درجة}$$

(ب) زرع ماجد شجيرات في حديقته ، فنظمها في سبع صفوف ووضع في كل صف ٧ شجيرات ، ما عدد الشجيرات التي زرعها ؟

..... عدد الشجيرات = $7 \times 7 = 49$ شجرة..... درجة.....

(ج) تحتوي علبة أقلام التلوين على ٦ أقلام ما عدد الأقلام التي تحتويها ١٠ علب من نفس النوع؟

..... عدد الأقلام = $10 \times 6 = 60$ قلم..... درجة.....

السؤال الرابع :

(أ) يوجد في بقالة صندوقان من علب الفراولة . إذ يحوي الصندوق الأول ٦٤٥ علبة ، ويحوي الثاني ٥٠٠ علبة فكم علبة فراولة يوجد في الصندوقان معا ؟

..... عدد علب الفراولة = $645 + 500 = 1145$ درجة.....

(أ) تحمل شاحنة ٤٢٥ كيسا من السكر و ١٧٦ كيسا من الأرز فكم تزيد أكياس السكر على أكياس الأرز؟

..... الزيادة = $425 - 176 = 249$ درجة.....

(ج) رتب الأعداد الآتية من الأصغر للأكبر:

٧٨٠ ، ٤٢٥ ، ٦٤٥٢

الترتيب هو٤٢٥..... ،٧٨٠..... ،٦٤٥٢..... درجة

(د) رتب الأعداد الآتية من الأكبر للأصغر :

٥٠٠٠ ، ٤٧٨ ، ٤٧٨٩

الترتيب هو٥٠٠٠..... ،٤٧٨٩..... ،٤٧٨..... درجة

انتهى نموذج الإجابة

نموذج اجابة

الصف : الثالث الابتدائي

المادة: العلوم

أجب عن جميع الأسئلة التالية:

مكرر درجها متنوعة لكل جزئية درجة

١٠

السؤال الأول: اختر الإجابة الصحيحة:

(١) وحدة بناء أجسام جميع المخلوقات الحيّة هي
أ- الهواء ب- الغذاء ج- الماء د- الخلية

(٢) الوظيفة الرئيسية لجذور النباتات هي
أ- صنع الغذاء ب- امتصاص الماء والأملاح ج- إنتاج البذور د- التلقيح

(٣) الحيوان الذي يُشبه السحلية في دورة الحياة هو
أ- السلحفاة ب- الماعز ج- الذباب د- السمكة

(٤) تحصل معظم المنتجات على الطاقة من
أ- الصخور ب- المفترسات ج- الشمس د- المحللات

(٥) يستطيع الجمل أن يأكل النباتات الشوكية عن طريق
أ- خفّ الجمل ب- سنّام الجمل ج- الشفة المشقوقة د- جلد الجمل

(٦) يمكن أن تتضرر البيئة التي نعيش فيها عن طريق
أ- التدوير ب- زراعة الأشجار ج- إعادة الاستخدام د- رمي النفايات

(٧) يمكن أن يحدث الجفاف بسبب
أ- الحرائق ب- الأمراض ج- الزلازل د- قلة نزول الأمطار

(٨) تتسبب البراكين في
أ- الجفاف ب- التعرية ج- قتل المخلوقات الحية د- سقوط الأمطار

(٩) تُسمى الصخور المنصهرة التي توجد في باطن الأرض
أ- اللابة ب- الصخور ج- الرماد د- الصحارة

(١٠) تُكسّر الصخور فتهتز وينتج عن اهتزازها
أ- الزلازل ب- الفيضان ج- البركان د- الجفاف

السؤال الثاني: ضع علامة (✓) أمام العبارة الصحيحة وعلامة (x) أمام العبارة الخاطئة في كل مما يلي:

عشدرجاء موزعة لكلا جزئية درجة

١٠


- (✓) (1) المخلوقات الحيّة تتكاثر لتنتج أفرادًا جديدة.
- (✓) (2) يُمكن للبذرة أن تنبت وتصبح نباتًا جديدًا.
- (x) (3) يَمُرّ الإنسان بمرحلة التحوّل أثناء دورة حياته.
- (x) (4) المُستهلكات هي الكائنات التي تصنع غذاءها بنفسها .
- (x) (5) تستطيع كُل المخلوقات الحيّة أن تعيش في الصحراء.
- (✓) (6) جسم القنفذ مُغطّى بأشواك حادّة لكي يحمي نفسه من أعدائه المُفترسين.
- (x) (7) يُمكن للإنسان أن يحافظ على بيئته من خلال رمي النفايات على الأرض.
- (x) (8) يحدث الفيضان عند توقّف المطر عن النزول لِقِترَة طويلة.
- (✓) (9) يُصبح المخلوق الحيّ مُهدّدًا بالانقراض إذا كان عدد ماتبقّى من أفرادهِ قليلاً.
- (✓) (10) يُسهم الإنسان في حدوث التجوية عن طريق تكسير الصُخور.

عشدرجاء موزعة لكل
جزئية درجة

١٠

السؤال الثالث: (أ) أمامك رسمة لنبات مُكتمل النمو: أكمل الجدول التالي باستخدام الكلمات التالية:

(الجذور - الورقة - الساق - الزهرة)



أ	الزهرة
ب	الساق
ج	الورقة
د	الجذور

(ب) صل كل عبارة في العمود الأول بما يناسبها في العمود الثاني:

- | | |
|---------------|--|
| أ- زلزال. | ١- تبدأ البرمائيات حياتها على شكل |
| ب- الصّبار. | ٢- المخلوق الحي الذي يصنع غذاؤه بنفسه هو |
| ج- بيضة. | ٣- عندما تتحرّك صخور القشرة الأرضية يحدث |
| د- المُنْتَج. | ٤- النبات الذي يستطيع تخزين الماء في ساقه هو |

(ج) أكمل الجُمْل التالية:

- ١- اكتب خاصية واحدة من خصائص الكائنات الحية: التكاثر أو الإنباتية أو الحركة أو النمو
- ٢- التدوير هو صنع مواد جديدة من مواد: مواد قديمة أو مستعملة

انتهت الأسئلة وأرجو لكم التوفيق