

توعرب

منتدى تو عرب التعليمي

www.arabia2.com/vb

موقع توعرب التعليمي

www.arabia2.com/vb

ورقة عمل: مراجعة قراءة الأعداد وكتابتها من ١ إلى ١٠ + الجمع


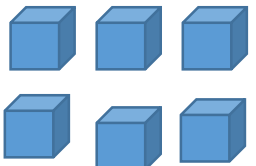

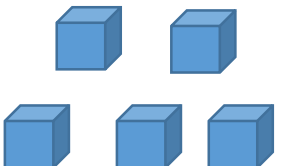

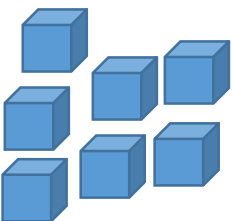

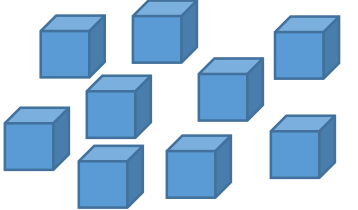
الأحد ٢٤ / ٥ / ١٤٤١ هـ

الصف : الأول

الاسم :

اكتب الأعداد في كل جدول من ١ إلى ١٠ مرتبة بشكل صحيح.

اكتب عدد الأشكال التالية في المربعات المجاورة لها.

اوجد نواتج الجمع التالي :

$$\square = ١ + ٧$$

$$\square = ٤ + ٥$$

$$\square = ٣ + ٣$$

$$\square = ٠ + ٨$$

$$\square = ١ + ٩$$

$$\square = ٣ + ٤$$