

توعرب

منتدى تو عرب التعليمي

www.arabia2.com/vb

موقع توعرب التعليمي

www.arabia2.com/vb

اسم الطالب /

السؤال الأول :

رتب الأعداد الآتية من الأصغر إلى الأكبر

٩٠ ، ٨ ، ٦٥ ، ١٣

..... ، ، ،

٨٩ ، ٢٣ ، ٤٤ ، ١٠٠

..... ، ، ،

٢٩ ، ٩٢ ، ٥٣ ، ٣٥

..... ، ، ،

السؤال الثاني :

قارن بين الأعداد باستعمال $=$ $<$ $>$

١٥ ○ ١٥

٦٣ ○ ٢٧

— ○ —

٢٩ ○ ٤٥

السؤال الثالث : أكتب العدد

..... ٥٠٠ + ٢٠ + ٤

..... ٧٠٠ + ٧٠ + ٦

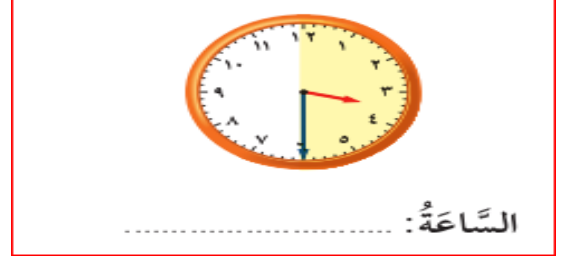
..... ٢٠٠ + ٣٠ + ١

اختبار رياضيات الفترة الثالثة - الصف الثاني الابتدائي ١٤٤١ هـ

اسم الطالب /

الدرجة

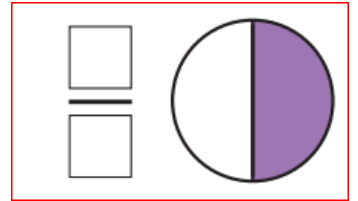
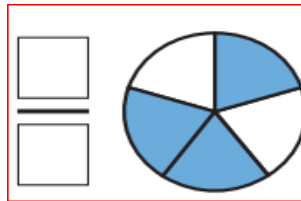
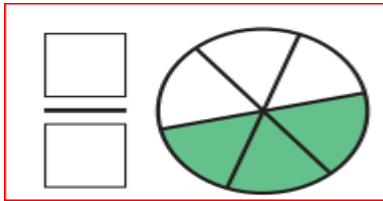
السؤال الأول : أكتب الوقت الذي تشير إليه الساعة (٤ درجات)





أعدّ وأكتب قيمة النقود (درجتان)



أكتب الكسر الذي تدل عليه الرسومات التالية (٣ درجات)



أفان بين الكسور بوضع علامة (> أو <) (٤ درجات)



ألون الجزء الذي يشير إليه الكسر (درجتان)

