

توعرب

منتدى تو عرب التعليمي

www.arabia2.com/vb

موقع تو عرب التعليمي

www.arabia2.com/vb

الفصل الخامس



الأعداد

حتى

٢



أي الدمى عددها أكبر؛ البيضاء، أم
البنية؟

أستكشف



البيضاء

المفردات

بعد

قبل

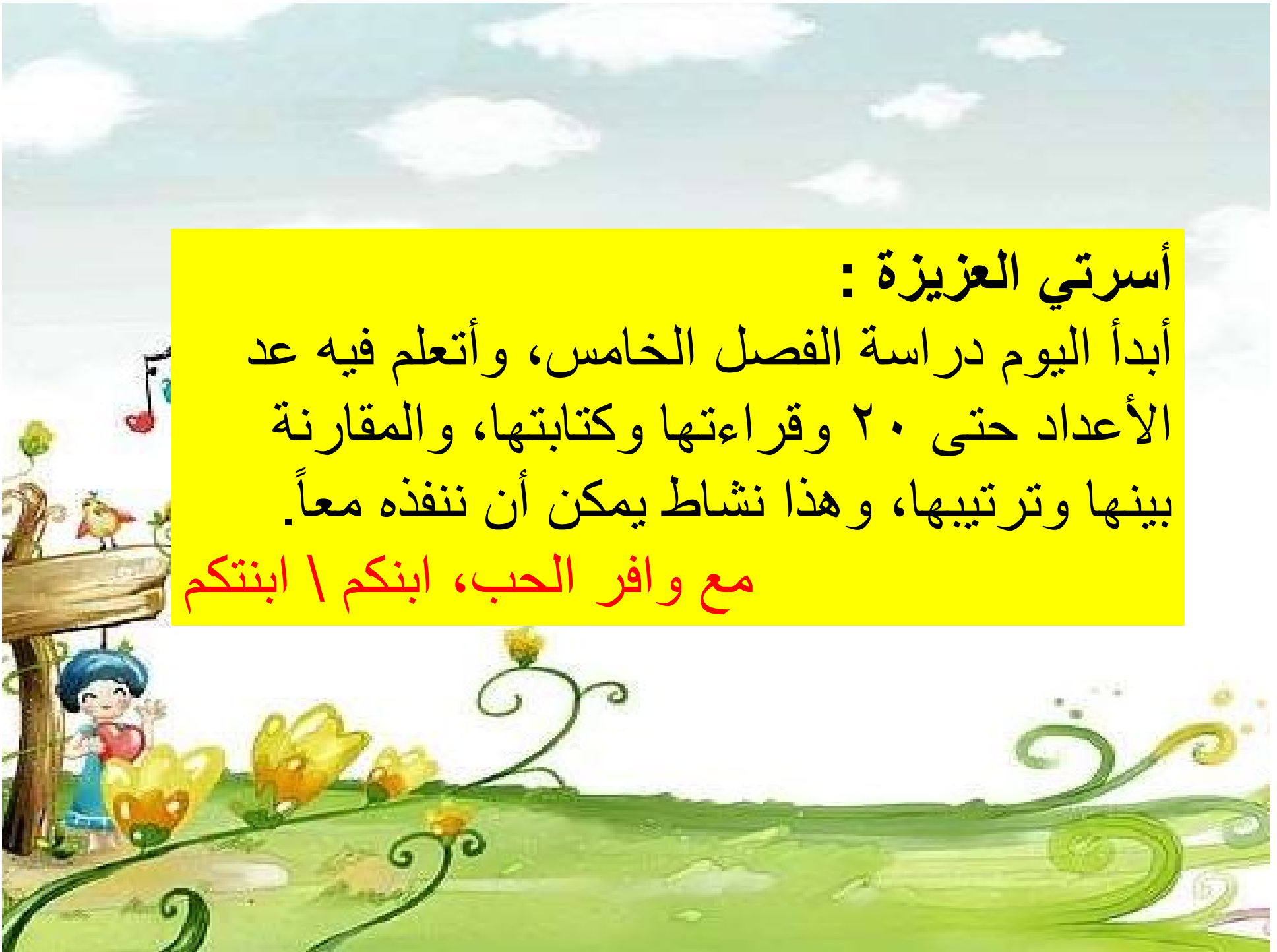
خط الأعداد

بين

أسرتي العزيزة :

أبدأ اليوم دراسة الفصل الخامس، وأتعلم فيه عد الأعداد حتى ٢٠ وقراءتها وكتابتها، والمقارنة بينها وترتيبها، وهذا نشاط يمكن أن ننفذه معاً.

مع وافر الحب، ابنكم | ابنتكم








نشاط

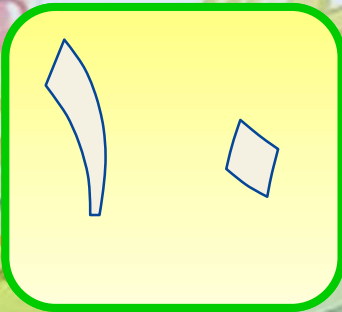
اطلب إلى طفلك أن يكون مجموعتين كل منهما تحوي أقلاماً
ومساطر، أو غير ذلك... بحيث يكون عددها ضمن العدد ٢٠،
اطلب إليه أن يكتب عدد العناصر في كل منهما، ثم اطلب إليه أن
يقارن بينهما ليحدد المجموعتين اللتين لهما العدد نفسه من
العناصر، وأي المجموعتين أكبر وأيهما أصغر. كرر النشاط مع
أعداد مختلفة ضمن ٢٠.

التهيئة

عد الجزرات، واكتب
عددتها

استكشاف

٥	٤	٣	٢	١
				
١٠	٩	٨	٧	٦

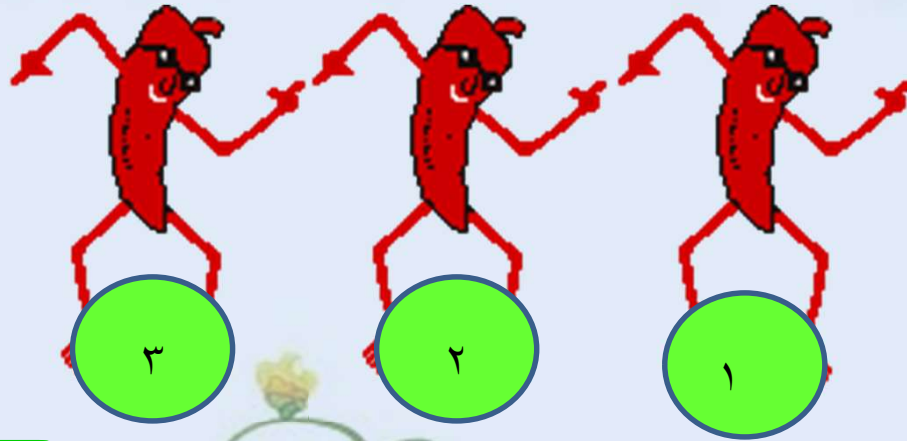


التهيئة

٢

عد حبات الفلفل،
واكتب العدد

استكشاف



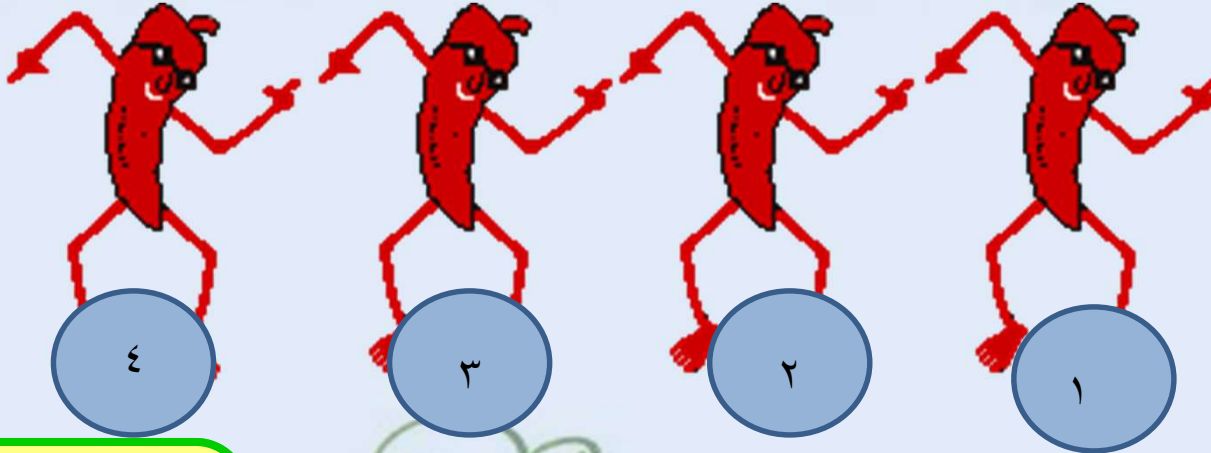
٣

التهيئة

٢

عد حبات الفلفل،
واكتب العدد

استكشاف



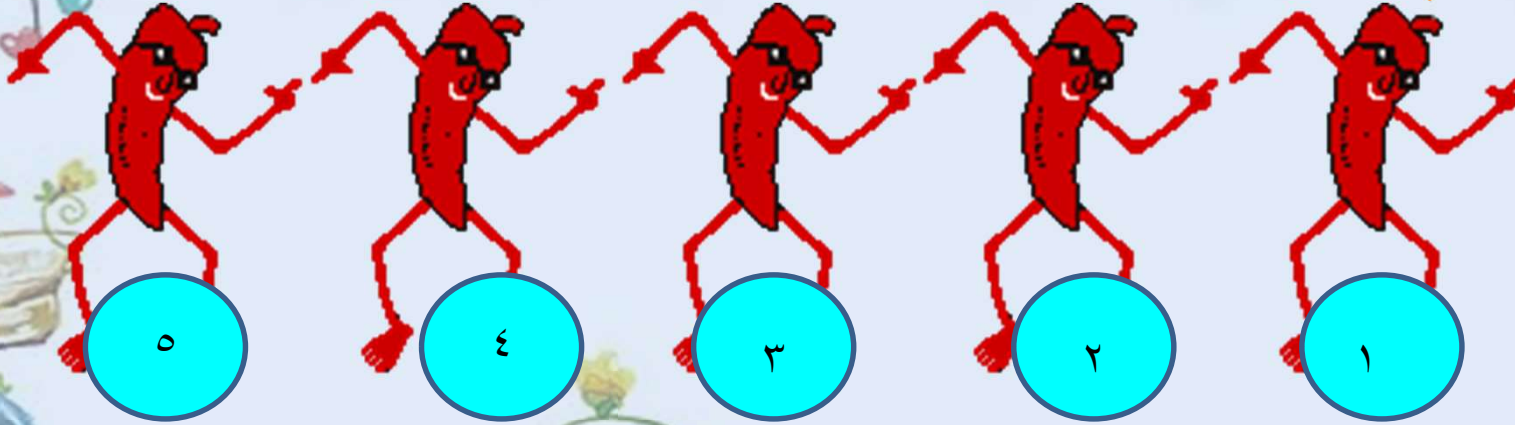
٤

التهيئة

٢

عد حبات الفلفل،
واكتب العدد

استكشاف



٥

التهيئة

٣

اكتب العدد المناسب
في الفراغ

استكشاف



٣

٢



١

التهيئة

٤

اكتب العدد المناسب
في الفراغ

استكشف



الفصل الخامس




هيا بنا نلعب



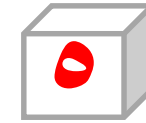


بحيرة الضفادع

تمييز الأعداد



(مرقم من ٠ إلى ٥)



مواد اللعبة



للمعلم:

اذكر قواعد اللعبة للطلّاب، واطلب إليهم أن ينفذوا ما يأتي:

- العب مع زميلك، وتبادل الأدوار معه.
- ضع   عند نقطة البداية
- ليختر أحدهما  والآخر 
- ارم 
- حرك مكعبك عدداً من الخطوات بمقدار العدد الظاهر على 



• إذا وصلت بمكعبك إلى الورقة التي وصل إليها زميلك أو إلى ورقة عليها ضفدع' فإنه يمكنك القفز إلى الورقة التالية
• اللاعب الذي يصل إلى العدد ١٧ أولاً يكون هو الفائز.





١١

١٠

٩

٨

١٢

٧

١٣

٦

١٤

٥

٤

١٥

٣

١٦

٢

١٧

١

الْانْتِهَاءُ

الْبِدَايَةُ

اختبار الفصل الخامس



عد الأشياء التالية واكتب عددها



٧

٦

٥

٤

٣

٢

١



١

٢

١

١

١

٠

٩

٨



عد الأشياء التالية واكتب عددها

٢

١٠	٩	٨	٧	٦	٥	٤	٣	٢	١
									
									
					١٥	١٤	١٣	١٢	١١



عد الأشياء التالية واكتب عددها



5 4 3 2 1

10 9 8 7 6

15 14 13 12 11

1 7 1 6





عد الأشياء التالية واكتب عددها



5 4 3 2 1

1 0 9 8 7 6

1 2 1 1

5 4 3 2 1

1 0 9 8 7 6

1 4 1 3 2 1 1





ضع 0 حول المجموعة ذات العدد الأكبر.



5 4 3 2 1
1 0 9 8 7 6
1 2 1 1

5 4 3 2 1
1 0 9 8 7 6
1 4 1 3 2 1



اكتب العدد المناسب في الفراغ



← | | | →


2 18 7

الاختبار التراكمي الفصول ١ - ٥




اقراء كل سؤال لاختيار الإجابة الصحيحة






19








18



17















10



12

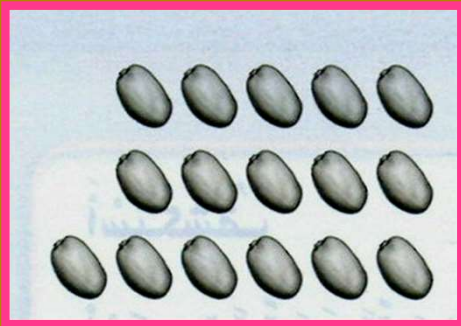
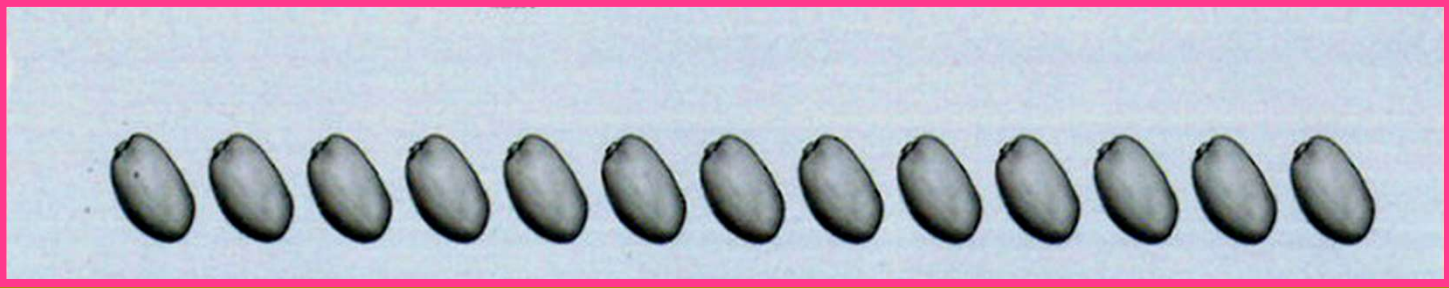
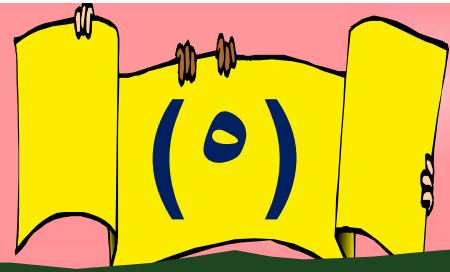
16



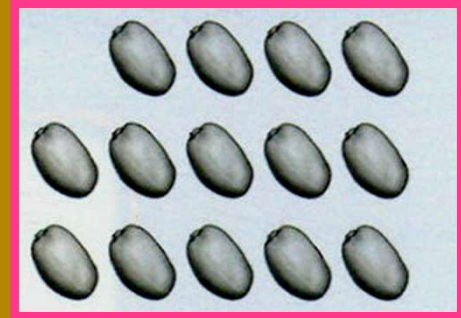


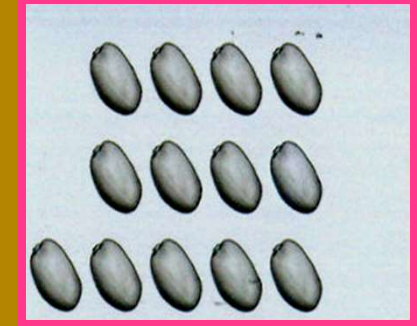








۱۶








۱۴



۱۳






15





12



10






20
v



19



18




العدادان





فكرة الدرس

أسمي العددين ١١، ١٢ وأميزهما،
وأعدهما، وأكتبهما باستعمال أشياء
ملموسة، ورسوم توضيحية.



المفردات

أَحَدَ عَشَرَ

إِثْنَا عَشَرَ

عد الأشياء التالية



٦












٥

٤

٣

٢

١

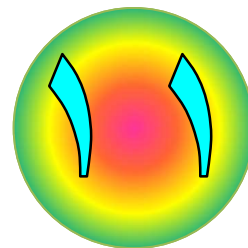
١١

١٠

٩

٨












٧

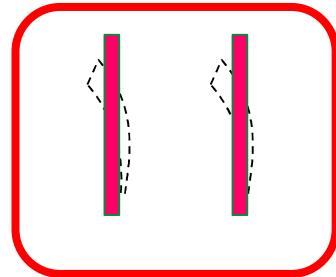




مرّر قلمك

على العدد المنقط

				٦	٥	٤	٣	٢	١	
										
										
					١	١	١	٩	٨	٧

















ثم استعمل ورقة العمل (٢)
وقطع العد لتوضح عددها

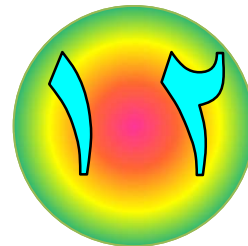
عد الأشياء التالية



7 6 5 4 3 2 1













1 2 1 1 1 2 1 2

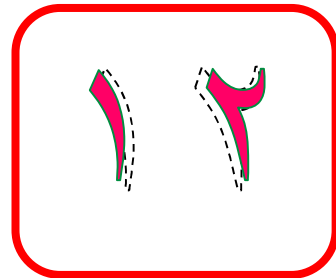


٢ مَرَّر قَلَمَكَ

على العدد المنقط



			٧	٦	٥	٤	٣	٢	١			
												
												
					١	٢	١	١	١	١	١	١





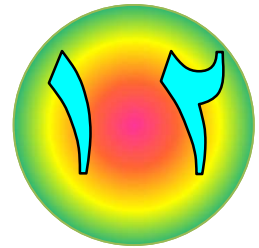
ثم استعمل ورقة العمل (٢)
وقطع العد لتوضح عددها

٣

عد الأشياء التالية وانطق عددها















			٧	٦	٥	٤	٣	٢	١
					١	٢	١	١	١

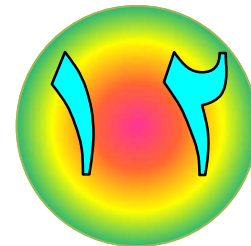




ثم استعمل ورقة العمل
(٢) وقطع العد لتمثل
العدد وتكتبه





٤

عد الأشياء التالية وانطق عددها



٦


٥

٤

٣

٢

١

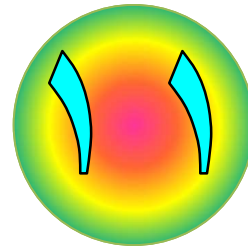


١١

١٠

٨

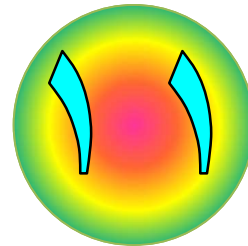
٧






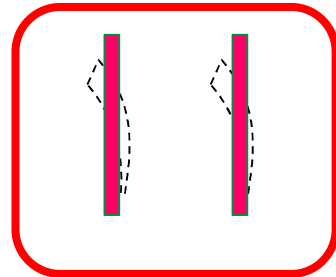
ثم استعمل ورقة العمل (٢)
وقطع العد لتمثل العدد وتكتبه

				٦	٥	٤	٣	٢	١	
					١	١	١	٩	٨	٧





مرّر قلمك
على العدد المنقط وانطقه

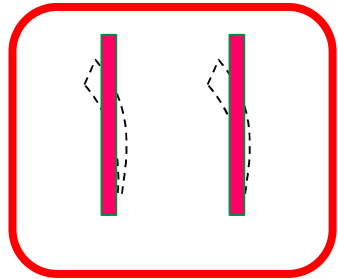





مثّل العدد في المربعات التالية واستعمل ورقة العمل (٢) وقطع العد لتمثل العدد.

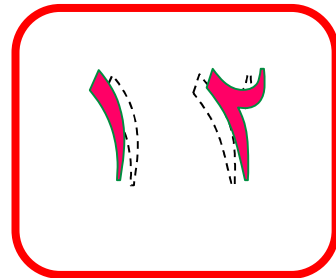


				٦	٥	٤	٣	٢	١
					١	١	١	٩	٨
									٧



مَرِّرْ قَلَمَكَ
عَلَى الْعَدَدِ الْمُنْقَطِ

٦

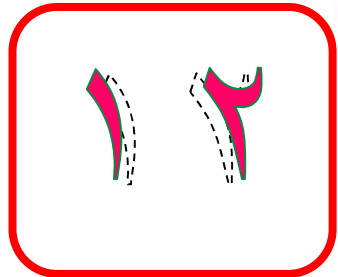




مثّل العدد في المربعات التالية واستعمل ورقة العمل (٢) وقطع العد لتمثل العدد.



				٦	٥	٤	٣	٢	١
				٦	٥	٤	٣	٢	١
				١	٢	١	١	١	١
				١	٢	١	١	١	١



نشاط منزلي

أحضر طبق بيض فارغاً، واطلب إلى طفلك أن يضع شيئاً واحداً مكان كل بيضة في الطبق، ثم اجعله يعد أحد عشر شيئاً، ويكتب العدد ١١، ويعد اثني عشر شيئاً، ويكتب العدد ١٢.

الأعداد



فكرة الدرس

أسمي الأعداد ١٣، ١٤، ١٥
وأميزهما، وأعدّها، وأكتبها باستعمال
أشياء ملموسة، ورسوم توضيحية.


المفردات



ثَلَاثَةَ عَشَرَ

أَرْبَعَةَ عَشَرَ

خَمْسَةَ عَشَرَ



١٥
خَمْسَةَ عَشَرَ

١٤
أَرْبَعَةَ عَشَرَ

١٣
ثَلَاثَةَ عَشَرَ



عد الأشياء التالية وانطق عددها

















		٨	٧	٦	٥	٤	٣	٢	١

١ ٣ ١ ٢ ١ ١ ١ ١ ٩



عد الأشياء التالية وانطق عددها

٢

	٩	٨	٧	٦	٥	٤	٣	٢	١
									
									

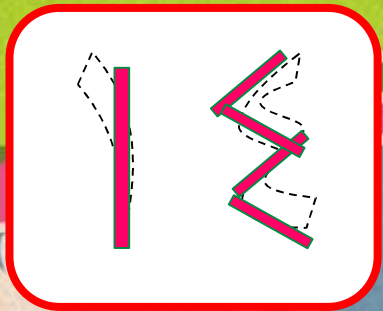
١ ٤ ١ ٣ ١ ٢ ١ ١ ١



مرّر قلمك على العدد المنقط واكتبه واستعمل ورقة العمل
(٢) وقطع العد لتوضح عددها

٢

	٩	٨	٧	٦	٥	٤	٣	٢	١					
					١	٤	١	٣	١	٢	١	١	١	١



عد الأشياء التالية وانطق عددها



١٠ ٩ ٨ ٧ ٦ ٥ ٤ ٣ ٢ ١

١ ٥ ١ ٤ ١ ٣ ١ ٢ ١ ١




مرّر قلمك على العدد المنقط واكتبه واستعمل ورقة العمل
(٢) وقطع العد لتوضح عددها



١٠ ٩ ٨ ٧ ٦ ٥ ٤ ٣ ٢ ١

١ ٥ ١ ٤ ١ ٣ ١ ٢ ١ ١



عد الأشياء التالية وانطق عددها

٤

	٩	٨	٧	٦	٥	٤	٣	٢	١
	🍪	🍪	🍪	🍪	🍪	🍪	🍪	🍪	🍪
					🍪	🍪	🍪	🍪	🍪

١ ٤ ١ ٣ ١ ٢ ١ ١ ١



استعمل ورقة العمل (٢) وقطع العد لتمثل
العدد ثم تكتبه.

٤

٩	٨	٧	٦	٥	٤	٣	٢	١



عد الأشياء التالية وانطق عددها



١٠ ٩ ٨ ٧ ٦ ٥ ٤ ٣ ٢ ١

١٥ ١٤ ١٣ ١٢ ١١



استعمل ورقة العمل (٢) وقطع العد لتمثل العدد ثم تكتبه.



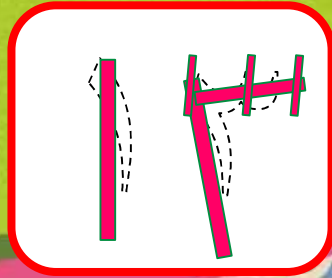
١٠	٩	٨	٧	٦	٥	٤	٣	٢	١

١٥ ١٤ ١٣ ١٢ ١١












مرّر قلمك على العدد المنقط وانطقه

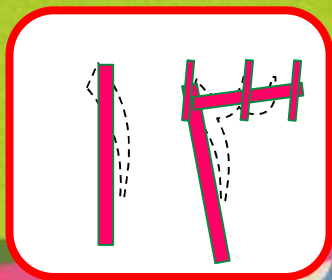
٦



استعمل ورقة العمل (٢) وقطع العد لتمثل العدد.

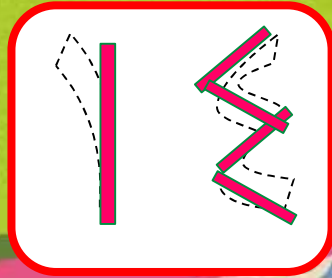
٦

١	٩	٨	٧	٦	٥	٤	٣	٢	١
									
									

















مرّر قلمك على العدد المنقط وانطقه

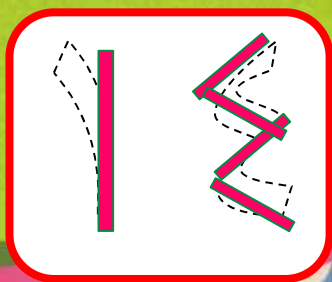
٧



استعمل ورقة العمل (٢) وقطع العد لتمثل العدد.

٧


١	٩	٨	٧	٦	٥	٤	٣	٢	١
									
									



١ ٤ ١ ٣ ١ ٢ ١ ١



نشاط منزلي



اطلب إلى طفلك أن يرسم دوائر، مكوناً
مجموعات من ١٣ و ١٤ و ١٥ دائرة، ثم
اطلب إليه أن يعد الدوائر في كل مجموعة. ثم
يكتب عددها.

العدادان




فكرة الدرس


أسمي العددين ١٦ ، ١٧ ، وأميزهما،
وأعدهما، وأكتبهما باستعمال أشياء
ملموسة، ورسوم توضيحية.



المفردات



١٧
سَبْعَةَ عَشَرَ



١٦
سِتَّةَ عَشَرَ

سِتَّةَ عَشَرَ

سَبْعَةَ عَشَرَ



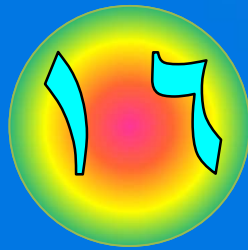
عد الأشياء التالية وانطق العدد، ثم استعمل ورقة
العد الملونة لتوضح العدد.



1 2 3 4 5 6 7 8 9 10

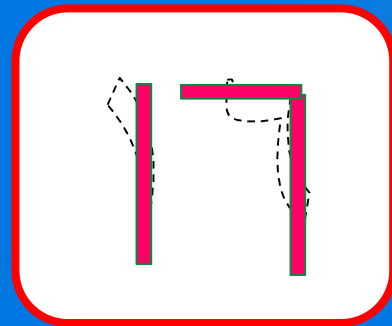
1 2 3 4 5 6 7 8 9 10



مرّر قلمك على العدد المنقط
واكتبه.

١ ٢ ٣ ٤ ٥ ٦ ٧ ٨ ٩ ١٠

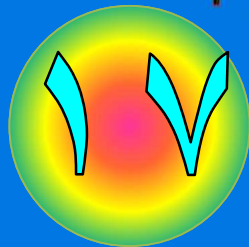
									
									
				١٦	١٥	١٤	١٣	١٢	١١



عد الأشياء التالية وانطق العدد، ثم استعمل ورقة
العد الملونة لتوضح العدد.

٢


١	٩	٨	٧	٦	٥	٤	٣	٢	١
									
									
			١٧	١٦	١٥	١٤	١٣	١٢	١١



مرّر قلمك على العدد المنقط
واكتبه.

٢

















١	٩	٨	٧	٦	٥	٤	٣	٢	١
									
									
			١٧	١٦	١٥	١٤	١٣	١٢	١١




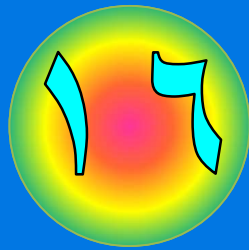
عد الأشياء التالية وانطق عددها.

٣

١ ٩ ٨ ٧ ٦ ٥ ٤ ٣ ٢ ١













									
									

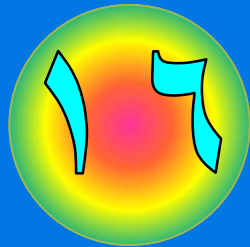
١ ٦ ١ ٥ ١ ٤ ١ ٣ ١ ٢ ١ ١



استعمل ورقة العمل (٢) وقطع العد لتمثل
العدد وتكتبه

٣

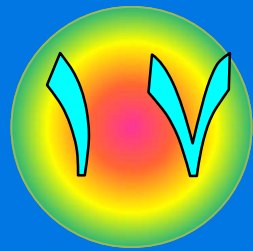
١	٩	٨	٧	٦	٥	٤	٣	٢	١
									
									
				٦	٥	٤	٣	٢	١



عد الأشياء التالية وانطق عددها.



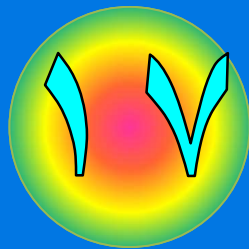
١	٩	٨	٧	٦	٥	٤	٣	٢	١
			١٧	١٦	١٥	١٤	١٣	١٢	١١



استعمل ورقة العمل (٢) وقطع العد
لتمثل العدد وتكتبه.

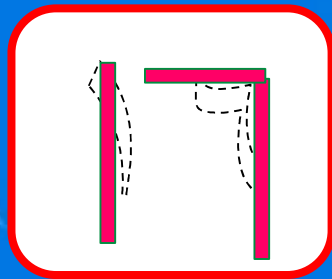


١	٢	٣	٤	٥	٦	٧	٨	٩	١٠
●	●	●	●	●	●	●	●	●	●
			●	●	●	●	●	●	●
			١٧	١٦	١٥	١٤	١٣	١٢	١١



مرّر قلمك
على العدد المنقط وانطقه



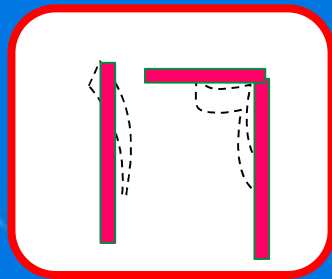


مِثْلُ العَدَدِ فِي المَرَبَعَاتِ التَّالِيَةِ



١	٠	٩	٨	٧	٦	٥	٤	٣	٢	١

١ ٦ ١ ٥ ١ ٤ ١ ٣ ١ ٢ ١ ١




مِرِّر قَلَمَكَ

عَلَى الْعِدَدِ الْمُنْقَطِ وَانطِقْهُ


















٦






مِثْلُ العدد في المربعات التالية

٦

١	١	٩	٨	٧	٦	٥	٤	٣	٢	١
										
										

١٧ ١٦ ١٥ ١٤ ١٣ ١٢ ١١



نشاط منزلي

باستعمال المكعبات المتداخلة، اطلب إلى طفلك أن يكون مجموعات من ١٦ مكعباً و ١٧ مكعباً، ثم اطلب إليه أن يوضح كيف تتكون كل مجموعة من ١٠ مكعبات و ٦ مكعبات. أو من ١٠ مكعبات و ٧ مكعبات، ثم شجعه أن يكتب العددين ١٦ ، ١٧ .

أحل المسألة




أبحث عن
نمط

فكرة الدرس




أحل مسائل على الأعداد من
١١ إلى ١٧ بالبحث عن نمط.




عد الريش
واكتب عدده

١٣



عد الريش
واكتب عدده

١٥



عد الريش
واكتب عدده


١٧





عد الريش
واكتب عدده



ثم اسأل الطالب هل
يلاحظ نمطاً؟ واطلب إليه
أن يحدده ويتحدث عنه.




عد الخضروات
واكتب عددها




عد الخضروات
واكتب عددها

١٣



عد الخضروات
واكتب عددها

١٦



عد الخضروات
واكتب عددها



ثم اسأل الطالب هل
يلاحظ نمطاً؟ واطلب إليه
أن يحدده ويتحدث عنه.

نشاط منزلي



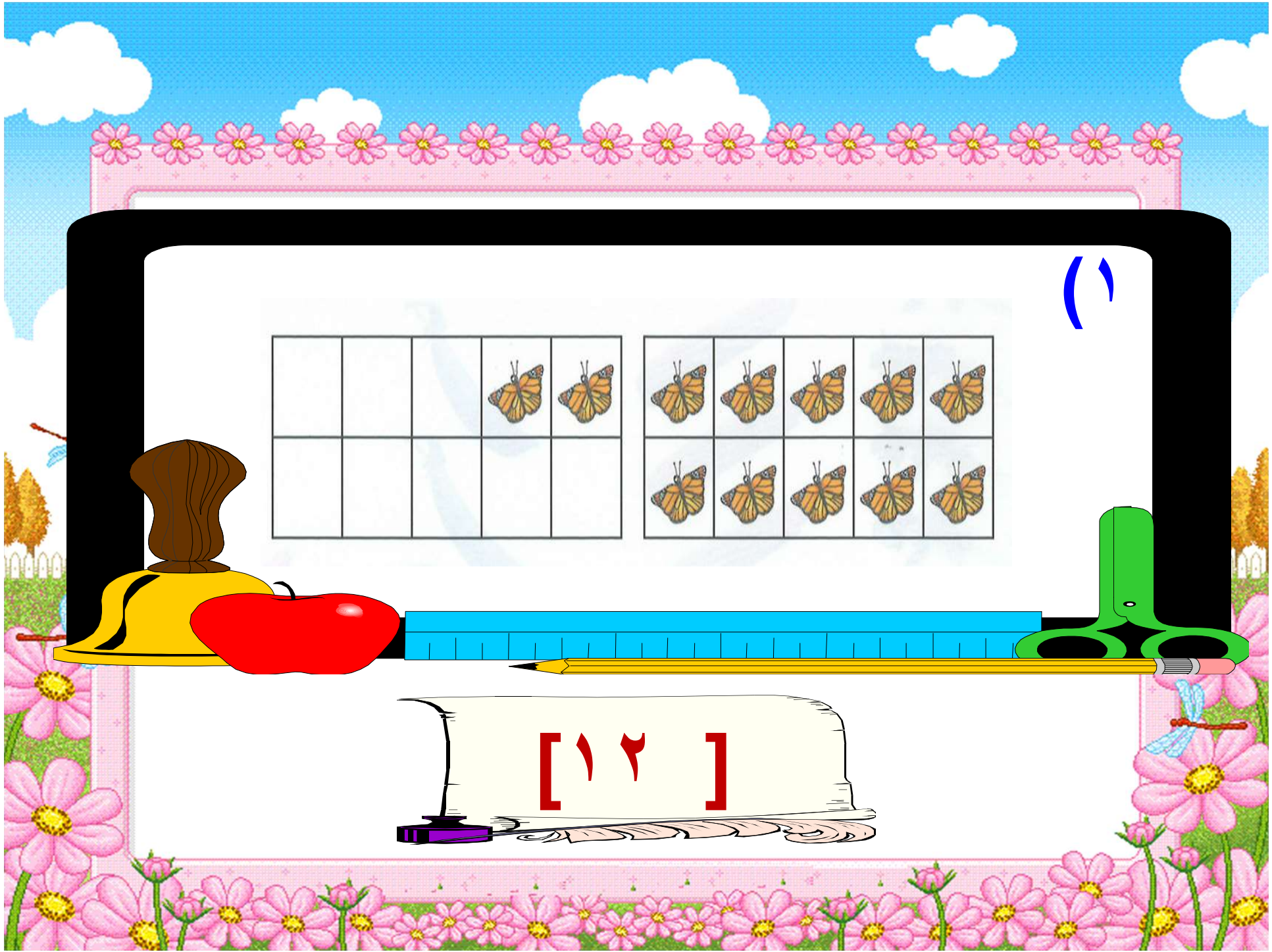
استفد من فرص حل المسألة في الأعمال اليومية المتكررة، واطلب إلى طفلك أن يعد السيارات والحافلات التي يراها في الشارع ويسجلها. ناقش معه الأنماط التي يلاحظها.













اختبار منتصف الفصل

الدروس ١ - ٤




عد الأشياء الآتية، وانطق عددها
ثم اكتبه في المكان المخصص

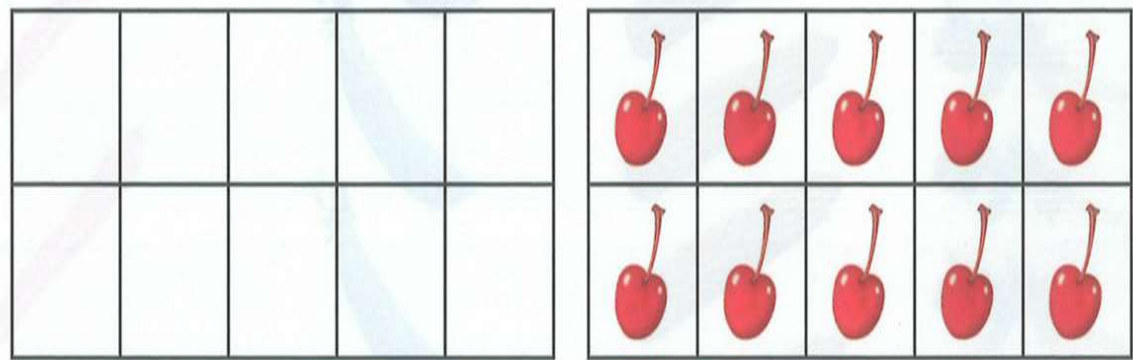


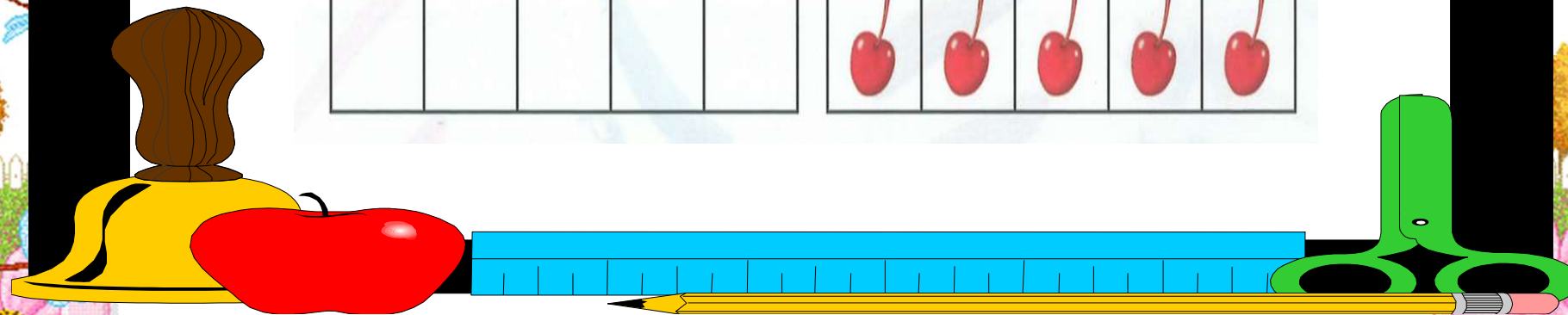
[١ ٢]



عد حبات الكرز.




٣



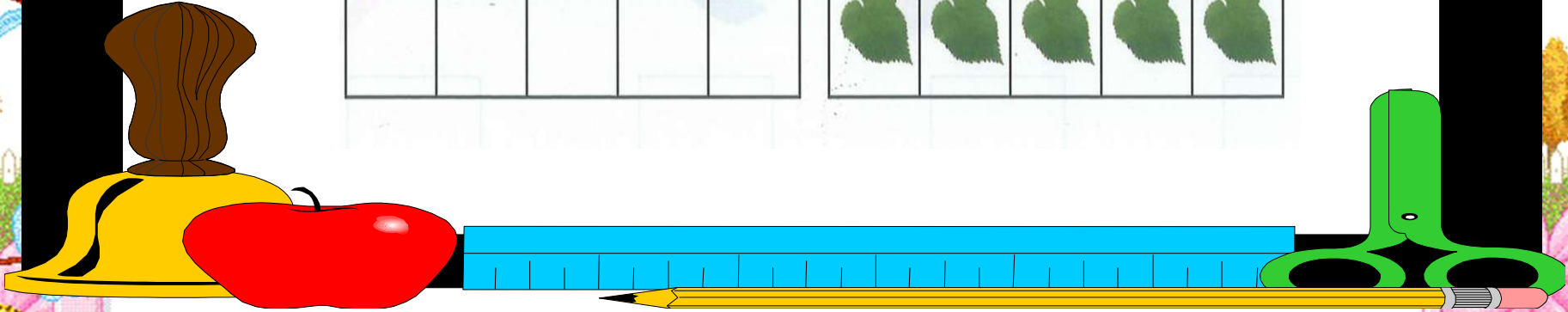

عدد حبات الكرز ١٠

ارسم المزيد من حبات الكرز للحصول
على العدد ١٤



عد الأوراق


٤





















عدد الأوراق ١٤

ارسم المزيد للحصول على العدد

١٧





									
									


(3)


مراجعة تراكمية

الفصول ١ - ٥


حوظ الشكل المكمل للنمط









عد الأشياء في كل صف، ثم اكتب
عددها.




٢

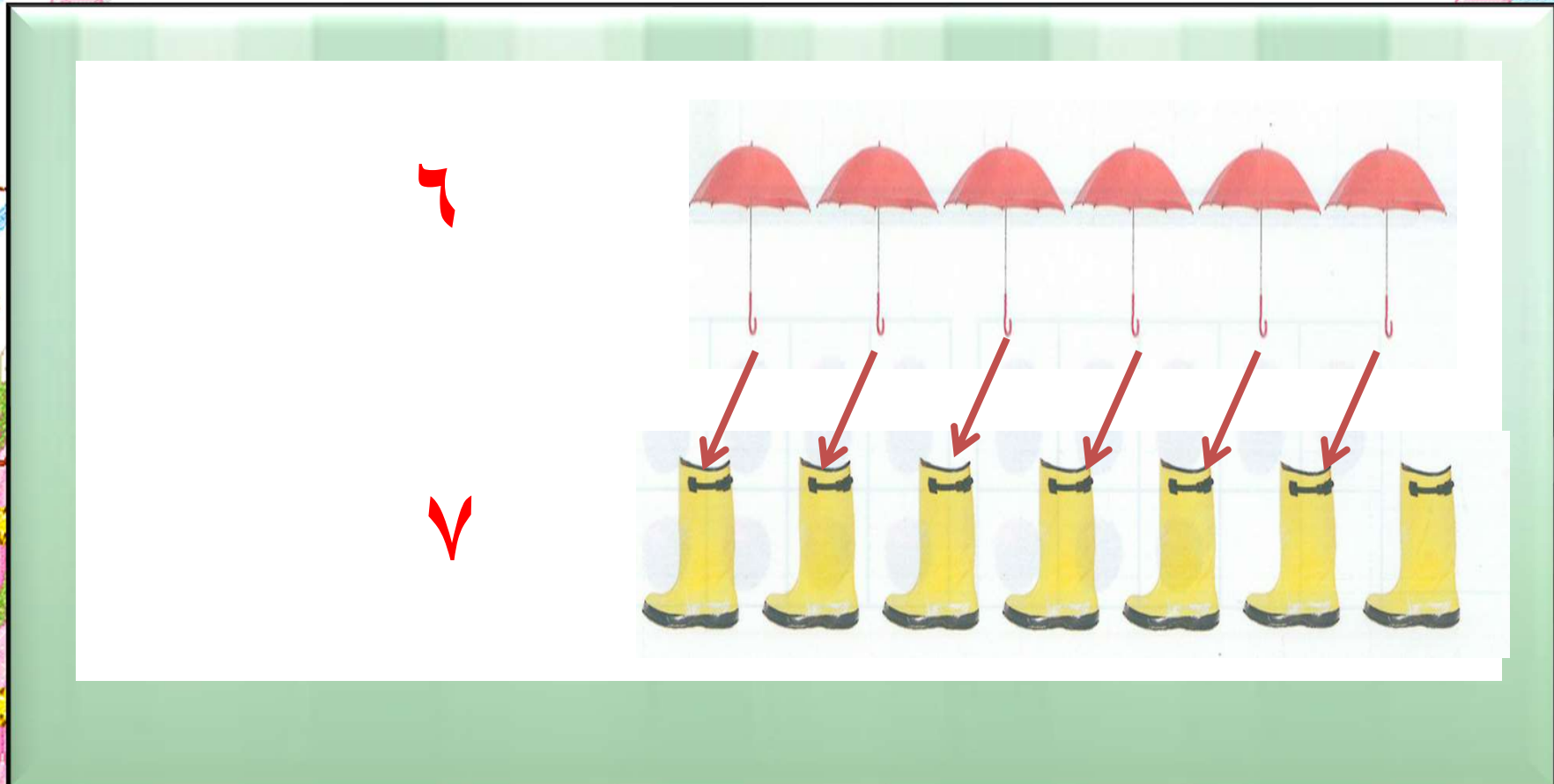



٧


















ثم صل بين المجموعتين





عد السمك، ثم اكتب عدده.




○

















ع نجم البحر ثم اكتب عدده




(٣)













٣


				
				
				



عد السرطان ثم اكتب عدده





3



الأعداد



فكرة الدرس

أسمي الأعداد ١٨ ، ١٩ ،
٢٠ ، وأميزها، وأعدّها،
وأكتبها باستعمال أشياء
ملموسة، ورسوم توضيحية.


المفردات



ثَمَانِيَةَ عَشَرَ


تِسْعَةَ عَشَرَ

عِشْرُونَ



٢٠

عِشْرُونَ



١٩

تِسْعَةَ عَشَرَ





















١٨

ثَمَانِيَةَ عَشَرَ



عد الأشياء التالية بدءاً من العدد عشرة ثم استعمل ورقة العمل (٢) وقطع العد لتوضح عددها.

١٠	٩	٨	٧	٦	٥	٤	٣	٢	١
									
									
١٨	١٧	١٦	١٥	١٤	١٣	١٢	١١		




مرّر قلمك على العدد المنقّط واكتبه






















10 9 8 7 6 5 4 3 2 1

1	8	7	6	5	4	3	2	1	1



عد الأشياء التالية بدءاً من العدد عشرة ثم استعمل
ورقة العمل (٢) وقطع العد لتوضح عددها

٢

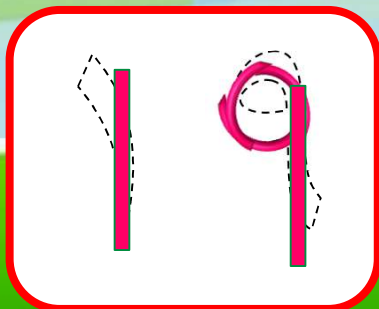
١٠	٩	٨	٧	٦	٥	٤	٣	٢	١
									
									
١٩	١٨	١٧	١٦	١٥	١٤	١٣	١٢	١١	١٠

١٩

مَرِّرْ قَلَمَكَ عَلَى الْعَدَدِ الْمُنْقَطِ وَارْتَبِهِ

٢

١٠	٩	٨	٧	٦	٥	٤	٣	٢	١
١٩	١٨	١٧	١٦	١٥	١٤	١٣	١٢	١١	١




عد الأشياء التالية بدءاً من العدد عشرة ثم
استعمل ورقة العمل (٢) وقطع العد لتوضح



عددها

١٠ ٩ ٨ ٧ ٦ ٥ ٤ ٣ ٢ ١

٢٠	١٩	١٨	١٧	١٦	١٥	١٤	١٣	١٢	١١



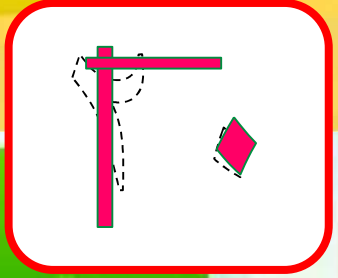
مرّر قلمك على العدد المنقط واكتبه



10 9 8 7 6 5 4 3 2 1

20 19 18 17 16 15 14 13 12 11


A grid of 20 tomatoes arranged in two rows of ten. Each tomato is inside a colored square frame. The top row has frames in yellow, blue, green, red, purple, yellow, blue, green, red, and yellow. The bottom row has frames in purple, green, cyan, green, pink, purple, green, cyan, green, and pink. Above the top row are numbers 10 to 1, and below the bottom row are numbers 20 to 11.



عد الأشياء التالية وانطق عددها

٤

١٠ ٩ ٨ ٧ ٦ ٥ ٤ ٣ ٢ ١



١٩ ١٨ ١٧ ١٦ ١٥ ١٤ ١٣ ١٢ ١١

١٩

استعمل ورقة العمل (٢) وقطع العدد؛



لتمثل العدد وتكتبه



















١٠	٩	٨	٧	٦	٥	٤	٣	٢	١
١٩	١٨	١٧	١٦	١٥	١٤	١٣	١٢	١١	١٠



عد الأشياء التالية وانطق عددها



١٠ ٩ ٨ ٧ ٦ ٥ ٤ ٣ ٢ ١

١٨ ١٧ ١٦ ١٥ ١٤ ١٣ ١٢ ١١





















استعمل ورقة العمل (٢) وقطع العدد؛

لتمثل العدد وتكتبه



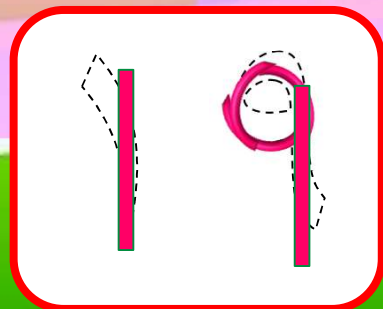
١٠ ٩ ٨ ٧ ٦ ٥ ٤ ٣ ٢ ١

									
									
		١٨	١٧	١٦	١٥	١٤	١٣	١٢	١١






















مرر قلمك على العدد المنقط وانطقه

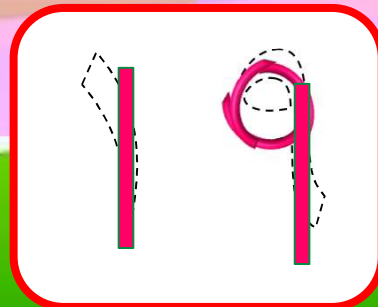
٦



مِثْلُ العَدَدِ فِي المَرَبَعَاتِ التَّالِيَةِ

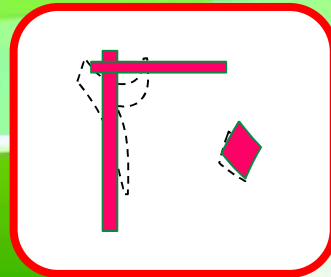
٦

١٠	٩	٨	٧	٦	٥	٤	٣	٢	١
									
									
١٩	١٨	١٧	١٦	١٥	١٤	١٣	١٢	١١	١



قلمك على العدد المنقط وانطقه























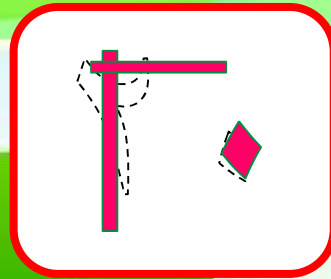


مِثْلُ العَدَدِ فِي المَرَبَعَاتِ التَّالِيَةِ



١ ٠ ٩ ٨ ٧ ٦ ٥ ٤ ٣ ٢ ١



نشاط منزلي

احضر حصاله نقود. ثم اطلب إلى طفلك أن يحضر أوراقاً نقدية من فئة الريال الواحد ويضعها في مجموعات تحوي ١٨ ورقة، و ١٩ ورقة، و ٢٠ ورقة، ثم اطلب إليه أن يضع المجموعة التي تحوي ١٨ ريالاً في الحصاله ويكتب العدد. كرر العملية مع المجموعات الأخرى.

مقارنة الأعداد

حتى

٢.



فكرة الدرس

أعد الأعداد حتى ٢٠ وأقارنها
لتحديد أي المجموعات أكثر
عدداً، وأيها أقل عدداً، وأيها
له العدد نفسه.

عد الأشياء التي في كل طبق و اكتب عددها



١٤



١٦

أَكْثَرُ مِنْ

عد الأشياء التي في كل طبق واكتب عددها




١٦

أقل من




١٤

عد الأشياء التي في كل طبق و اكتب عددها



٢٠



٢٠

يساوي

تصنيف

عد الأشياء التي في كل طبق واكتب
عددها



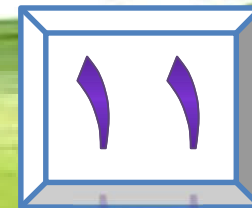
١٥



١١

أقل من

ضع علامة × على العدد الذي يمثل المجموعة الأكبر



عد الأشياء التي في كل طبق واكتب عددها

٢



١٩



٢٠

ضع علامة x على العدد الذي يمثل
المجموعة الأكبر

٢



١٩



~~٢٠~~

عد الأشياء التي في كل طبق واكتب عددها

٣




١٤



١٢

ضع علامة x على العدد الذي يمثل المجموعة الأكبر إن وجد وإذا
تساوى عدد الأشياء في المجموعتين ضع 0 حول المجموعتين
المتساويتين



عد الأشياء التي في كل طبق واكتب عددها

٤



١٨




١٨

ضع علامة x على العدد الذي يمثل المجموعة الأكبر إن
وجد وإذا تساوى عدد الأشياء في المجموعتين ضع 0
حول المجموعتين المتساويتين.




عد الأشياء التي في كل طبق واكتب عددها

٥

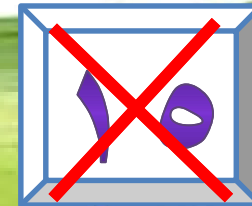


١٤






١٥




ضع علامة x على العدد الذي يمثل المجموعة الأكبر إن وجد وإذا
تساوى عدد الأشياء في المجموعتين ضع 0 حول المجموعتين
المتساويتين



ارسم 0 على الصحن بمقدار العدد المكتوب في الأسفل.



٦ ضع × على العدد الأقل.



نشاط منزلي

كون مجموعات من الأزرار، بحيث يكون عددها في كل مجموعة ضمن العدد ٢٠، ثم اطلب إلى طفلك أن يعد الأزرار في كل مجموعة، ثم يخبرك: أي المجموعات هي الأكثر عدداً، وأيها هي الأقل عدداً، وأي المجموعات متساوية؟



تربيت الأعداد

حتى

٢٠



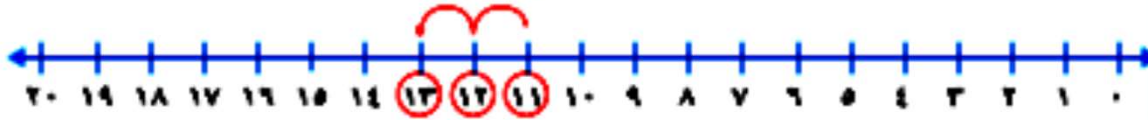
فكرة الدرس

أرتب الأعداد من صفر إلى ٢٠
باستعمال خط الأعداد.

المفردات



١٢	قَبْلَ	١١
١٢	بَعْدَ	١٣
١٣ و ١١	بَيْنَ	١٢

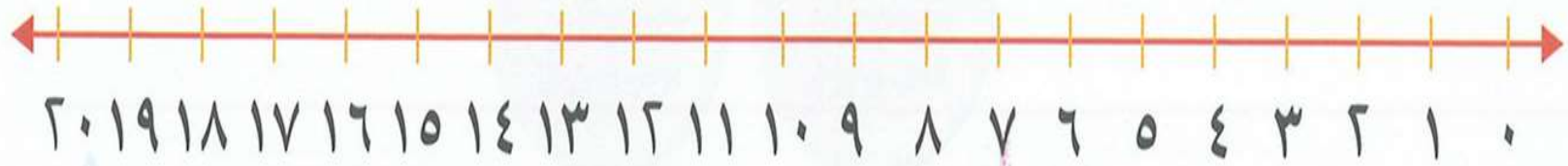


قَبْلَ

بَعْدَ

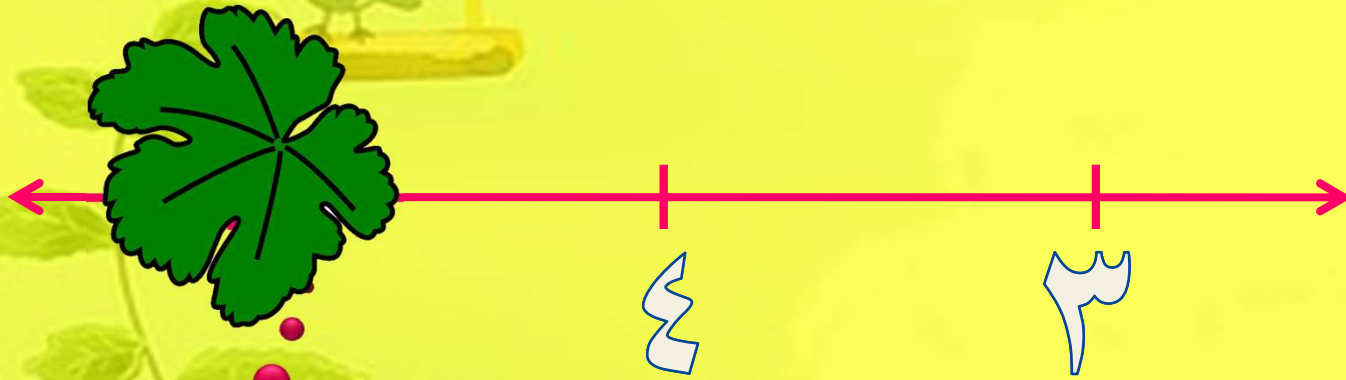
بَيْنَ

خط الأعداد



خط الأعداد

اكتب العدد المغطى
بورقة الشجرة في
الفراغ



٢
اكتب العدد المغطى
بورقة الشجرة في
الفراغ



اكتب العدد المغطى
بورقة الشجرة في
الفراغ

٣



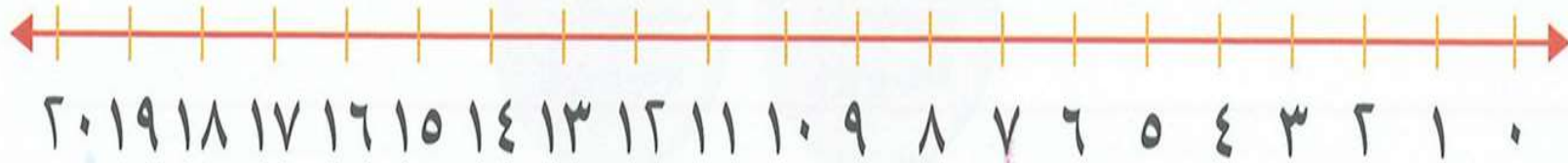
١ ٧

١ ٦

١ ٥

اكتب العدد المغطى
بورقة الشجرة في
الفراغ

٩



20 19 18 17 16 15 14 13 12 11 10 9 8 7 6 5 4 3 2 1 0 .

خط الأعداد

اكتب العدد المغطى
بورقة الشجرة في
الفراغ




١ ٩

١ ٨



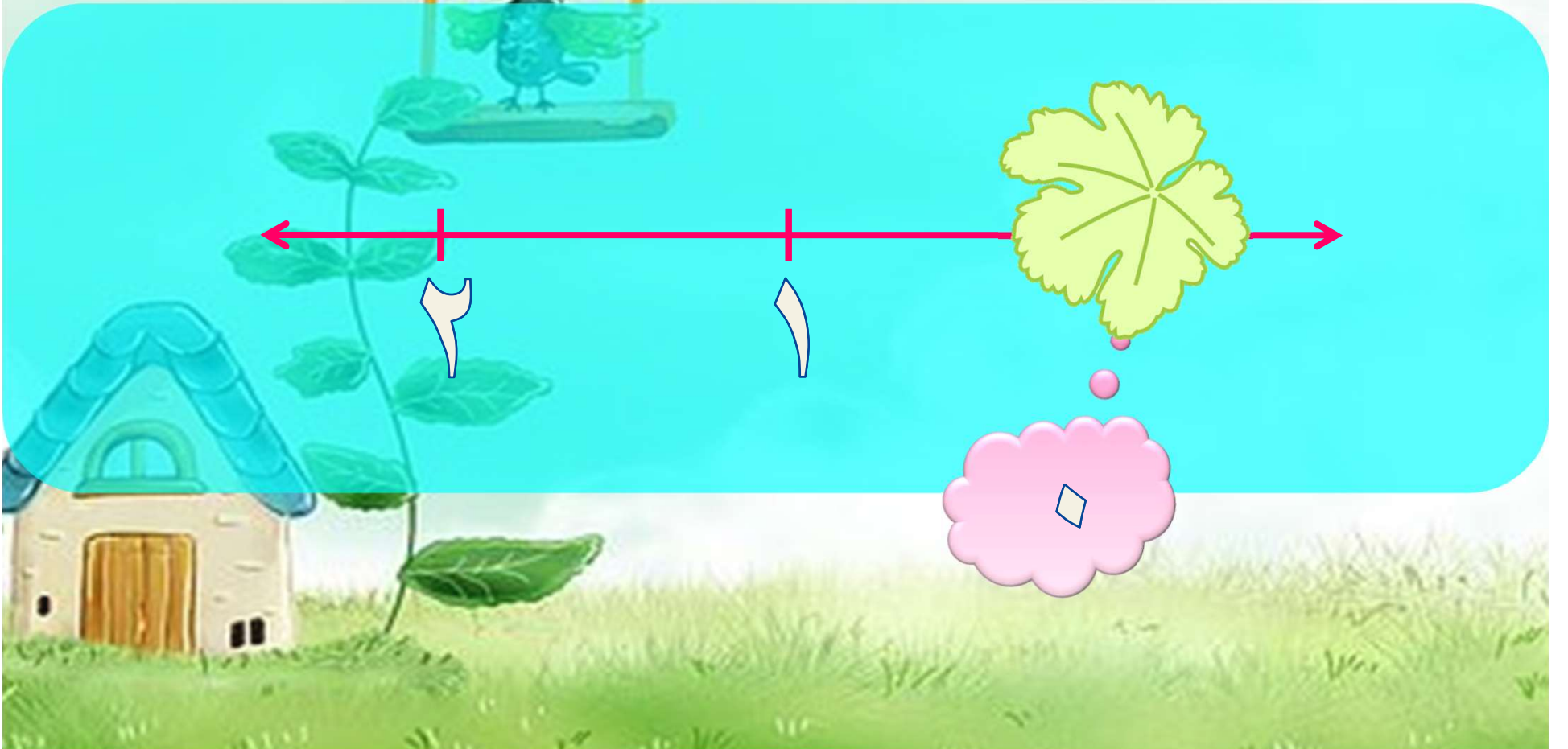
اكتب العدد المغطى بورقة
الشجرة في الفراغ



اكتب العدد المغطى بورقة
الشجرة في الفراغ

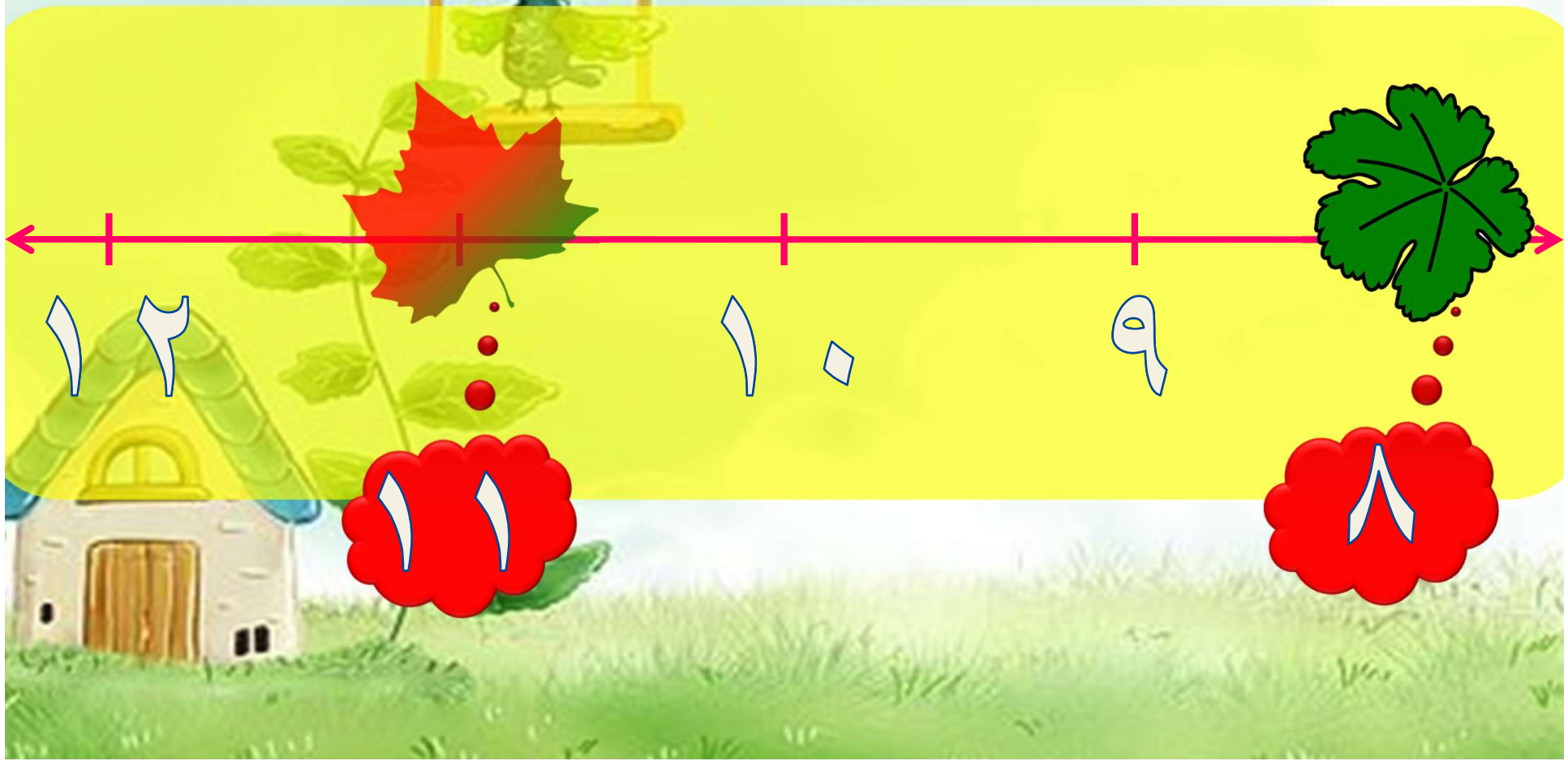


اكتب العدد المغطى بورقة
الشجرة في الفراغ

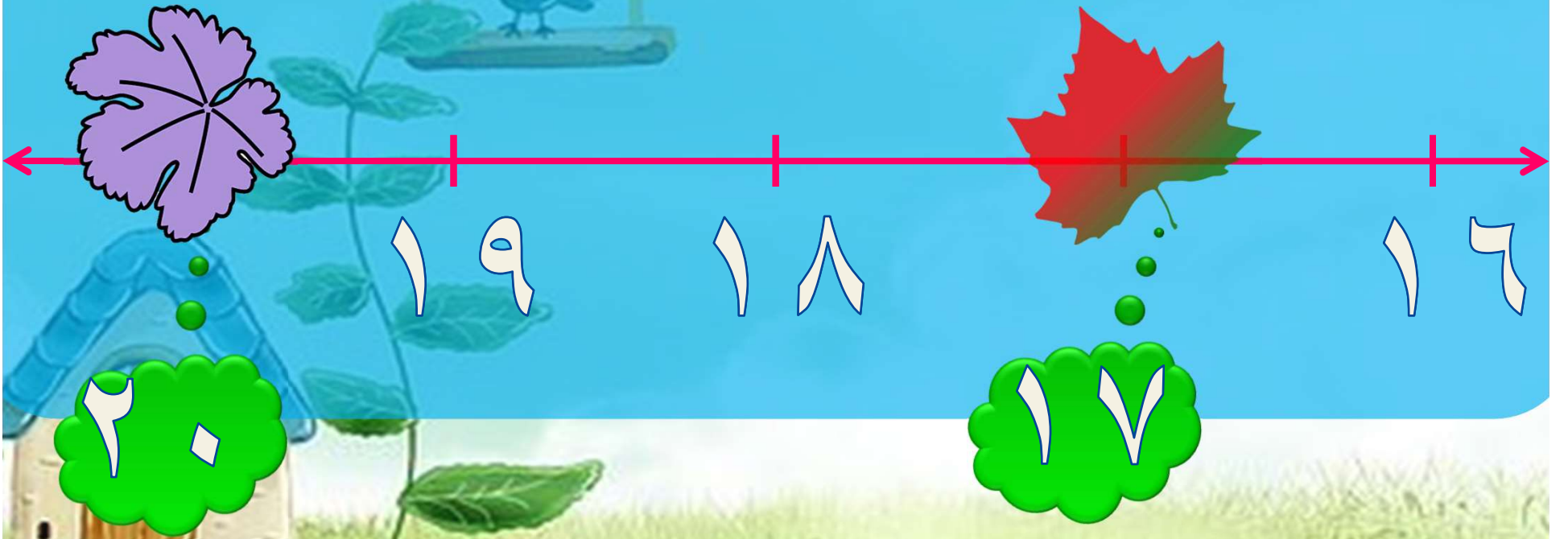


اكتب العدد المغطى
بورقة الشجرة في
الفراغ

٩



اكتب العدد المغطى
بورقة الشجرة في
الفراغ



نشاط منزلي

قص مربعات صغيرة، ثم اطلب إلى طفلك أن يرقمها بالأعداد من (٠ إلى ٢٠). وأعرض عليه خمسة أعداد متتالية، ثم احذف أحدها، ثم اطلب إليه أن يجد العدد المفقود.